



۱- جاهای خالی را با اعداد مناسب کامل کن.



$$30 + 5 = 35$$

$$شصت و پنج - شصت = 5$$

صد - نود

۷۷ - ۷۸

۲- حاصل جمع های زیر را بنویس و سپس با توجه به جواب جمع، جاهای خالی را کامل کن.

$$10 + 5 + 5 + 5 = \dots$$

$$20 + 10 + 5 + 5 = \dots$$

$$10 + 30 + 5 + 5 = \dots$$

با عدد:

با عدد:

با عدد:

با حروف:

با حروف:

با حروف:

۳- جواب تفریق های زیر را به دست بیاور.

$$35 - 5 = \dots$$

$$55 - 5 = \dots$$

$$40 - 20 = \dots$$

$$30 - 20 = \dots$$

$$25 - 5 = \dots$$

$$45 - 5 = \dots$$

$$20 - 10 = \dots$$

$$50 - 10 = \dots$$



۱ ۲ ۳ ۴ ۵

۴- جاهای خالی را با توجه به شکل کامل کن.

شمع شماره ۱ ----- شمع شماره ۲ است.

شمع شماره ۱ ----- بلندترین شمع است.

شمع شماره ۱ ----- کوتاه ترین شمع است.



علوی

بنام خداوند جان و خرد

پایه:



موضوع:

تاریخ:

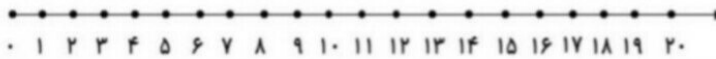
نام و نام خانوادگی:

هدف:

۶- جواب هر مسئله را با کمک شکل به دست بیاور و سپس روی محور نشان بده.

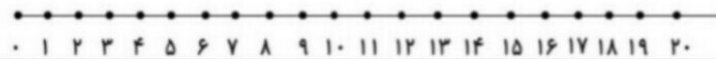
۱۵ فرشته در اتاق بودند. ۵ فرشته دیگر هم آمدند. ۷ تا از فرشته ها به آسمان رفتند.

حالا چند فرشته در اتاق هستند؟



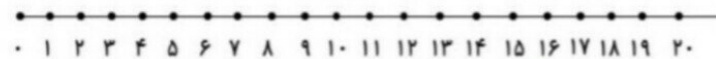
۱۶ شکلات در دکان بود. معصومه ۷ شکلات خرید. آذر هم ۵ شکلات خرید.

چند شکلات در دکان باقی ماند؟



۱۷ دوچرخه به مسابقه آمده بود. ۹ دوچرخه پنچر شد. حالا چند دوچرخه می تواند در مسابقه شرکت

کند؟



بازخورد:

Blank lines for feedback.

