


نام و نام خانوادگی

تاریخ

موضوع:

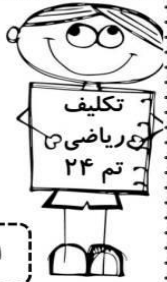
هدف:

پایه ی اول
به نام خدای خوب



نام زیبای من:

تاریخ:



تکلیف
ریاضی
تم ۲۴


۱- جاهای خالی را با اعداد مناسب کامل کن.

۱۱	۸۰	۶۹	۹۴	۸۷	۱۹	۵۵
-----	-----	-----	-----	-----	-----	-----

۳۴ - ۳۶ - ۳۸ -----

۲۷ - ۳۷ - ۴۷ -----

۲- با توجه به شکل روبه رو مسئله را کامل کن و با کمک محور حل کن.



علی ----- بادکنک در دست داشت. ----- بادکنک از دستش رها شد و به آسمان رفت. حالا ----- ؟

.....

۰ ۱ ۲ ۳ ۴ ۵ ۶ ۷ ۸ ۹ ۱۰ ۱۱ ۱۲ ۱۳ ۱۴ ۱۵ ۱۶ ۱۷ ۱۸ ۱۹ ۲۰

۳- جواب جمع ها و تفریق های زیر را به دست بیاور و علامت <=> بگذار.

۶۰ - ۲۰ ○ ۶۰ - ۱۰	۹۰ - ۳۰ ○ ۳۰ + ۴۰	۷۰ - ۵۰ ○ ۵۰ - ۳۰
۵۰ + ۲۰ ○ ۳۰ - ۲۰	۲۰ - ۵ ○ ۲۰ - ۱۰	۶۰ + ۲۰ ○ ۱۰ + ۸۰

۴- با توجه به اعداد جاهای خالی را کامل کن.

----- ده تایی و ----- یکی می شود

----- با حروف: ۵۴

----- ده تایی و ----- یکی می شود

----- با حروف: ۱۳

----- ده تایی و ----- یکی می شود

----- با حروف: ۷۶

----- ده تایی و ----- یکی می شود

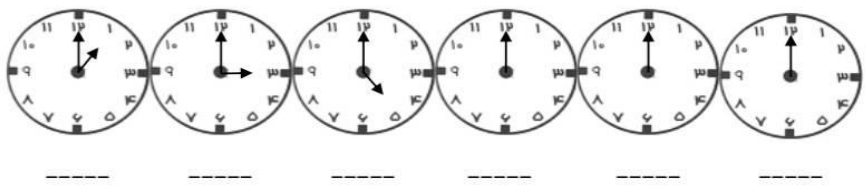
----- با حروف: ۹۰





نام و نام خانوادگی: _____ تاریخ: _____ موضوع: _____ هدف: _____

۵- با توجه به الگو عقربه های ساعت ها را بکش و زمان هر کدام را بنویس.




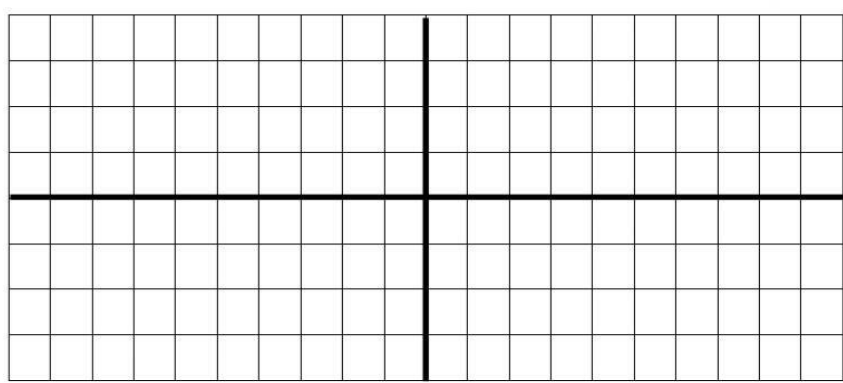
۶- مسئله ها را با دقت بخوان و اگر اطلاعات مسئله کافی است آن ها را حل کن. روی اطلاعات اضافه ی مسئله خط بزن.

دانش آموزان کلاس اول و دوم دبستان ادب ۴۵ نفر هستند. در مسابقه ی فوتبال کلاس اولی ها ۲ گل زدند و کلاس دومی ها ۳ گل زدند. آن ها روی هم چند گل زدند؟

در دبستان شهید بهشتی ۳۰ دانش آموز در کلاس اول و ۴۰ دانش آموز در کلاس دوم درس می خوانند. این دو کلاس چند دانش آموز دارد؟

۱۵ مهمان در سالن پذیرایی نشسته بودند. ۲۵ میوه در ظرف بود. مهمان ها ۱۸ میوه را خوردند. حالا چند مهمان در سالن غذا خوری نشسته اند؟

۷- یک طرح فرش با سلیقه ی خودت بزن.





نام و نام خانوادگی: _____ تاریخ: _____ موضوع: _____ هدف: _____

پایه ی اول
به نام خدای خوب

نام زیبای من: _____

تاریخ: _____

۱- جاهای خالی را با اعداد مناسب کامل کن.

۱۹	-----	۱۰۰	-----	۲۱	-----	۸۳
-----	نود و سه	-----	چهل و نه	-----	دوازده	-----

۷۸ - ۸۰ - ۸۲ -----

۵۵ - ۵۶ - ۵۷ -----

۲- برای محور یک مسئله بنویس و آن را حل کن.

۳- مسئله را با توجه به شکل حل کن.

مادر علی ۲۸ کاموا داشت. او با ۷ کاموا کلاه بافت. با ۷ کاموای دیگر شال گردن بافت. چند کاموا برای او باقی مانده است؟

۴- با توجه به اعداد جاهای خالی را کامل کن.

ده تایی و یکی می شود ----- ده تایی و ----- یکی می شود ----- با حروف: ----- ده تایی و یکی می شود ----- با حروف: -----		ده تایی و یکی می شود ----- ده تایی و ----- یکی می شود ----- با حروف: ----- ده تایی و یکی می شود ----- با حروف: -----
۱۸	۳۴	۴۳
۸۱	۸۱	۸۱





نام و نام خانوادگی: _____ تاریخ: _____ موضوع: _____ هدف: _____

۵- نام شکل های زیر را بنویس.

۶- با توجه به هر ساعت جاهای خالی را کامل کن. (عقربه ی پر رنگ عقربه ی ساعت شمار است.)

ساعت بین و است. ساعت بین و است. ساعت بین و است.

ساعت بین و است. ساعت بین و است. ساعت بین و است.

۷- مسئله ها را از هر راهی که دوست داری حل کن.

۹ کیوی و ۸ پرتقال در ظرف بود. مهمان ها ۶ میوه را خوردند. چند میوه در ظرف مانده است؟

۵ ماشین پژو و ۷ ماشین پراید در گاراژ پارک بودند. ۴ ماشین از گاراژ خارج شدند. چند ماشین در گاراژ مانده اند؟

۸- یک طرح فرش با سلیقه ی خودت بزن.

باز خورد آموزگار

