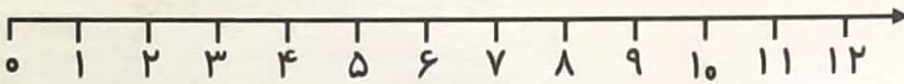


برای هر مسئله شکل ساده بکش. با استفاده از محور جواب را پیدا کن

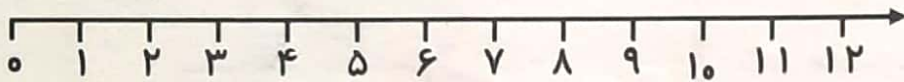
آزاده ۶ کتاب داستان داشت. ۳ کتاب دیگر هم خرید.

حالا چند کتاب دارد؟



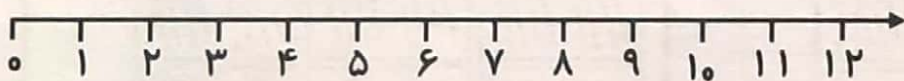
۱۰ میمون در جنگل بازی می کردند. ۴ تا از آن ها رفتند.

حالا چند میمون مانده است؟



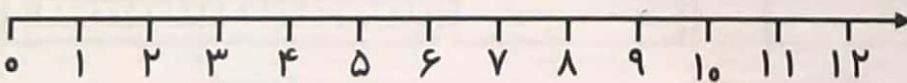

۵ سیب زیر درخت افتاده بود. ۴ سیب دیگر هم افتاد.

چند سیب از درخت افتاده است؟



فرزاد ۱۲ ماژیک داشت. ۳ تا از آن ها را گم کرد.

حالا فرزاد چند ماژیک دارد؟



$۲۰ + ۲۰ + ۵ =$

$۳۰ + ۵ + ۳ =$

$۵۰ + ۵ - ۵ =$

$۱۰ + ۵ + ۴ =$

$۲۰ + ۵ + ۱۰ =$

$۱۰ + ۳ + ۱۰ =$

$۱۰ + ۵ + ۵ =$

$۲۰ + ۵ + ۱۰ =$

$۳۰ + ۱۰ + ۶ =$

$۴۰ + ۲۰ - ۱۰ =$

$۳۰ + ۶ + ۱۰ =$

$۴۰ + ۵ + ۵ =$