

طرح سنجش استعداد: مداد قرمز ۴ - توصیفی

هفته چهارم اردیبهشت زمان: ۷۵ دقیقه

نام خانوادگی:


نام:

شماره ملی:

شعبه: کلاس:

۳) گزینه‌ی صحیح را مشخص کنید.

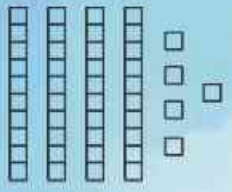
الف) چوب خطها چه عددی را نشان می‌دهند؟



۱۴ (۲)

۱۹ (۱)

ب) دسته‌های زیر چه عددی را نشان می‌دهد؟



۴۵ (۲)

۵۴ (۱)

۴) جاهای خالی را با عدد مناسب کامل کنید.

الف) $۱۰ + ۱۰ + ۵ + ۵ = \dots$

ب) $۲۰ + ۲۰ + ۵ - ۵ = \dots$

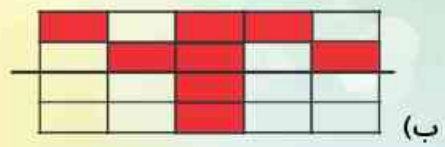
پ) $۲۰ + ۱۰ + ۱۰ + ۱۰ = \dots$

ت) $۱۰ + ۲۰ - ۱۰ + ۴ = \dots$

۱) هر دسته را به عدد مناسب خود وصل کنید.

| | | | |
|---|---|--|------------------|
| • | • | | الف) ۱۲ (۱) |
| • | • | | ب) ۲) چهل و چهار |
| • | • | | پ) ۱۹ (۳) |
| • | • | | ت) ۴) سی و هفت |

۵) نیمه‌ی دیگر هر شکل را بکشید.

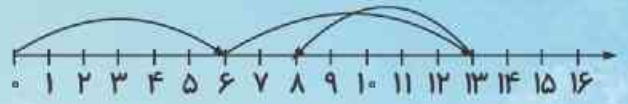


۲) درستی یا نادرستی جملات زیر را مشخص کنید.

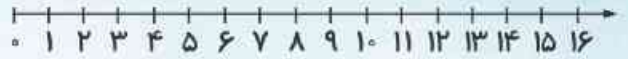
| | | |
|--------------------------|--------------------------|---------------------------------------|
| نادرست | درست | الف) پنج تا بعد از عدد ۸۵ می‌شود ۹۵. |
| <input type="checkbox"/> | <input type="checkbox"/> | ب) از سنگین‌تر است. |
| <input type="checkbox"/> | <input type="checkbox"/> | پ) عدد بعدی در الگوی زیر، عدد ۲۵ است. |
| <input type="checkbox"/> | <input type="checkbox"/> | ت) نام این شکل مربع است. |

۶) محورهای زیر را حل کنید.

(الف)



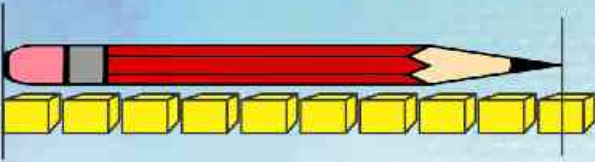
(ب)



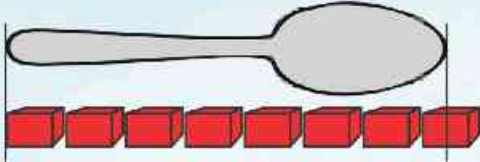
$$6 + 4 + 6 =$$

۹) اندازه گیری کنید.

الف) اندازه‌ی مداد بین و است.



ب) اندازه‌ی فاشق کوتاه‌تر از است.



۱۰) امیر ۱۷ مداد رنگی داشت. ۴ تا مداد دیگر هم خرید. امیر ۵ مداد رنگی را به علی داد. امیر چند مداد رنگی دارد؟

۷) زمانی که هر ساعت نشان می‌دهد را بنویسید.

الف) ساعت است.



ب) زمان بین و است.



پ) ساعت از گذشته است.



۸) جدول شگفت‌انگیز را کامل کنید.

| | | | | | | | | |
|---|---|---|---|---|-----|---|---|---|
| ۴ | ۱ | ۵ | ۲ | ۶ | الف | ۹ | ۸ | ۲ |
| ۲ | ۳ | ۶ | ۵ | ۸ | ۲ | ۷ | ۴ | ۱ |
| ۷ | ۲ | ۸ | ۱ | ۹ | ۴ | ۲ | ۵ | ۶ |
| ۱ | ۲ | ۹ | ۳ | ۴ | ۶ | ۵ | ۲ | ۷ |
| ۵ | ۸ | ۲ | ۷ | ۲ | ۹ | ۱ | ۶ | ۴ |
| ۶ | ۷ | ت | ۲ | ۱ | س | ۳ | ۹ | ۲ |
| ۸ | ۵ | ۷ | ۴ | ۲ | ج | ۵ | ۲ | ۹ |
| ۲ | ۶ | ۱ | ۹ | ۵ | ۲ | ۴ | ۷ | ۸ |
| ۹ | ۴ | ۲ | ۶ | ۷ | ۸ | ۲ | ۱ | ۵ |

