

در جاهای خالی عدد مناسب بنویس.

$۲۰ - ۱۰ = \square$

$۱۰ - ۵ = \square$

$۲۵ - ۵ = \square$

$۵۰ - ۴۰ = \square$

$۹۰ - ۲۰ = \square$

$۲۰ - ۲۰ = \square$

$۶۰ - ۱۰ = \square$

$۳۰ - ۵ = \square$

$۳۰ - ۱۰ = \square$

$۷۰ - ۶۰ = \square$

$۴۵ - ۱۰ = \square$

$۱۸ - ۸ = \square$

$۲۰ - ۵ = \square$

$۸۰ - ۶۰ = \square$

$۳۹ - ۹ = \square$

۳ جاهای خالی را با عدد مناسب پر کن.

$5 + 5 + 5 = \square$

$10 + 10 + 5 + 5 + 5 = \square$

$20 + 10 + 5 - 5 = \square$

$25 + 5 + 5 - 5 = \square$

$20 + 20 + 8 + 2 = \square$

$10 + 20 - 10 - 5 = \square$

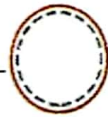
$6 + 4 + 10 = \square$

$7 + 2 + 20 - 5 = \square$

$9 + 1 + 10 + 10 = \square$

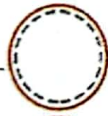
۴ جواب جمع و تفریق را بنویس، مقایسه کن و علامت مناسب $\langle = \rangle$ را قرار بده.

$15 + 5 = \square$



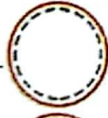
$70 - 20 = \square$

$30 + 10 = \square$



$15 + 10 = \square$

$20 + 5 + 5 = \square$



$10 + 10 + 10 = \square$

$30 + 20 = \square$



$20 + 10 - 5 = \square$

$7 + 8 = \square$



$10 + 5 = \square$