









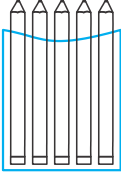
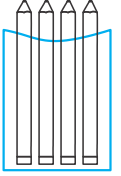
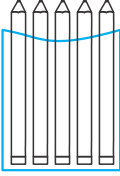



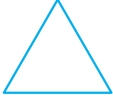









مدت پاسخ گویی
۶۰ دقیقه

نام و نام خانوادگی: نام کلاس: نام آموزگار:

بارم	سؤالات ریاضی اول دبستان (صفحه اول)	ردیف
۰/۷۵ نمره	<p>گلم، دسته‌هایی که تعداد شکل‌هایش اندازه‌ی چینه‌ها است را با خط‌کش به هم وصل کن.</p>	۱
۱ نمره	<p>نازنینم، الگوی صحیح را پیدا کن، آن را ادامه بده و دور شکل‌های تکرارشونده خط بسته بکش.</p>	۲
۰/۷۵ نمره	<p>دلبندم، اندازه‌ی هر شکل چند تا گیره است؟ عدد مربوط به آن را بنویس.</p>	۳
۱ نمره	<p>عزیزم، گوشه‌ها را رنگ کن و به تعداد لبه‌های هر شکل، داخل آن دایره بکش.</p>	۴
بارم	سؤالات ریاضی اول دبستان (صفحه دوم)	ردیف



مدت پاسخ‌گویی
۶۰ دقیقه

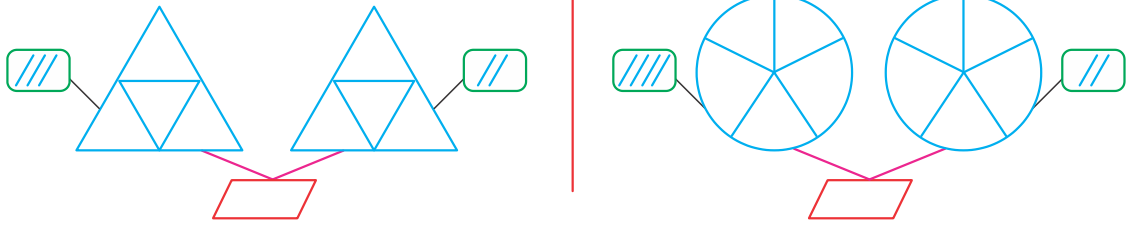
<p>۱/۵ نمره</p>	<p>با کشیدن چوب‌خط حساب کن شکل‌های سمت چپ و راست با هم چند تا می‌شود؟ عدد آن‌ها را هم بنویس.</p> <div style="display: flex; justify-content: space-around; align-items: flex-start;"> <div style="text-align: center;">  </div> <div style="text-align: center;">  </div> <div style="text-align: center;"> <input style="width: 50px; height: 30px; border: 1px solid green;" type="text"/> <input style="width: 20px; height: 20px; border: 1px solid black; border-radius: 50%;"/> </div> </div> <div style="display: flex; justify-content: space-around; align-items: flex-start; margin-top: 10px;"> <div style="text-align: center;">  </div> <div style="text-align: center;">  </div> <div style="text-align: center;"> <input style="width: 50px; height: 30px; border: 1px solid green;" type="text"/> <input style="width: 20px; height: 20px; border: 1px solid black; border-radius: 50%;"/> </div> </div> <div style="display: flex; justify-content: space-around; align-items: flex-start; margin-top: 10px;"> <div style="text-align: center;">  </div> <div style="text-align: center;">  </div> <div style="text-align: center;"> <input style="width: 50px; height: 30px; border: 1px solid green;" type="text"/> <input style="width: 20px; height: 20px; border: 1px solid black; border-radius: 50%;"/> </div> </div>	<p>۵</p>
<p>۱ نمره</p>	<p>در هر قسمت آن‌هایی که تعداد برابر دارند را رنگ بزن و عدد آن‌ها را دو طرف علامت (=) بنویس.</p> <div style="display: flex; justify-content: space-around; align-items: center; margin-bottom: 20px;"> <div style="border: 1px solid blue; border-radius: 50%; padding: 5px; text-align: center;">مدادها را بشمار.</div> <div style="text-align: center;">  </div> <div style="text-align: center;">  </div> <div style="text-align: center;">  </div> <div style="margin-left: 20px;"> <p>→ <input style="width: 50px; height: 20px; border: 1px solid green;" type="text"/> = <input style="width: 50px; height: 20px; border: 1px solid green;" type="text"/></p> </div> </div> <div style="display: flex; justify-content: space-around; align-items: center;"> <div style="border: 1px solid blue; border-radius: 50%; padding: 5px; text-align: center;">دکمه‌ها را بشمار.</div> <div style="text-align: center;">  </div> <div style="text-align: center;">  </div> <div style="text-align: center;">  </div> <div style="margin-left: 20px;"> <p>→ <input style="width: 50px; height: 20px; border: 1px solid green;" type="text"/> = <input style="width: 50px; height: 20px; border: 1px solid green;" type="text"/></p> </div> </div>	<p>۶</p>
<p>۱ نمره</p>	<p>عزیزم، کدام دو نیمه یک شکل کامل می‌سازد؟ با یک خط وصل کن.</p> <div style="display: flex; justify-content: space-around; align-items: center;"> <div style="text-align: center;">  </div> <div style="text-align: center;">  </div> <div style="text-align: center;">  </div> <div style="text-align: center;">  </div> </div> <div style="display: flex; justify-content: space-around; align-items: center; margin-top: 10px;"> <div style="text-align: center;"><input style="width: 20px; height: 20px; border: 1px solid black; border-radius: 50%;"/></div> <div style="text-align: center;"><input style="width: 20px; height: 20px; border: 1px solid black; border-radius: 50%;"/></div> <div style="text-align: center;"><input style="width: 20px; height: 20px; border: 1px solid black; border-radius: 50%;"/></div> <div style="text-align: center;"><input style="width: 20px; height: 20px; border: 1px solid black; border-radius: 50%;"/></div> </div> <div style="display: flex; justify-content: space-around; align-items: center; margin-top: 10px;"> <div style="text-align: center;"><input style="width: 20px; height: 20px; border: 1px solid black; border-radius: 50%;"/></div> <div style="text-align: center;"><input style="width: 20px; height: 20px; border: 1px solid black; border-radius: 50%;"/></div> <div style="text-align: center;"><input style="width: 20px; height: 20px; border: 1px solid black; border-radius: 50%;"/></div> <div style="text-align: center;"><input style="width: 20px; height: 20px; border: 1px solid black; border-radius: 50%;"/></div> </div> <div style="display: flex; justify-content: space-around; align-items: center; margin-top: 10px;"> <div style="text-align: center;">  </div> <div style="text-align: center;">  </div> <div style="text-align: center;">  </div> <div style="text-align: center;">  </div> </div>	<p>۷</p>
<p>۱ نمره</p>	<p>در هر قسمت در سمت راست، آن‌قدر شکل بکش که تعداد آن با دسته‌ی سمت چپ برابر شود. بنویس چند تا شکل اضافه کردی.</p> <div style="display: flex; justify-content: space-around; align-items: center; margin-bottom: 20px;"> <div style="border: 1px solid blue; padding: 5px;">  </div> <div style="border: 1px solid blue; padding: 5px; display: flex; justify-content: space-around;"> <div style="border: 1px solid green; width: 30px; height: 30px;"></div> <div style="border: 1px solid green; width: 30px; height: 30px;"></div> </div> <div style="text-align: center;"> <input style="width: 30px; height: 30px; border: 1px solid black;" type="text"/> </div> </div> <div style="display: flex; justify-content: space-around; align-items: center;"> <div style="border: 1px solid blue; padding: 5px;">  </div> <div style="border: 1px solid blue; padding: 5px; display: flex; justify-content: space-around;"> <div style="border: 1px solid red; width: 30px; height: 30px;"></div> <div style="border: 1px solid red; width: 30px; height: 30px;"></div> </div> <div style="text-align: center;"> <input style="width: 30px; height: 30px; border: 1px solid black;" type="text"/> </div> </div>	<p>۸</p>
<p>بارم</p>	<p>سوالات ریاضی اول دبستان (صفحه سوم)</p>	<p>ردیف</p>



مدت پاسخ‌گویی
۶۰ دقیقه

در هر قسمت به تعداد چوب‌خط کنار هر شکل، از آن شکل‌ها رنگ کن و به تعدادی که روی هم رنگ نشده، عدد بنویس.

۱ نمره



۹

عددهای قبل و بعد را بنویس.


۱ نمره



۱۰

با توجه به علامت، در جاهای خالی به مقدار کافی شکل بکش و سپس عدد مناسب را بنویس.

۱ نمره



۱۱

جدول شگفت‌انگیز را کامل کن.

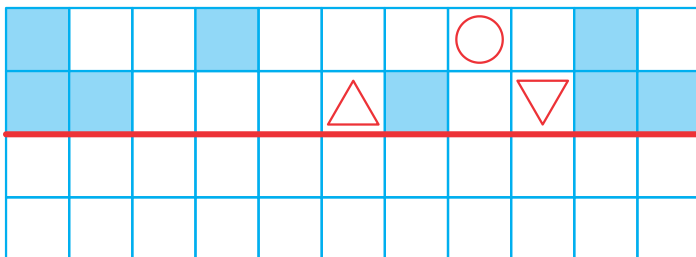
۱ نمره

۱	۴		۳	۲	۵
۲	۵	۳		۴	۶
۶	۱	۲	۵		۴
۵	۳	۴	۲	۶	
	۶	۱	۴	۵	۲
۴		۵	۶	۱	۳

۱۲

شکل را طوری کامل کن که دو نیمه مثل هم باشند.

۱ نمره



۱۳




مدت پاسخ‌گویی
۶۰ دقیقه

ریاضی اول دبستان

تاریخ برگزاری:/...../.....

جدول را کامل کن.



۱ نمره



۱۴

۱ نمره

شکل‌های هر دسته را طوری بکش که حاصل جمع هر دو دسته ۹ شود، سپس عدد هر دسته را در بنویس.



۱۵

ردیف	عنوان	بارم	نمره دانش‌آموز
۱	کتاب کار علوی	۱/۵	
۲	کاربرگ	۱	
۳	تکالیف کتاب دبستان	۱	
۴	فعالیت کلاسی	۱/۵	
۵	برگه امتحانی	۱۵	
	نمره کل	۲۰	

تاریخ:/...../.....

نام و نام خانوادگی آموزگار: