

مقدت پاسخ گوی  
۱۰۰ دقیقه

ریاضی اول دبستان



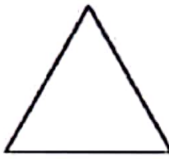

پسه تظی  
آموزش و پرورش شهر ..... منطقه .....  
دبستان غیردولتی علوی  
آزمون پایان سال تحصیلی  
۹۵-۹۶



نام آموزگار:

نام کلاس:

نام و نام خانوادگی:

بارم	سؤالات ریاضی اول دبستان (صفحه اول)	ردیف																																																												
۱/۵	<p>علامت یا عدد مناسب بگذارید؟</p> <p>۸۱ <input type="checkbox"/> ۱۸      ۱۵ <input type="checkbox"/> ۱۸      ۰ <input type="checkbox"/> ۱</p> <p>۲۰ <input type="checkbox"/> &gt; .....      ..... <input type="checkbox"/> &lt; ۳۱      ۱۳ <input type="checkbox"/> &gt; .....</p>	۱																																																												
۱	<p>اعداد ۲۶ و ۴۱ را در جای مناسب در جدول قرار دهید.</p> <table style="width: 100%; text-align: center;"> <tr> <td style="border: none;"></td> <td style="border: none;">دهتایی</td> <td style="border: none;">یکی</td> <td style="border: none;"></td> <td style="border: none;">دهتایی</td> <td style="border: none;">یکی</td> </tr> <tr> <td style="border: none;">(۴۱)</td> <td style="border: none;"> </td> <td style="border: none;"> </td> <td style="border: none;">(۲۶)</td> <td style="border: none;"> </td> <td style="border: none;"> </td> </tr> </table>		دهتایی	یکی		دهتایی	یکی	(۴۱)			(۲۶)			۲																																																
	دهتایی	یکی		دهتایی	یکی																																																									
(۴۱)			(۲۶)																																																											
۲	<p>نام شکل‌های زیر را بنویسید.</p> <div style="display: flex; justify-content: space-around; align-items: center;"> <div style="text-align: center;">  .....         </div> <div style="text-align: center;">  .....         </div> <div style="text-align: center;">  .....         </div> <div style="text-align: center;">  .....         </div> </div>	۲																																																												
۱/۵	<p>جدول زیر را کامل کنید.</p> <table border="1" style="width: 100%; text-align: center;"> <tr> <td style="width: 15%;"></td> <td style="width: 15%;">چهل و شش</td> <td style="width: 15%;"></td> <td style="width: 15%;">پنجاه و هشت</td> <td style="width: 15%;"></td> <td style="width: 15%;"></td> </tr> <tr> <td>۵۱</td> <td></td> <td>۱۷</td> <td></td> <td>۶۱</td> <td>۱۸</td> </tr> </table>		چهل و شش		پنجاه و هشت			۵۱		۱۷		۶۱	۱۸	۴																																																
	چهل و شش		پنجاه و هشت																																																											
۵۱		۱۷		۶۱	۱۸																																																									
۱	<p>الگوی زیر را ادامه دهید.</p> <table border="1" style="width: 100%; text-align: center;"> <tr> <td style="background-color: #cccccc;">■</td> <td>□</td> <td>□</td> <td style="background-color: #cccccc;">■</td> <td>□</td> <td>□</td> <td>□</td> <td>□</td> <td>□</td> <td>□</td> <td>□</td> <td>□</td> <td>□</td> <td>□</td> <td>□</td> <td>□</td> <td>□</td> <td>□</td> <td>□</td> <td>□</td> </tr> <tr> <td>□</td> <td style="background-color: #cccccc;">■</td> <td>□</td> <td>□</td> <td style="background-color: #cccccc;">■</td> <td>□</td> <td>□</td> <td>□</td> <td>□</td> <td>□</td> <td>□</td> <td>□</td> <td>□</td> <td>□</td> <td>□</td> <td>□</td> <td>□</td> <td>□</td> <td>□</td> <td>□</td> </tr> <tr> <td style="background-color: #cccccc;">■</td> <td>□</td> <td>□</td> <td style="background-color: #cccccc;">■</td> <td>□</td> <td>□</td> <td>□</td> <td>□</td> <td>□</td> <td>□</td> <td>□</td> <td>□</td> <td>□</td> <td>□</td> <td>□</td> <td>□</td> <td>□</td> <td>□</td> <td>□</td> <td>□</td> </tr> </table>	■	□	□	■	□	□	□	□	□	□	□	□	□	□	□	□	□	□	□	□	□	■	□	□	■	□	□	□	□	□	□	□	□	□	□	□	□	□	□	□	■	□	□	■	□	□	□	□	□	□	□	□	□	□	□	□	□	□	□	□	۵
■	□	□	■	□	□	□	□	□	□	□	□	□	□	□	□	□	□	□	□																																											
□	■	□	□	■	□	□	□	□	□	□	□	□	□	□	□	□	□	□	□																																											
■	□	□	■	□	□	□	□	□	□	□	□	□	□	□	□	□	□	□	□																																											

مقدار پاسخ گویا  
۱۰۰ دقیقه

ریاضی اول دبستان


پسه تپلی  
آموزش و پرورش شهر ..... منطقه .....  
دبستان غیردولتی علوی  
آزمون پایان سال تحصیلی  
۹۵-۹۶



جای خالی را با عدد مناسب کامل کنید.



اندازه مداد بین ..... تا ..... است.



اندازه مسواک بین ..... تا ..... است.

جمع و تفریق زیر را انجام داده و با چوب خط نشان بدهید.

$15 - 5 = \square$

$11 + 4 + 5 = \square$

جدول زیر را کامل کنید.

۴	۲	۲	۵		۱
۱	۶		۴	۲	۲
۵	۲	۲		۴	۶
۶	۴	۱	۲	۲	۵
۲		۶	۳	۱	۴
۲	۱	۴	۶		۲

حاصل جمع و تفریق های زیر را بنویسید.

$20 + 10 + 15 - 5 =$                        $9 + 4 =$                        $10 + 8 =$

$45 + 5 - 15 + 5 =$                        $7 + 8 =$

الگوی اعداد را ادامه دهید.

$46 - 56 - \dots$

$12 - 15 - \dots$

$15 - 2 - \dots$

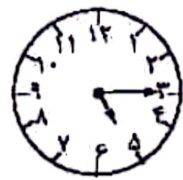
کدت پاسخ گویا  
۱۰۰ دقیقه

ریاضی اول درسیان

پسه نعلی  
آموزش و پرورش شهر ..... متعلقه  
دبستان غیردولتی علوی  
آزمون پایان سال تحصیلی  
۹۵-۹۶



ساعت چند است؟



ساعت از ..... گذشته است.



کمی به ساعت ..... مانده است.



ساعت ..... است.



زمان بین ..... و ..... است.

مکثت پاسخ گویی  
۱۰۰ دقیقه

ریاضی اول دبستان

تاریخ برگزاری: / /

پسه تعلق  
آموزش و پرورش شهر ..... مسئله  
دبستان غیر دولتی علوی  
آزمون پایان سال تحصیلی  
۹۵-۹۶



مسئله زیر را حل کرده و جواب را روی محور نشان دهید.

۱۹ اردک در آب بودند. ۱۶ اردک دیگر به آنها اضافه شدند. ۴۰ اردک دیگر نیز پیش آنها رفتند. حالا چند اردک در آب است؟

۲

۱۳

