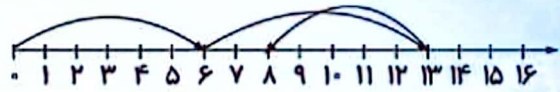
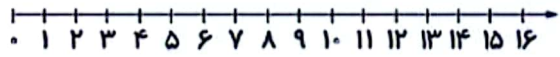


۶) محورهای زیر را حل کنید.

الف)



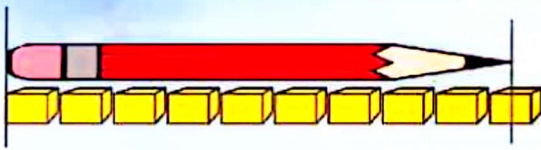
ب)



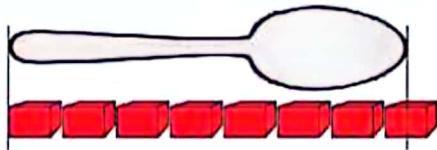
$$6 + 4 + 6 =$$

۹) اندازه گیری کنید.

الف) اندازه‌ی مداد بین و است.



ب) اندازه‌ی قاشق کوتاه‌تر از است.



۷) زمانی که هر ساعت نشان می‌دهد را بنویسید.

الف) ساعت است.



ب) زمان بین و است.



پ) ساعت از گذشته است.



۱۰) امیر ۱۷ مداد رنگی داشت. ۴ تا مداد دیگر هم خرید. امیر ۵ مداد رنگی را به علی داد. امیر چند مداد رنگی دارد؟

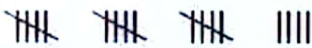
۸) جدول شگفت‌انگیز را کامل کنید.

۴	۱	۵	۲	۶	۱۱	۹	۸	۳
۲	۱۱	۶	۵	۸	۲	۷	۴	۱
۷	۲	۸	۱	۹	۴	۲	۵	۶
۱	۲	۹	۲	۴	۶	۵	۲	۷
۵	۸	۲	۷	۲	۹	۱	۶	۴
۶	۷	۱۱	۲	۱	۴	۳	۹	۲
۸	۵	۷	۴	۲	۳	۵	۲	۹
۲	۶	۱	۹	۵	۲	۴	۷	۸



۳) گزینه‌ی صحیح را مشخص کنید.


الف) چوب خطها چه عددی را نشان می‌دهند؟



۱۴ (۲)

۱۹ (۱)

ب) دسته‌های زیر چه عددی را نشان می‌دهد؟



۴۵ (۲)

۵۴ (۱)

۴) جاهای خالی را با عدد مناسب کامل کنید.

الف) $۱۰ + ۱۰ + ۵ + ۵ = \dots$

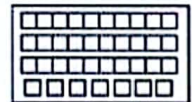
ب) $۲۰ + ۲۰ + ۵ - ۵ = \dots$

پ) $۲۰ + ۱۰ + ۱۰ + ۱۰ = \dots$

ت) $۱۰ + ۲۰ - ۱۰ + ۴ = \dots$

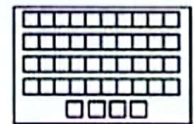
۱) هر دسته را به عدد مناسب خود وصل کنید.

۱۲ (۱) •



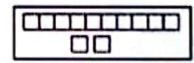
الف)

۲) چهار و چهار •



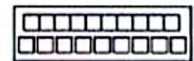
ب)

۱۹ (۳) •



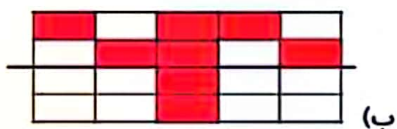

پ)

۴) سی و هفت •



ت)

۵) نیمه‌ی دیگر هر شکل را بکشید.



۲) درستی یا نادرستی جملات زیر را مشخص کنید.

درست نادرست



الف) پنج تا بعد از عدد ۸۵ می‌شود ۹۵.



ب) از سنگین‌تر است.



پ) عدد بعدی در الگوی زیر، عدد ۲۵ است.



$$\begin{array}{r} ۱۲ - ۱۸ - \\ + ۶ \end{array}$$

ت) نام این شکل مربع است.