

عدد هر ساعت را بنویس



زمان بین ساعت ..... و ..... است



.....



زمان بین ساعت ..... و ..... است

جواد ۳۹ عدد شکلات داشت. ۸ تای آن را به مجتبی و ۶ تای آن را به ارسلان داد. حالا چند شکلات برای خودش باقی مانده است؟

از عدد ۴۹ تا ۶۸ بنویس

جاهای خالی را با عدد مناسب پر کن

ده تایی	یکی
۶	۶
_____	

ده تایی	یکی
۲۸	

ده تایی	یکی
۴۲	

ده تایی	یکی
۶	۶
_____	

ده تایی	یکی
۱	۹
_____	

ده تایی	یکی
۳۹	

برای جمع ها و تفریق ها را بنویس

$$۸۰ + ۱۰ - ۵۰ + ۶ =$$

$$۴۰ - ۳۰ =$$

$$۲۰ + ۵ + ۱۰ + ۵ - ۱۰ - ۱۰ =$$

$$۲۰ + ۵ - ۱۰ - ۱۰ =$$

الگوها را ادامه بده

$$۲ - ۱۲ - \quad - \quad - \quad - \quad - \quad - \quad -$$

$$- ۳۵ - ۴۰ - ۵$$



نظر معلم:

\_\_\_\_\_

\_\_\_\_\_

\_\_\_\_\_

\_\_\_\_\_

\_\_\_\_\_

- خیلی خوب
- خوب
- قابل قبول
- نیاز به تلاش بیشتر



پایه اول

دبستان.....

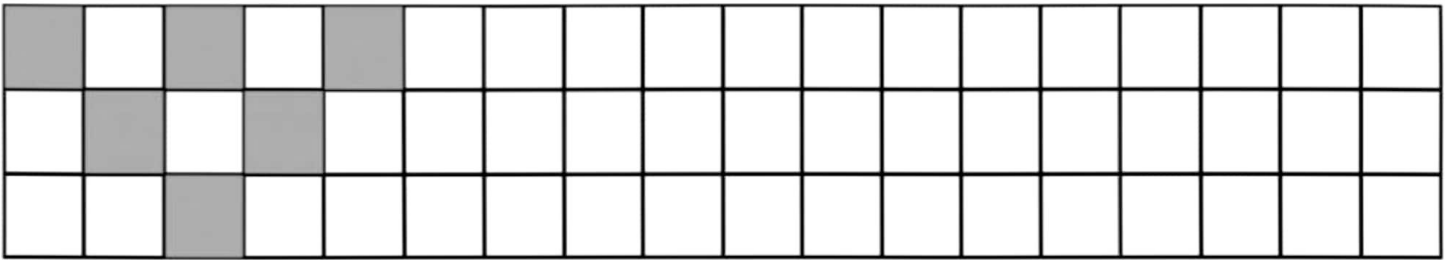
به نام خدای رنگین کمان

آزمون نوبت دوم ریاضی

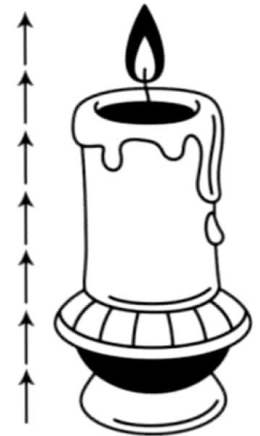
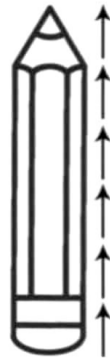
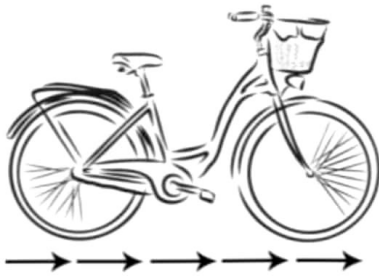
تاریخ.....

نام قسنگم.....

فرزندم الگو را با رنگ کردن ادامه بده



اندازه ی هر شکل چند تا فلش است؟ عدد آن را بنویس




جدول را کامل کن

۸	۵	۷	۴	۳			۲	۹
۳		۱	۹	۵	۲	۴	۷	۸
	۴	۲	۶		۸	۳	۱	۵
۴	۱	۵	۲	۶	۷	۹	۸	۳
۲	۹	۶	۵	۸	۳	۷	۴	۱
۷	۳			۹	۴		۵	۶
۱	۲			۴	۶	۵	۳	۷
۵	۸	۳	۷	۲	۹	۱	۶	۴
۶	۷	۴	۳	۱			۹	۲

قسمت پایین شکل را با شابلن کامل کن ،

شکل را طوری رنگ بزن که دو نیمه ی آن مثل

هم باشد



۴ - رضا ۸ مهره داشت . پدرش هم ۸ مهره ی دیگر به او داد. او ۵ مهره را به برادرش داد .

حالا رضا چند مهره دارد ؟ ( با رسم شکل دلخواه و عبارت های آن )

$$\underline{\quad\quad} + \underline{\quad\quad} = \underline{\quad\quad}$$

$$\underline{\quad\quad} - \underline{\quad\quad} = \underline{\quad\quad}$$



۵ - دنباله ی عدد را بنویس .

۹۱	۹۲								
----	----	--	--	--	--	--	--	--	--

۶ - ۵ تا ۵ ادامه بده .

۵۵	۶۰								
----	----	--	--	--	--	--	--	--	--

۷ - نام هر شکل را بنویس .



\_\_\_\_\_

\_\_\_\_\_

\_\_\_\_\_

\_\_\_\_\_

۸ - زمان ساعت ها



ساعت ۹ است .



ساعت ..... است .



ساعت از ..... گذشته است .

را بنویس .



باز خورد توصیفگر آموزگار :

به نام خدا

آزمون ریاضی تا پایان تم ۲۳

نام و نام خانوادگی

۱ - جاهای خالی را با عدد مناسب کامل کن .

$10 + 10 + 10 = \square$

$5 + 5 + 5 + 5 + 4 = \square$

$20 + 10 + 5 + 5 = \square$

$20 + 20 + 7 = \square$

$20 - 5 - 5 - 5 = \square$

$10 + 10 + 5 - 2 = \square$

۲ - به حروف یا رقم بنویس .

سی و هفت		پنجاه و شش		نود و یک	
	۶۴		۷۹		۸۲

۳ - مسئله را با چوب خط رنگی حل کن . عبارت جمع را هم بنویس .

رضا ۶ مداد داشت . پدرش ۵ مداد دیگر به او داد .

مادرش هم ۸ مداد دیگر به او داد . حالا رضا چند مداد دارد ؟

حالا رضا ..... مداد دارد .

۴ - با توجه به الگو ، عددهای نوشته نشده را بنویس .

۲۵ - ۳۰ - ۳۵ - - - - -

۱۰ - ۲۰ - ۳۰ - - - - -

۴ - ۶ - ۸ - - - - -

- - - - - ۱۵ - ۱۸ - ۲۱

- - - - - ۳۵ - ۴۰ - ۴۵

۵ - دنباله ی عدد را بنویس .

۷۶	۷۷								
----	----	--	--	--	--	--	--	--	--

۶ - جواب جمع و تفریق را نوشته و دور علامت مناسب خط بکش .

$۲۰ + ۳۰ = \square$        $< = >$        $۲۰ + ۱۰ = \square$

$۱۰ + ۱۰ + ۵ + ۵ = \square$        $< = >$        $۲۵ + ۵ + ۵ - ۵ = \square$

$۱۰ - ۴ = \square$        $< = >$        $۷ + ۸ = \square$

۷ - با توجه به ساعت ها ، جاهای خالی را کامل کن ؛ و عقربه های ساعت سمت راست را بکش .



ساعت ..... است

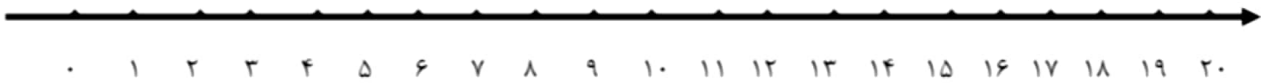


زمان بین ساعت ..... و ..... است .



ساعت ۱۰ را نشان بده .

۸ - منیژه ۹ جوجه داشت . او ۹ جوجه ی دیگر از بازار خرید . منیژه ۳ جوجه را به خواهرش داد . حالا منیژه چند جوجه دارد ؟



حالا منیژه ..... جوجه دارد .

۹ - مانند نمونه کامل کن .

8	5	2	9	0	3	6	4	7	1
۸									

ضعیف

متوسط

خوب

عالی

باز خورد توصیفگر آموزگار :

به نام خدا

آزمون ریاضی پایه ی اول - تم ۲۴ و ۲۵

نام و نام خانوادگی

۱ - عبارت ها را ذهنی حساب کرده ، نوشته ؛ سپس به جواب حروفی آن وصل کن .

$$۱۰ + ۱۰ + ۵ + ۴ =$$

سی و یک

$$۲۰ + ۲۰ + ۱۰ + ۳ =$$

پانزده

$$۱۰ + ۱۰ + ۵ + ۵ + ۱ =$$

پنجاه و سه

$$۲۰ - ۵ =$$

بیست و نه

۳ - امین ۷ مداد زرد و ۵ مداد سبز و ۶ کتاب داستان دارد . امین چند مداد دارد ؟ ( با رسم شکل و عبارت آن )

نام و نام خانوادگی:

به نام خدا

تاریخ:

شماره کلاسی:

ارزشیابی مستمر ریاضی اول (تم ۲۱)



۱- فرزندم الگو را ادامه بده.

..... - ..... - ۵۱ - ..... - ..... - ۴۸ - ۴۷

..... - ..... - ۶۵ - ..... - ..... - ۶۲ - ۶۱

..... - ..... - ۳۷ - ..... - ..... - ۳۴ - ۳۳



۲- جمع زیر را حل کنید.

$$۵ + ۵ + ۱۰ + ۱۰ = \dots\dots\dots$$

$$۱۰ + ۵ + ۵ + ۵ = \dots\dots\dots$$

$$۵ + ۱۰ + ۱۰ + ۱۰ = \dots\dots\dots$$

$$۱۰ + ۵ + ۱۰ + ۵ = \dots\dots\dots$$



۳- عددهایی که با حروف نوشته شده را به صورت عددی بنویس.

سه

یک

هفت

هشت

شش

پنج

چهار

نه

دو

ده



۴- مسئله را حل کنید.

۴ کبوتر روی درخت نشسته بودند. ۲ کبوتر دیگر به آنها اضافه شدند. ۳ کبوتر دیگر هم آمدند.

روی هم چند کبوتر شدند.