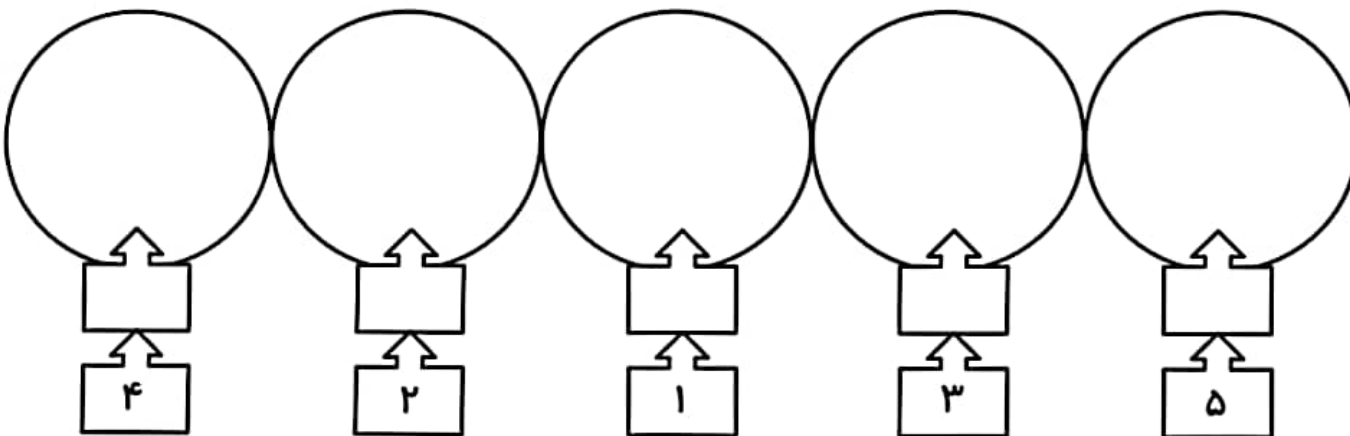
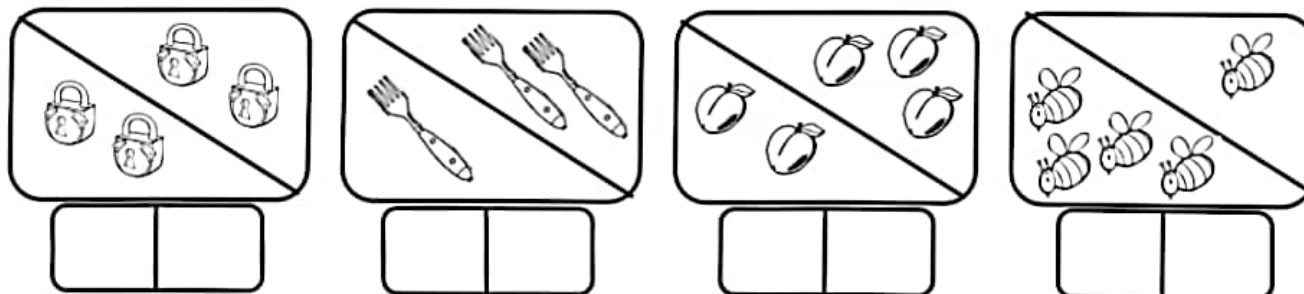


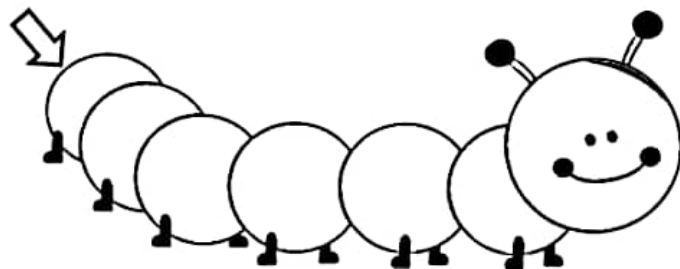
۴- برای هر عدد بالای آن چوب خط کشیده و در دایره شکل بکش و آن ها را رنگ بزن.



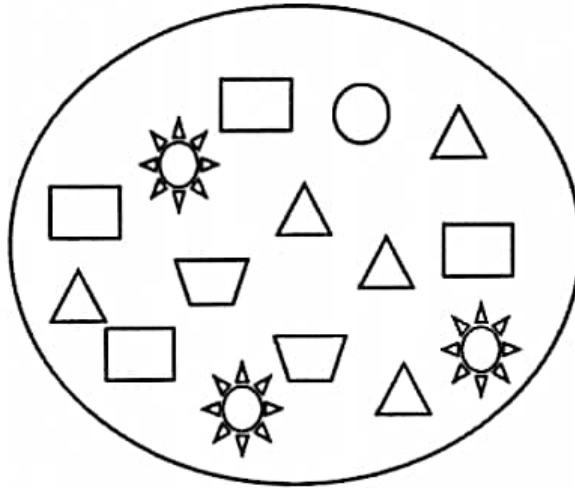
۵- در هر قسمت شکل ها روی هم چند تا می شود؟ در سمت چپ چوب خط و در سمت راست عدد آن را بنویس.



۶- از ۰ تا ۵ به ترتیب بنویس.



۲. در جدول عدد و چوب خط مناسب را قرا بدهید.



			۲		
○	△	□	◐	☀	☆

۳. اگر به تعداد شکل های سمت راست از شکل های سمت چپ بر داریم چند شکل باقی می ماند؟ عدد آن را

بنویسید.

