

بسمه تعالی

آموزش و پرورش شهر

مدرسه

آزمون پایان نیمسال اول



ریاضی اول دبستان

نام و نام خانوادگی: نام کلاس: نام آموزگار:

ریاضی - دروس ۱ تا ۱۲ (از ابتدا تا صفحه ۸۴ کتاب درسی)

۱- در هر قسمت به تعداد خالهای روی بالهای کفشدوزک از چینه‌ها رنگ کن و چوب‌خط بکش. (۱ نمره)



| | | | | |
|--|--|--|--|--|
| | | | | |
|--|--|--|--|--|

| |
|--|
| |
|--|



| | | | | |
|--|--|--|--|--|
| | | | | |
|--|--|--|--|--|

| |
|--|
| |
|--|



(۱/۵ نمره)

۲- الگوها را با دقت ادامه بده.




| | | | | | | | | | | | | | | | | | | | |
|--------|------------|-----|--|--------|------------|-----|--|--------|------------|-----|--|--|--|--|--|--|--|--|--|
| Yellow | | | | Yellow | | | | Yellow | | | | | | | | | | | |
| | Dark Green | | | | Dark Green | | | | Dark Green | | | | | | | | | | |
| | | Red | | | | Red | | | | Red | | | | | | | | | |





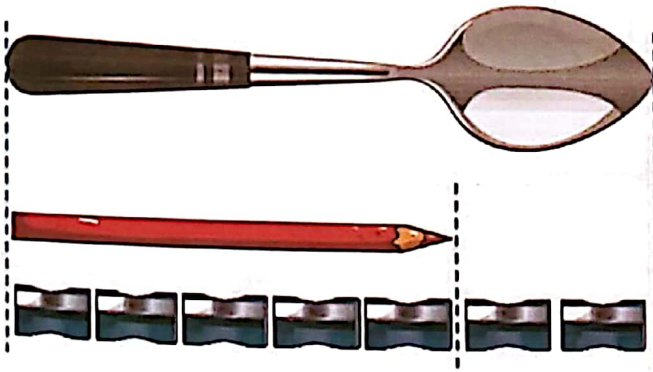
(۵/۰ نمره)

۳- از سمت چپ ماشین دومی را رنگ بزن.



(۵/۰ نمره)

۴- اندازه‌ی هر شکل برابر با چند تراش است؟



اندازه‌ی قاشق برابر با است.


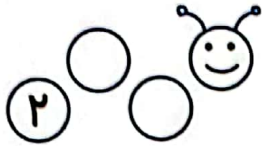
اندازه‌ی مداد برابر با است.





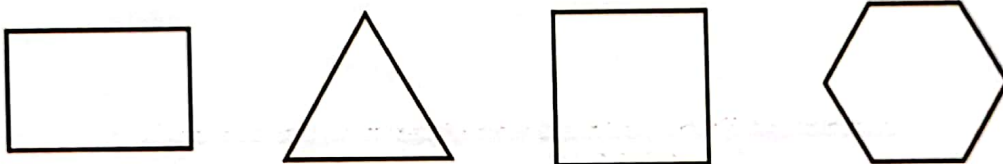
(۱ نمره)

۵- اعداد قبل و بعد هر عدد را بنویس.




(۳ نمره)

۶- گوشه‌های هر شکل را آبی و لبه‌های آن را قرمز رنگ کن.



(۱ نمره)

۷- با خط‌کش خطی بکش که شکل‌ها را به دو نیمه‌ی مثل هم تقسیم کند.





(۲ نمره)

۸- با توجه به علامت‌ها عدد مناسب را بنویس.

$5 > \dots\dots\dots$

$6 = \dots\dots\dots$

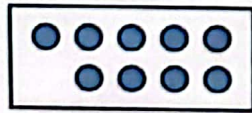
$8 < \dots\dots\dots$

$9 > \dots\dots\dots$




(۱/۵ نمره)


۹- اعداد و چوب‌خط و شکل‌های مساوی را با استفاده از خط‌کش به هم وصل کن.



۴



۹



۶



ریاضی اول دبستان

۱۰- در هر قسمت در سمت راست، آن قدر شکل بکش که تعداد آن با دسته‌ی سمت چپ برابر باشد. بنویس چند تا شکل اضافه کرده‌ای؟ (۱ نمره)

Top row: A box with 7 children, a box with 3 circles, and an empty box for the answer.

Bottom row: A box with 6 bees, a box with 5 squares, and an empty box for the answer.

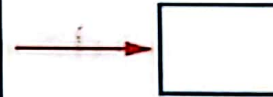

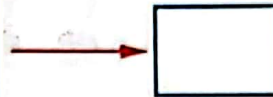

۱۱- تعداد هر شکل را بنویس و علامت مناسب بگذار. (۱ نمره)

Top row: A group of 8 triangles and a group of 6 triangles, with empty boxes and a comparison symbol between them.


Bottom row: A group of 6 flowers and a group of 6 flowers, with empty boxes and a comparison symbol between them.



۱۲- به تعداد چوب خطها از شکلها رنگ کن و تعداد شکلهای رنگ نشده را داخل مربع بنویس. (۱ نمره)



۱۳- نیمه‌ی دیگر شکل را طوری کامل کن تا هر دو نیمه کاملاً شکل هم شوند. (۱/۵ نمره)



بسمه تعالی

آموزش و پرورش شهر

مدرسه

آزمون پایان نیمسال اول



ریاضی اول دبستان

(۲/۵) نمره

۱۴- مربع شگفت‌انگیز را کامل کن.

| | | | | | |
|---|---|---|---|---|---|
| ۳ | ۲ | | | ۴ | ۱ |
| ۵ | ۴ | | | ۶ | ۳ |
| ۴ | ۶ | ۲ | ۳ | | ۵ |
| | | ۳ | ۶ | ۲ | |
| ۶ | | ۵ | ۴ | ۳ | ۲ |
| ۲ | ۳ | ۴ | ۱ | | ۶ |



(۱ نمره)

۱۵- جدول را کامل کن.

