


تمرینات مروری تم ۸ و ۹
درس ریاضی
آنلاین ۲۸ آذر ماه




تعداد هر دسته را بشمار و دور عدد صحیح خط بکش!



۷	۶
---	---

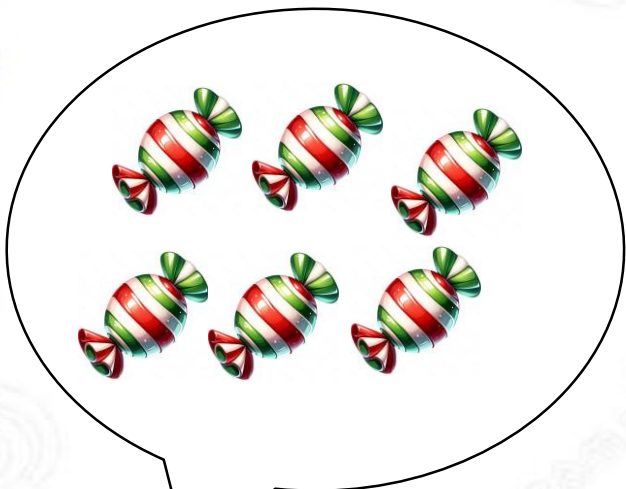


۵	۴
---	---



۵	۴
---	---

تعداد هر دسته را بشمار و دور عدد صحیح خط بکش!



۷ ۶



۵ ۴



۵ ۴

جدول های شگفت انگیز زیر را که تلفیق با فارسی شده است حل کن!

باران	تَنور		مادَر
	مادَر	باران	
	آرام	مادَر	
			آرام

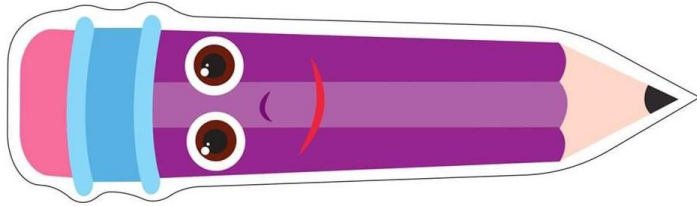
	سَرما		اَبَر
		روستا	سَرما
	روستا		
سَرما	نَم نَم		

جدول های شگفت انگیز زیرا را که تلفیق با فارسی شده است حل کن!

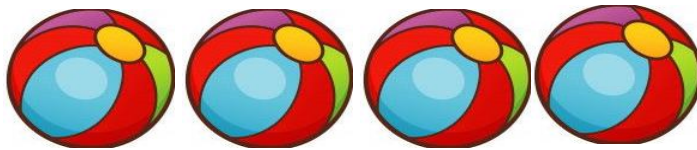
باران	تَنور	آرام	مادَر
آرام	مادَر	باران	تَنور
تَنور	آرام	مادَر	باران
مادَر	باران	تَنور	آرام

روستا	سَرما	نَم نَم	اَبَر
نَم نَم	اَبَر	روستا	سَرما
اَبَر	روستا	سَرما	نَم نَم
سَرما	نَم نَم	اَبَر	روستا

شکل زیر را با ابزار های داده شده اندازه گیری کنید!



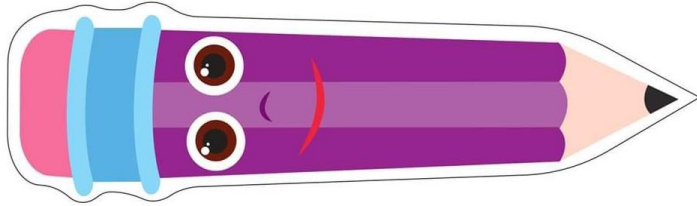
اندازه مداد است.



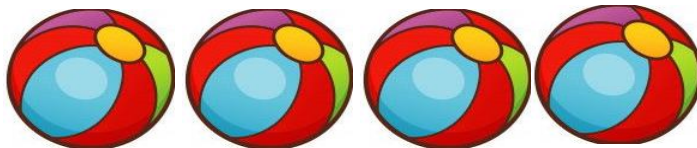
اندازه مداد است.



شکل زیر را با ابزار های داده شده اندازه گیری کنید!



اندازه مداد ۷  است.

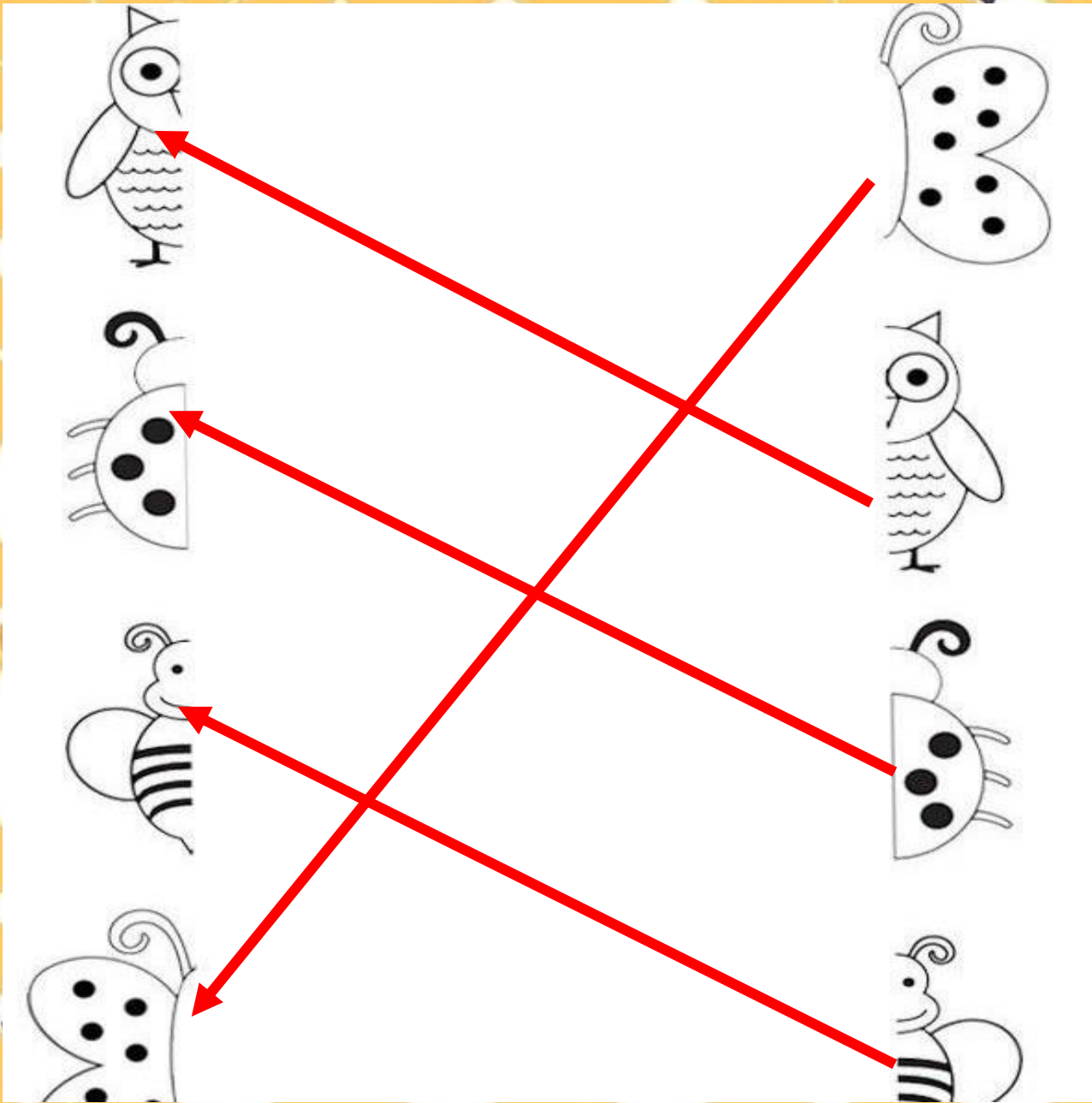


اندازه مداد ۴  است.

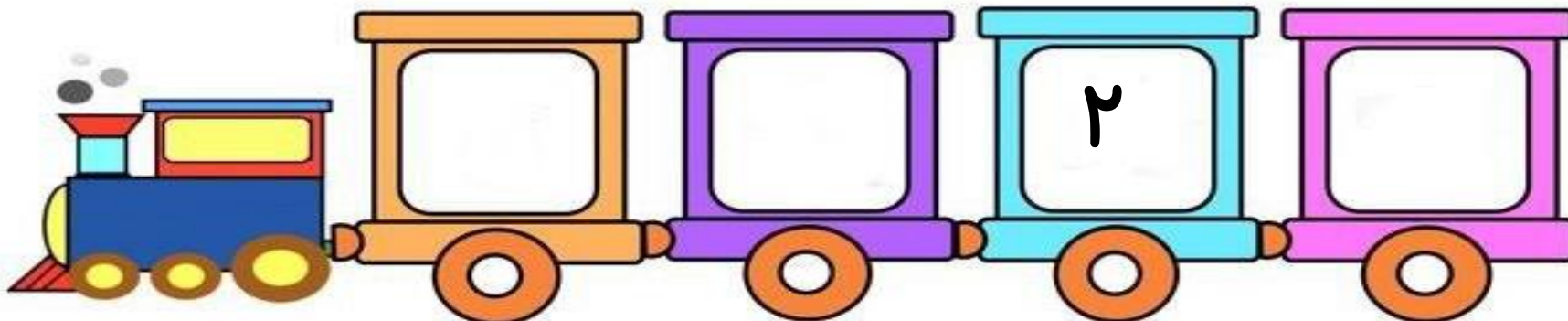
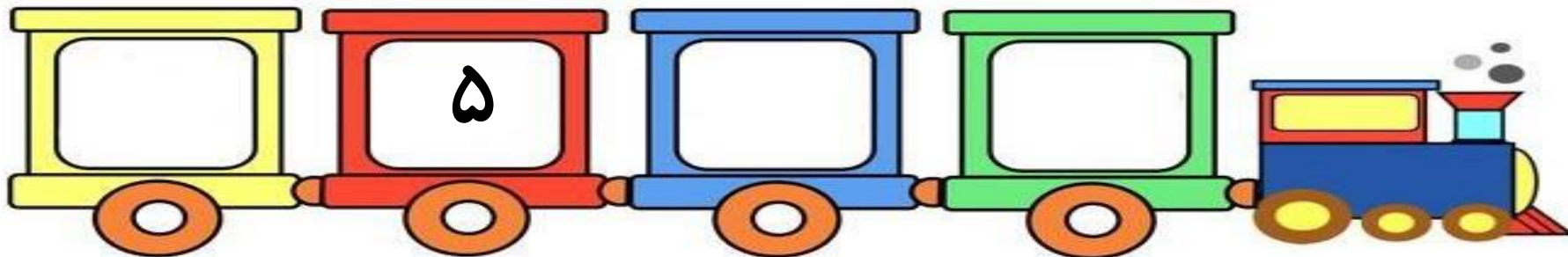
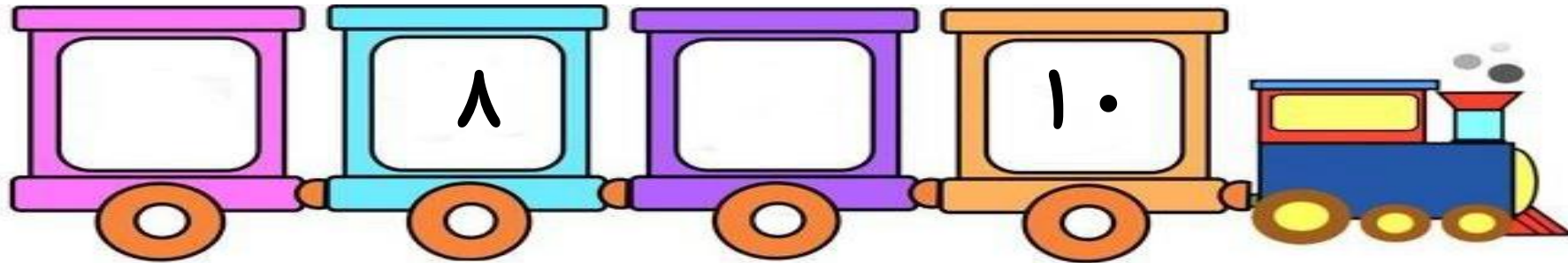
نیمه هر شکل را پیدا کن و بهم وصل کن!



نیمه هر شکل را پیدا کن و بهم وصل کن!



در هر ردیف اعداد قبل و بعد را بنویس!



در هر ردیف اعداد قبل و بعد را بنویس!

