

کس و کس و کس و کس



گیریه			

فرشته			



فارسی			

قرزانه			



فانوس			

میفید			



کفش			

شکوفه			

کیف			

دَفتَر			



با توجه به عدد داده شده ، چوب خط بکش

ده تایی	یکی
۱	۷

ده تایی

یکی

ده تایی	یکی
۱	۹

ده تایی

یکی

ده تایی	یکی
۱	۶

ده تایی

یکی



۴- جمع و تفریق ها را روی شکل نشان بده. ( برای جمع ها از ۲ رنگ و برای تفریق ها از یک رنگ استفاده کن. )

$7 + 1 = \text{----}$	
$8 + 2 = \text{----}$	
$9 - 4 = \text{----}$	
$6 - 5 = \text{----}$	

۵- الگوهای زیر را ادامه بده.

۵ ۱۰ ۵

سا س ش

تامی شود.

۶- حاصل جمع ها و تفریق های زیر را به دست بیاور.

پ

$9 - 5 = \bigcirc$	$5 - 0 = \bigcirc$	$9 + 0 = \bigcirc$	$2 + 7 = \bigcirc$
$10 - 3 = \bigcirc$	$3 - 3 = \bigcirc$	$8 + 2 = \bigcirc$	$4 + 4 = \bigcirc$
$6 - 1 = \bigcirc$	$4 - 2 = \bigcirc$	$5 + 1 = \bigcirc$	$3 + 5 = \bigcirc$

۷- با توجه به شکل جدول ها را کامل کن.

<table border="1"> <tr> <td>ده تایی</td> <td>یکی</td> </tr> <tr> <td> </td> <td> </td> </tr> </table>	ده تایی	یکی			<table border="1"> <tr> <td>ده تایی</td> <td>یکی</td> </tr> <tr> <td> </td> <td> </td> </tr> </table>	ده تایی	یکی			<table border="1"> <tr> <td>ده تایی</td> <td>یکی</td> </tr> <tr> <td> </td> <td> </td> </tr> </table>	ده تایی	یکی			<table border="1"> <tr> <td>ده تایی</td> <td>یکی</td> </tr> <tr> <td> </td> <td> </td> </tr> </table>	ده تایی	یکی		
ده تایی	یکی																		
ده تایی	یکی																		
ده تایی	یکی																		
ده تایی	یکی																		

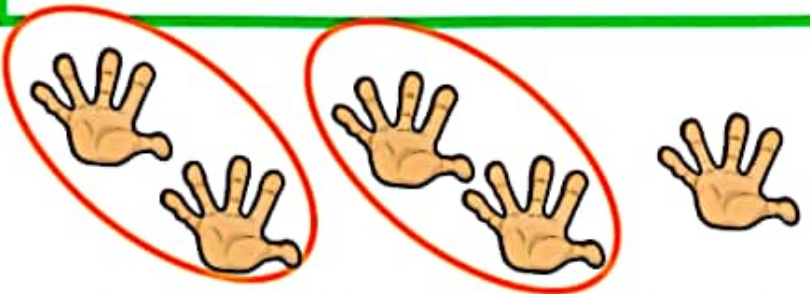
بازخورد آموزگار



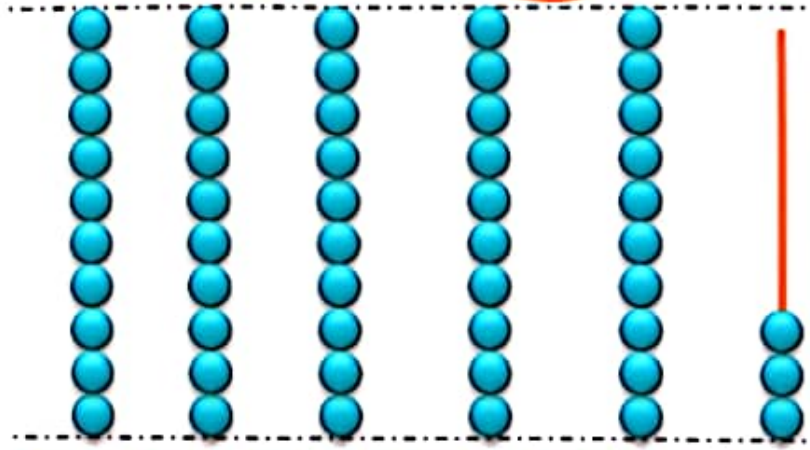
خود سنجی



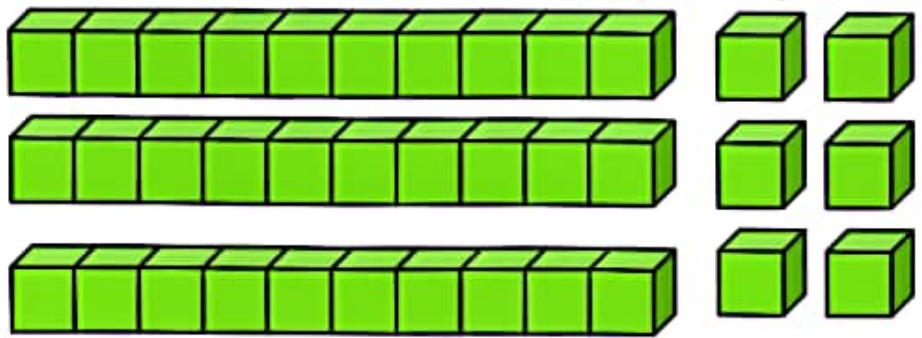
جدول ها را کامل کن.



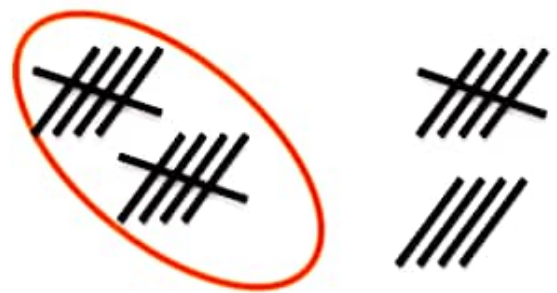
ده تایی	یکی
.....	.....



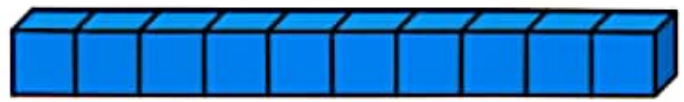
ده تایی	یکی
.....	.....



ده تایی	یکی
.....	.....



ده تایی	یکی
.....	.....



ده تایی	یکی
.....	.....

