



ثلثت ونه ۶۹

۴۲

پهل و دو


شارنده ۱۶


۷۳
→

پنجاه و شش ۵۶

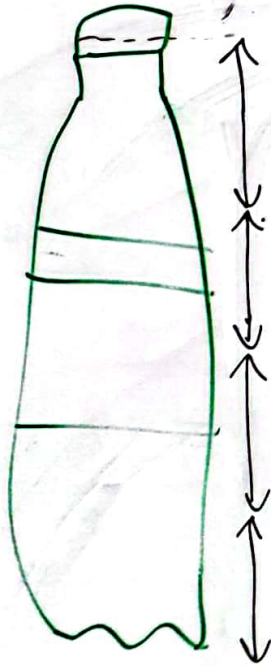
نود و سه ۹۳

۲۱






بلندی بطری آب کمی بلندتر از ۴ - است



بلندی نان بآلت کوتاه‌تر از ۵ - است

بلندی خط کش بین ۵ و ۶ - است



$$9 + 9 = 18$$



$$10 - 9 = 1$$


$$10 + \overset{10}{\underbrace{9 + 9}} + 9 = 38$$

$$10 + 10 + 10 + \underbrace{9 + 9}_{10} = 40$$

$$9 - 9 =$$

$$1 - 9 = 8$$

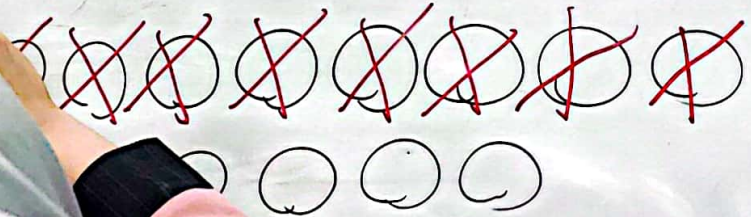




۱۶ آموز در ظرف میوه بود. بچه‌ها ۹ تا از آن‌ها را خوردند.

چند آموز در ظرف باقی مانده است؟

$$16 - 9 = 7$$



آرش ۱۴ کارت جایزه داشت. خانم آموزگار ۵ کارت دیگر

به او داد. حالا آرش چند کارت دارد؟ ۱۹ کارت دارد

$$14 + 5 = 19$$

