


۵ برای هر یک از حیوانات زیر به تعداد لازم دست و پا بکش. کدام حیوانات ۴ تا دارند؟








حالا عدد ۴ را بنویس و سپس در خط دوم یک بار از عدد ۱ تا ۴ به ترتیب بنویس.

۴ ۴ ۴ ۴

۱ ۲ ۳ ۴

۶ عدد هر دسته را بنویس.





☐ دانش آموز بتواند نماد عدد ۴ را به درستی بنویسد و مصداق‌های آن را بیابد.

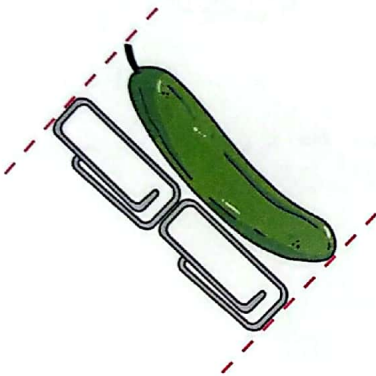
☐ دانش آموز بتواند شکل‌ها را بشمارد و عدد را به درستی بنویسد.




۷ هر شکل از چند گیره درست شده است؟ عدد درست را زیر آن بنویس.


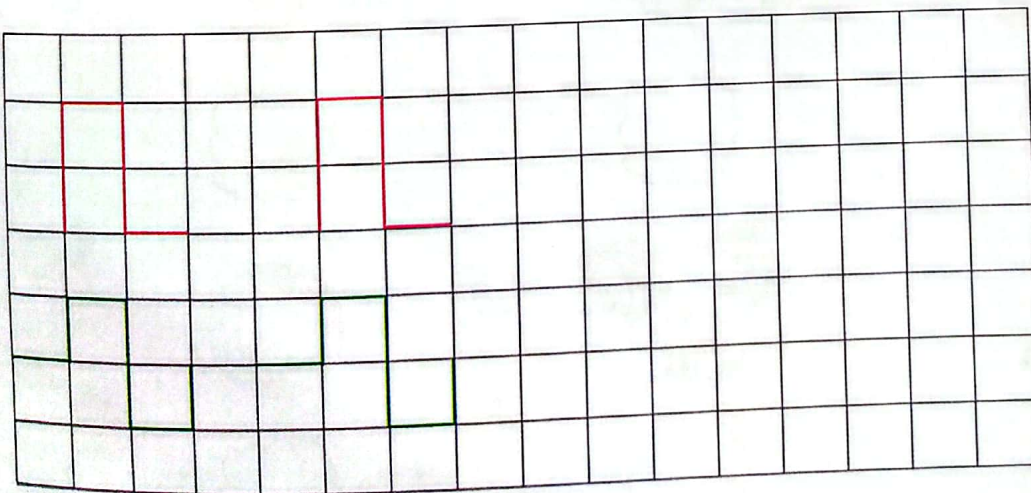









۸ الگوها را ادامه بده و الگویی که تکرار می شود را در سمت راست بکش.



- ☐ دانش آموز بتواند با استفاده از گیره طول اجسام مختلف را اندازه گیری کند.
- ☐ دانش آموز بتواند الگو را ادامه و الگوی تکرار شونده را تشخیص دهد.