



موضوع: با دقت بخوان و با کشیدن شکل جواب بده

تاریخ

نام و نام خانوادگی

هدف:

آزاده ۷ ماددرنگی دارد .
امین ۵ مداد دیگر به او داد.
آزاده چند مداد دارد؟

۱۰ پرنده روی شاخه ی درخت نشسته بودند.
۶ پرنده پرواز کردند و رفتند .
چند پرنده روی شاخه مانده است؟

فرزانه و فرشته ۱۵ بادکنک داشتند.
۷ تا از بادکنک ها ترکید.
چند بادکنک برای آن ها باقی مانده است؟

بازخورد:

Blank area for student response with horizontal lines.






موضوع:

تاریخ:

نام و نام خانوادگی:


هدف:

به کمک محور جمع کن



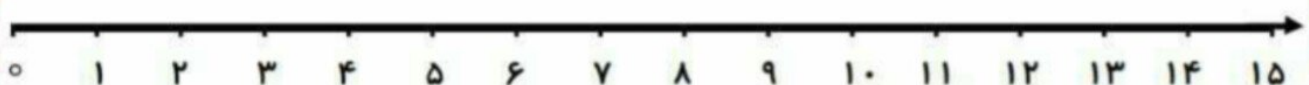
$$4 + 5 = \square$$

به کمک محور تفریق کن



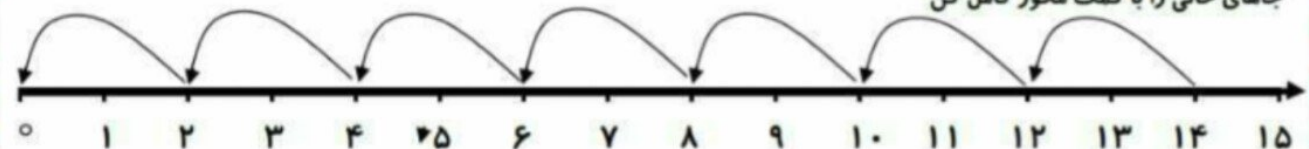
$$8 - 3 = \square$$

به کمک محور جمع کن




$$4 + 4 + 4 = \square$$

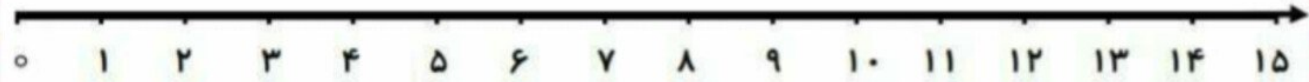
جاهای خالی را با کمک محور کامل کن



$$\square - \square - \square - \square - \square - 10 - 12 - 14$$



۵ پرنده روی شاخه ی درختی نشسته بودند. ۳ پرنده دیگر کنار آن ها نشستند. چند پرنده روی درخت است؟ روی محور نشان بده؟



۸ اردک داخل حوض شنا می کردند. ۳ اردک از حوض خارج شدند. چند اردک داخل حوض ماندند؟ روی محور نشان بده؟