



موضوع:

تاریخ:

نام و نام خانوادگی:

هدف:

۱- جاهای خالی را با اعداد مناسب کامل کن.



$$\begin{array}{r} 55 - 60 \\ + 5 \end{array}$$

$$\begin{array}{r} 10 - 20 - 30 \\ + 10 \end{array}$$

$$32 - \quad - 35 - 36$$

$$12 - 13 -$$

۲- جمع های زیر را با چوب خط حساب کن و سپس با توجه به جواب جمع، جاهای خالی را کامل کن.

$$12 + 4 + 3 = \dots$$

|         |     |
|---------|-----|
| ده تایی | یکی |
| ---     | --- |

با عدد: -----  
با حروف: -----

$$8 + 6 + 7 = \dots$$

|         |     |
|---------|-----|
| ده تایی | یکی |
| ---     | --- |

با عدد: -----  
با حروف: -----

۳- جواب جمع و تفریق های زیر را به دست بیاور.

$$40 + 20 = \dots$$

$$10 + 5 + 50 = \dots$$

$$70 - 10 = \dots$$

$$20 - 20 = \dots$$

$$5 + 5 + 20 = \dots$$

$$60 - 10 = \dots$$

$$20 + 20 + 5 + 5 = \dots$$

$$50 - 20 = \dots$$

$$5 + 5 + 3 + 2 + 4 + 1 + 30 = \dots$$

$$60 - 50 = \dots$$



بازخورد:

Large empty rounded rectangle for feedback.



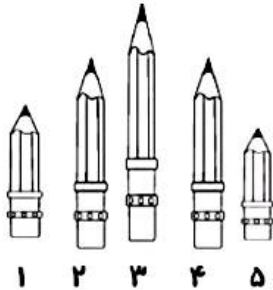


موضوع:

تاریخ:

نام و نام خانوادگی:

هدف:



۴- جاهای خالی را با توجه به شکل کامل کن.

مداد شماره ۵ ----- از مداد شماره ۲ است.

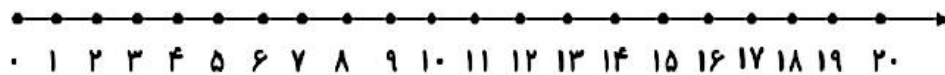
مداد شماره ۱ ----- بلندترین مداد است.

مداد شماره ۲ با مداد شماره ۱ ----- هم اندازه است.

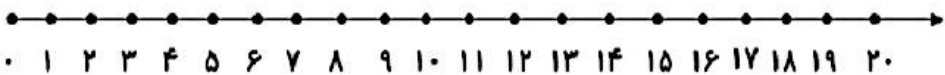
مداد شماره ۱ ----- کوتاه ترین مداد است.

۵- جواب هر مسئله را با کمک شکل یا چوب خط به دست بیاور و سپس روی محور نشان بده.

۸ مسافردر اتوبوس بودند. ۶ مسافردیگر هم سوار شدند. در ایستگاه ۵ مسافردیگر هم سوار شدند.  
حالا چند مسافردر اتوبوس هست؟ -----



۵ ماهی در حوض بود. علی ۵ ماهی دیگر در حوض انداخت. حسین هم ۶ ماهی دیگر در حوض انداخت  
حالا چند ماهی در حوض است؟ -----



۱۴ شکلات در جعبه بود. بچه ها ۹ تا از شکلات ها را خوردند. چند شکلات در جعبه باقی مانده  
است؟ -----

