

۱- با عدد یا حروف بنویس.

۲۸

.....

سی و نه

۴۷

.....

شصت و یک

۸۴

.....

۹۳

نود و سه

۲- هر ساعت چه زمانی را نشان می دهد؟ در جای خالی عقربه بکش.



زمان بین ساعت ..... و ..... است.


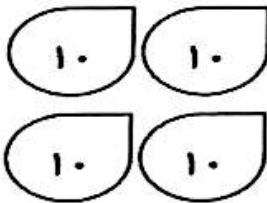


کمی به ساعت ۵ مانده است.



ساعت از ..... گذشته است.

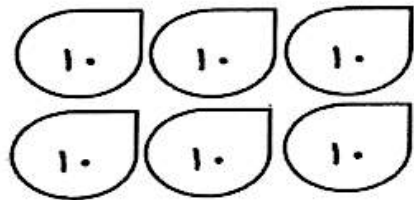
۳- عدد هر شکل را بنویس.



ده تایی	یکی

عدد: .....


حروف: .....




ده تایی	یکی

عدد: .....


حروف: .....




اکنون ساعت ..... است



اکنون ساعت ..... است



اکنون زمان بین ساعت ..... و ..... است



اکنون زمان بین ساعت ..... و ..... است

در جای خالی عدد مناسب بنویس

### ///

### ### ### /

### ### ### ### ////

.....

.....

.....

پاسخ جمع ها و تفریق ها را با دقت به دست بیاور

$$10 + 10 + 10 =$$

$$80 + 10 - 50 + 6 =$$

$$5 + 5 + 5 + 5 + 10 + 20 =$$

$$10 + 5 + 3 =$$

$$20 + 10 + 5 - 5 =$$

$$12 + 3 + 5 =$$

$$20 + 20 + 10 + 5 =$$

$$20 + 5 - 10 - 10 =$$

$$20 + 5 + 10 + 5 - 10 - 10 =$$

$$45 - 5 + 20 =$$

$$20 + 30 + 7 =$$

$$20 - 5 - 5 - 5 =$$

