

۱- با عدد یا حروف بنویس.

۲۸

.....

سی و نه

۴۷

.....

شصت و یک

۸۴

.....

۹۳

نود و سه

۲- هر ساعت چه زمانی را نشان می دهد؟ در جای خالی عقربه بکش.



زمان بین ساعت و است.


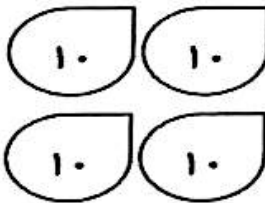


کمی به ساعت ۵ مانده است.



ساعت از گذشته است.

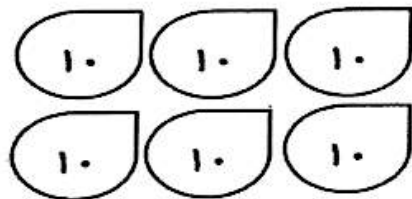
۳- عدد هر شکل را بنویس.



ده تایی	یکی

عدد:

حروف:



ده تایی	یکی

عدد:

حروف: