

۱	۲	۳	۴	۵	۶	۷	۸	۹	۱۰
۱۱	۱۲	۱۳	۱۴	۱۵	۱۶	۱۷	۱۸	۱۹	۲۰
۲۱	۲۲	۲۳	۲۴	۲۵	۲۶	۲۷	۲۸	۲۹	۳۰
۳۱	۳۲	۳۳	۳۴	۳۵	۳۶	۳۷	۳۸	۳۹	۴۰
۴۱	۴۲	۴۳	۴۴	۴۵	۴۶	۴۷	۴۸	۴۹	۵۰
۵۱	۵۲	۵۳	۵۴	۵۵	۵۶	۵۷	۵۸	۵۹	۶۰

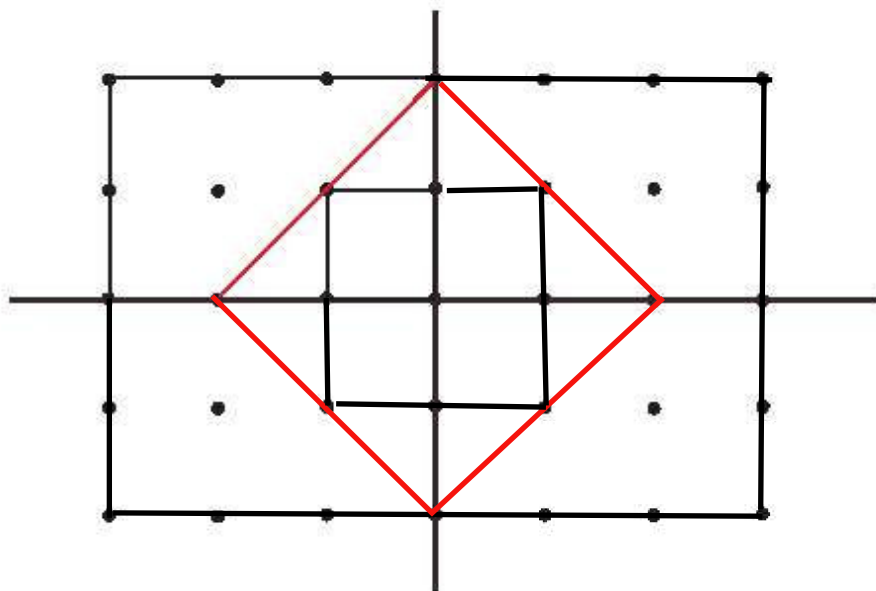
از عدد ۵ شروع کن. ۵ تا ۵ تا بشمار و رنگ بزن.

با کمک جدول بالا الگوهای زیر را کامل کن.

۵ - ۱۰ - ۱۵ - ۲۰ - ۲۵ - ۳۰ - ۳۵

۳۵ - ۴۰ - ۴۵ - ۵۰ - ۵۵ - ۶۰

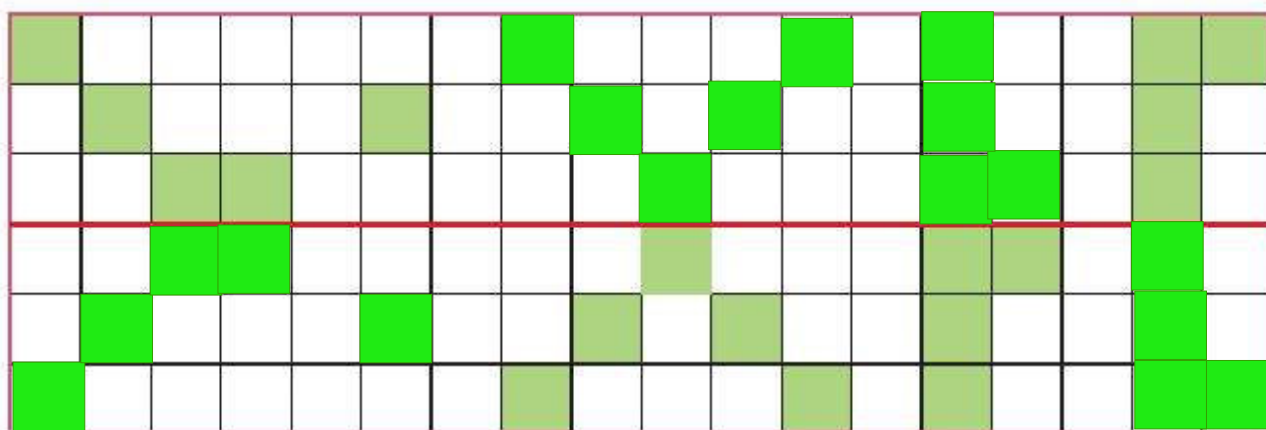
نقطه‌ها را با خط کش به هم وصل کن تا یک شکل با ۴ قسمت مثل هم تشکیل شود.



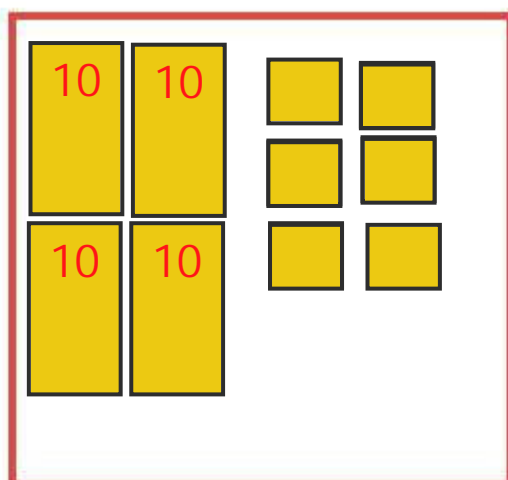
- دانش آموز بتواند اعداد را به ترتیب بنویسد.
- دانش آموز بتواند شمردن مضرب‌های ۵ را به صورت مستقیم و معکوس انجام دهد.
- دانش آموز بتواند مهارت استفاده از خط کش را کسب کند و به دو تقارن عمودی و افقی توجه کند.



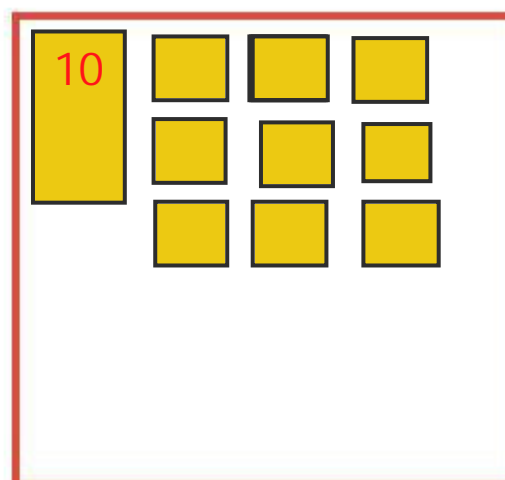
۷ شکل را طوری کامل کن که دو نیمه‌ی آن مثل هم باشد.



۸ در جاهای خالی عدد مناسب بنویس و آن را با شکل نشان بده.



۴ دسته‌ی ده‌تایی و ۶ یکی می‌شود **46**



۱ دسته‌ی ده‌تایی و ۹ یکی می‌شود **19**

۹ حاصل جمع و تفریق‌های زیر را به صورت ذهنی پیدا کن و بنویس.

$$10 + 10 = 20$$

$$5 + 5 - 10 = 0$$

$$10 + 10 + 5 = 25$$

$$10 + 10 + 5 + 10 + 5 = 40$$

$$5 + 10 + 5 = 20$$

$$5 - 5 + 5 = 5$$

$$5 + 5 + 5 + 5 + 10 = 30$$

$$10 + 10 + 5 + 10 - 10 = 25$$



دانش‌آموز بتواند فرم‌های شکل‌های شطرنجی را کامل کند.

دانش‌آموز بتواند آمادگی رسم شکل برای حل مسئله‌ها را پیدا کند.

دانش‌آموز بتواند جمع را به صورت ذهنی انجام دهد.

الف) دو دسته‌ی ده تایی زنبور در کندو بودند. ۴ زنبور دیگر هم به کندو رفتند. حالا چند زنبور در کندو است؟




ب) در دبستان علوی، کلاس اولی‌ها به ۵ گروه ۱۰ نفره و ۲ گروه ۵ نفره تقسیم شدند تا بازی کنند. تعداد دانش‌آموزان کلاس اولی چندتا است؟



پ) هر بسته شکلات موجود در فروشگاه، ۱۰ شکلات دارد. اگر درنا ۴ بسته شکلات بخرد، چند شکلات دارد؟



ت) دیروز آقای نجار ۴ بسته‌ی ۱۰ تایی میخ خرید. امروز هم ۲ بسته‌ی ۱۰ تایی دیگر خرید. او روی هم چند میخ دارد؟



ث) مادر گل‌هایی را که منبژه برای او خریده بود در گلدان قرار داد. او در هر گلدان ۱۰ شاخه گل می‌گذارد. ۴ گلدان خانه پر و ۷ شاخه هم روی میز ماند. منبژه چند گل خریده بود؟



□ دانش‌آموز نتواند با درک و فهم مسئله، آن را با استفاده از شکل حل کند.



سرگرمی



در یک جنگل مسابقه پرش انجام شد و خرگوش و کانگورو و قورباغه در این مسابقه شرکت کردند آنها باید مسیر ۲۰ را می‌پريدند. عدد پرش هر کدام کنار آنها هست. حالا بگو هر کدام بعد از چند پرش به مقصد می‌رسند؟ مسیر هر کدام را روی محور مشخص کن.

