



نام و نام خانوادگی

تاریخ

موضوع:

هدف:

در جاهای خالی عدد مناسبی بنویس.

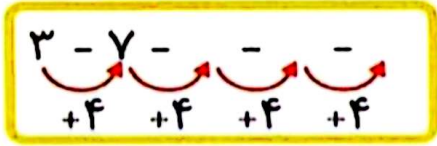
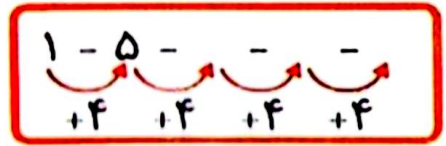
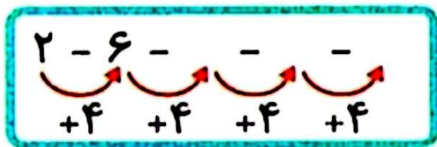
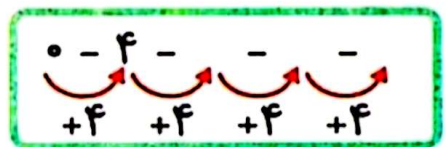
۱	۲	۳		۵	۶	۷		۹	۱۰	۱۱		۱۳	۱۴	۱۵	
---	---	---	--	---	---	---	--	---	----	----	--	----	----	----	--

	۹	۱۰	۱۱		۱۳	۱۴	۱۵	
--	---	----	----	--	----	----	----	--

	۲	۳	۴		۶	۷	۸		۱۰	۱۱	۱۲
--	---	---	---	--	---	---	---	--	----	----	----

	۴	۵	۶		۸	۹	۱۰		۱۲	۱۳	۱۴
--	---	---	---	--	---	---	----	--	----	----	----

	۶	۷	۸		۱۰	۱۱	۱۲
--	---	---	---	--	----	----	----



۷. مسنله های زیر را با روش های محور و شکل انجام بده.

الف) پروانه روی گل ها نشسته بودند ۲ پروانه ی دیگر هم آمدند و کنار آن ها نشستند چند پروانه روی گل ها نشسته اند؟

ب) ۱۰ جوجه در باغ بودند ۳ جوجه داخل لانه رفتند چند جوجه در باغ مانده است؟

۸. جمع و تفریق های زیر را انجام بدهید.

۵۰ + ۲۰ =

۴۰ + ۲۰ =

۷۰ - ۳۰ =

۵۰ - ۲۰ =

۷۰ + ۱۰ =

۲۰ + ۲۰ =

۸۰ - ۲۰ =

۶۰ - ۱۰ =

