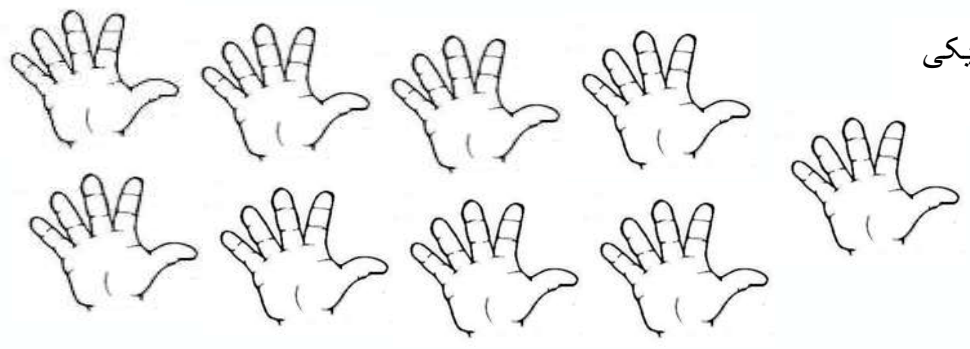




نام و نام خانوادگی: _____ تاریخ: _____ موضوع: _____ هدف: _____


۶- ۱۸ اردک در کنار برکه بازی می کردند، ۷ تا از آنها داخل آب رفتند تا شنا کنند چند اردک کنار برکه باقی مانده است؟ (شکل بکش و عبارت بنویس)

۷- قشنگم دسته ی ده تایی درست کن و جاهای خالی را پر کن



.....دسته ی ده تایی ویکی

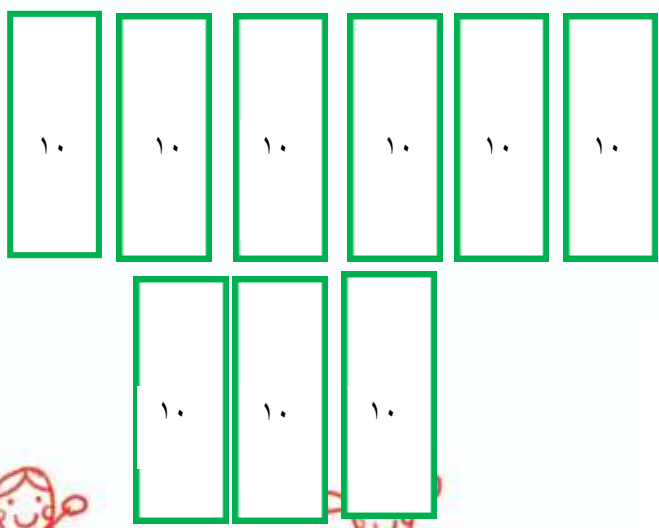
۸- نازنینم بگوهر شکل چه عددی را نشان می دهد و به سوالات پاسخ بده.



عدد را بنویس:

به حروف بنویس:

در جدول قرار بده



عدد را بنویس:

به حروف بنویس:

در جدول قرار بده :

