



نام و نام خانوادگی

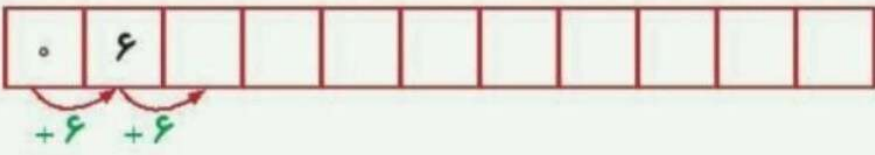
تاریخ

موضوع:


هدف:

علوی

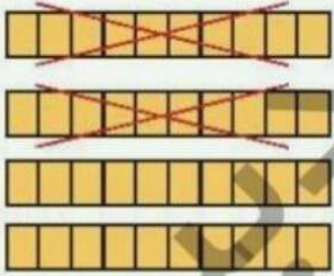
۱ الگوی زیر را ادامه بده.



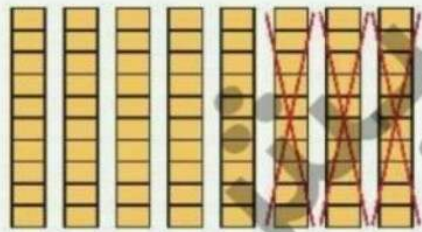
۲ در سمت راست ۶ خانه را به دلخواه رنگ بزن؛ سپس نیمه‌ی دیگر را با توجه به خط تقارن کامل کن.



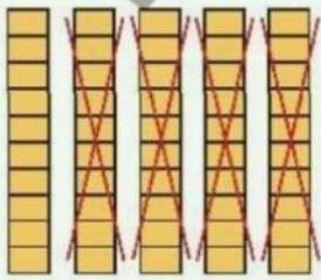
۳ برای هر شکل یک عبارت تفریق بنویس.



..... - ..... = .....



..... - ..... = .....



..... - ..... = .....



..... - ..... = .....

دانش آموز بتواند الگوی عددی را ادامه دهد.

دانش آموز بتواند یک شکل نظریه‌ی رسم و فریندهی آن را کامل کند.

دانش آموز بتواند تفریق‌های مطرب ۱۰ را با کمک شکل انجام دهد.

