

تیم ۲۰

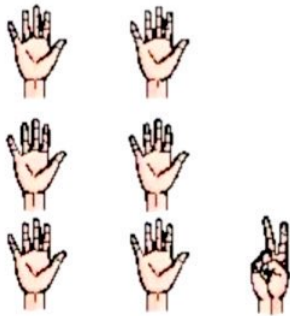




### آموختنی‌ها

- ۱ تصویر بالا چه مراسمی را نشان می‌دهد؟ آیا تا به حال به این مراسم رفت‌اید؟
- ۲ چه تعداد از آقایان سنج می‌زنند؟
- ۳ در زردهی کنار دیوار در هر ردیف چند حلقه‌ی دایره‌ای شکل دیده می‌شود؟
- ۴ پرندگان تصویر چند بال دارند؟ ۲ تا ۲ تا بشمار.
- ۵ با کک شمارش ۵ تا ۵ تا تعداد برگ‌های روی درخت را بشمار.

# علوی

۱ جدولها را کامل کن.



۲ جاهای خالی را با عدد مناسب پر کن.

۲۸ - ۳۸ -

۱۶ - ۲۶ -

۷۷ - ۷۸ -




- دانش آموز بتواند با استفاده از شکل جدول ارزش مکانی را کامل و عدد را از آن خارج کند.
- دانش آموز بتواند رابطه ی بین انگوهای عددی را کشف و آن را ادامه دهد.


دسته‌های ۱۰ تایی درست کن، جدول را کامل کن و عدد مربوط به آن را بنویس.



یکی ده تایی



یکی ده تایی



یکی ده تایی



دور عدد مناسب خط بکش.



۳۳

۱۸

۱۳



۲۶

۱۶

۶۲



دانش آموز بتواند با استفاده از شکل جدول ارزش مکانی را کامل و عدد را از آن خارج کند.  
دانش آموز بتواند با استفاده از شکل عدد مناسب را تشخیص دهد.

ریاضی اول دبستان



# علوی


جدول را کامل کن. 

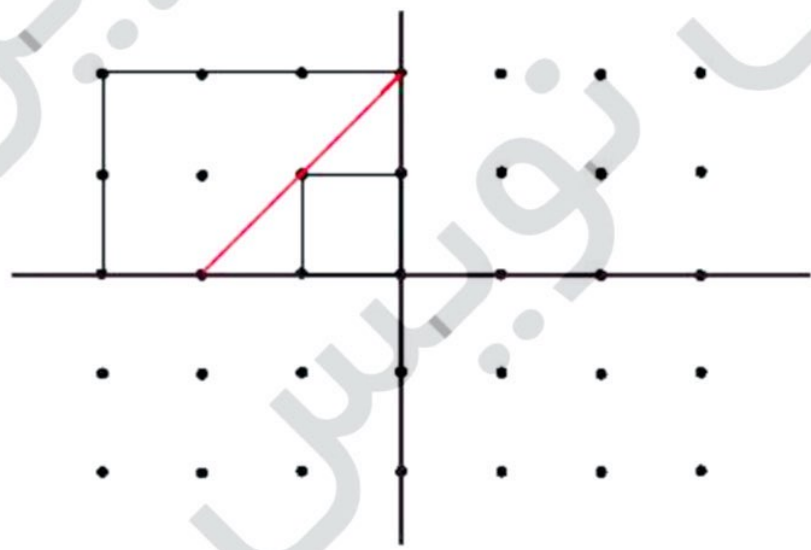
۱	۲		۵				۱۰
		۱۳					
۲۱					۲۷		
		۳۴					
						۴۹	
				۵۶			۶۰

از عدد ۵ شروع کن. ۵ تا ۵۶ بشمار و رنگ بزن.  
با کمک جدول بالا الگوهای زیر را کامل کن.

۵ - ۱۰ - - - - -

۶۰ - ۵۵ -  
-۵

نقطه‌ها را با خط کش به هم وصل کن تا یک شکل با ۴ قسمت مثل هم تشکیل شود. 



- دانش آموز بتواند اعداد را به ترتیب بنویسد.
- دانش آموز بتواند شمردن مضرب‌های ۵ را به صورت مستقیم و معکوس انجام دهد.
- دانش آموز بتواند مهارت استفاده از خط‌کش را کسب کند و به دو تفریق عمودی و افقی توجه کند.



شکل را طوری کامل کن که دو نیمه‌ی آن مثل هم باشد.

۷



در جاهای خالی عدد مناسب بنویس و آن را با شکل نشان بده.

۸



۴ دسته‌ی ده‌تایی و ۶ یکی می‌شود.....

۱ دسته‌ی ده‌تایی و ۹ یکی می‌شود.....

حاصل جمع و تفریق‌های زیر را به صورت ذهنی پیدا کن و بنویس.

۹

$$10 + 10 =$$

$$5 + 5 - 10 =$$

$$10 + 10 + 5 =$$

$$10 + 10 + 5 + 10 + 5 =$$

$$5 + 10 + 5 =$$

$$5 - 5 + 5 =$$

$$5 + 5 + 5 + 5 + 10 =$$

$$10 + 10 + 5 + 10 - 10 =$$



- دانش‌آموز نتواند تقریبی شکل‌های شطرنجی را کامل کند.
- دانش‌آموز نتواند آمادگی رسم شکل برای حل مسئله‌ها را پیدا کند.
- دانش‌آموز نتواند جمع را به صورت ذهنی انجام دهد.

ریاضی اول دبستان



الف) دو دسته‌ی ده تایی زنبور در کدو بودند. ۴ زنبور دیگر هم به کدو رفتند. حالا چند زنبور در کدو است؟




ب) در دبستان علوی، کلاس اولی‌ها به ۵ گروه ۱۰ نفره و ۲ گروه ۵ نفره تقسیم شدند تا بازی کنند. تعداد دانش‌آموزان کلاس اولی چند تا است؟



پ) هر بسته شکلات موجود در فروشگاه، ۱۰ شکلات دارد. اگر درنا ۴ بسته شکلات بخرد، چند شکلات دارد؟



ت) دیروز آقای نجار ۴ بسته‌ی ۱۰ تایی میخ خرید. امروز هم ۲ بسته‌ی ۱۰ تایی دیگر خرید. او روی هم چند میخ دارد؟



ث) مادر گل‌هایی را که منبژه برای او خریده بود در گلدان قرار داد. او در هر گلدان ۱۰ شاخه گل می‌گذارد. ۴ گلدان خانه پر و ۷ شاخه هم روی میز ماند. منبژه چند گل خریده بود؟






□ دانش‌آموز نتواند با درک و فهم مسئله، آن را با استفاده از شکل حل کند.



## سرگرمی



در یک جنگل مسابقه پرش انجام شد و خرگوش و کانگورو و قورباغه در این مسابقه شرکت کردند آنها باید مسیر ۲۰ را می‌پريدند. عدد پرش هر کدام کنار آنها هست. حالا بگو هر کدام بعد از چند پرش به مقصد می‌رسند؟ مسیر هر کدام را روی محور مشخص کن.



ریاضی اول دبستان

