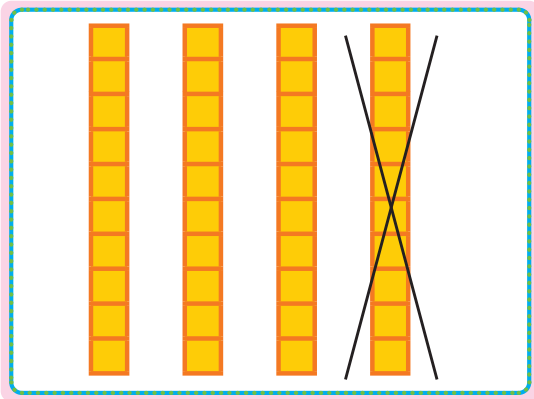

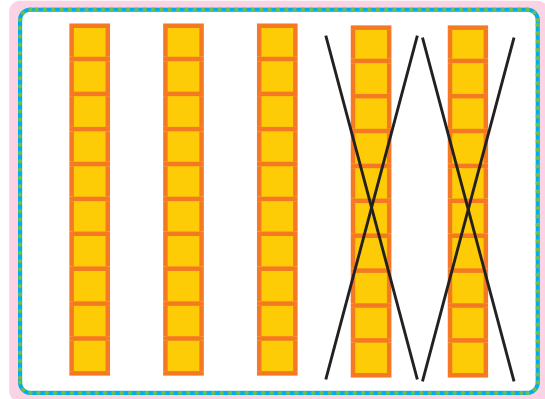


جاهای خالی را با عدد مناسب پر کن.


بشمار و بنویس



$$40 - 10 = 30$$



$$50 - 20 = 30$$



$$30 - 10 = 20$$

$$40 - 20 = 20$$

$$15 - 5 = 10$$

$$25 - 5 = 20$$

قبل از ورود به این صفحه، تفریق ۱۰ تایی یا ۵ تایی را با چیزهای ملموس انجام دهید. فرزند شما تفریق‌های مضرب ۱۰ را به صورت ذهنی انجام دهد تا به مهارت دست یابد.

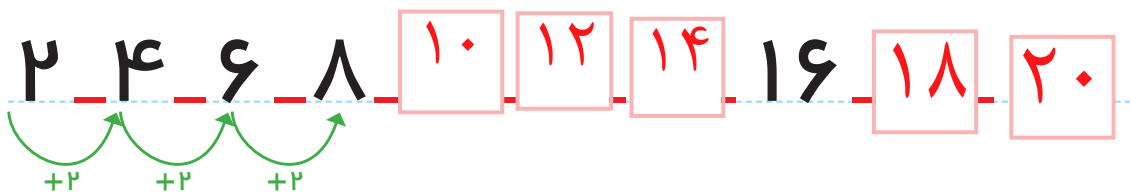
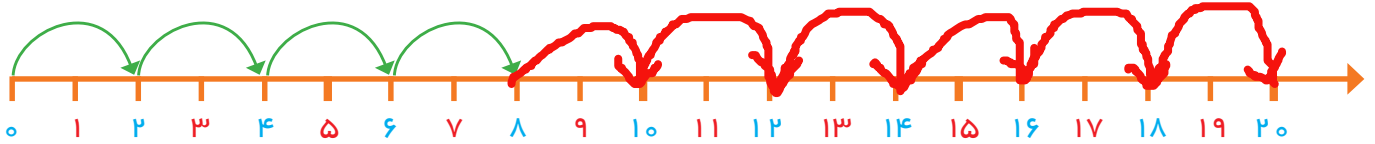


صد و پنجاه

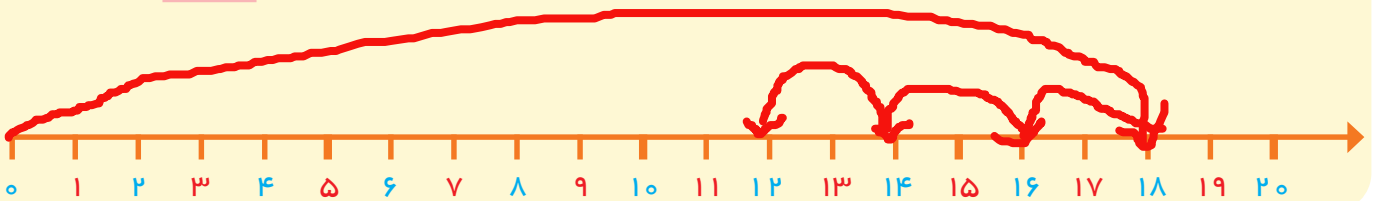
۱۵۰

## مسئله حل کن

الگو را ادامه بده. مسئله‌ها را با محور حل کن.

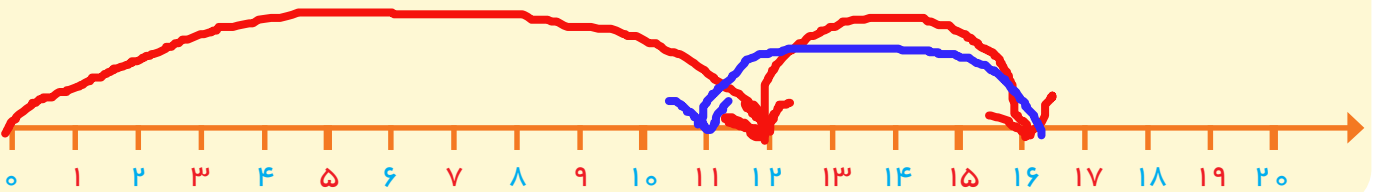


یک اتوبوس ۱۸ مسافر داشت. در اولین ایستگاه ۲ نفر پیاده شدند. در دومین ایستگاه ۲ نفر دیگر پیاده شدند. در ایستگاه سوم ۲ نفر دیگر پیاده شدند. حالا اتوبوس چند مسافر دارد؟ **۱۲** مسافر دارد.



$$18 - 2 - 2 - 2 = 12$$

در یک کلاس ۱۲ دانش‌آموز نشسته بودند. ۴ نفر وارد کلاس شدند. ۵ نفر از کلاس بیرون رفتند. حالا چند نفر در کلاس هستند؟ **۱۲** دانش‌آموز در کلاس است.



$$12 + 4 - 5 = 11$$

هدف این فعالیت‌ها حل مسئله‌های ۲ مرحله‌ای به کمک محور اعداد است.



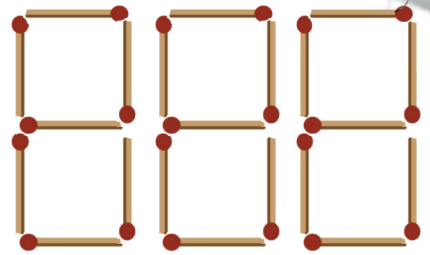
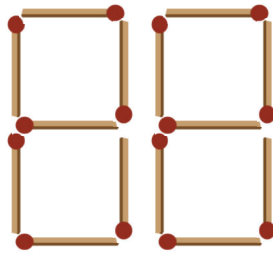
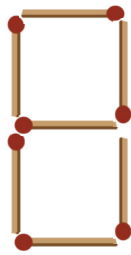
لازم نیست فرزند شما برای حل این مسئله‌ها عبارت جمع یا تفریق بنویسد. پیدا کردن جواب به کمک محور کافی است.



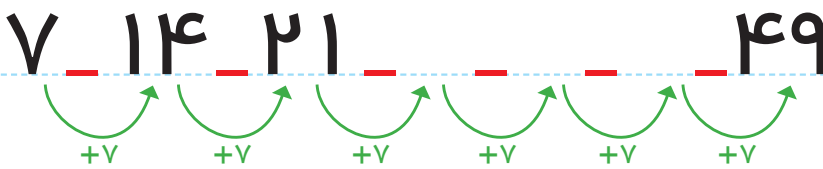


### بشمار و بنویس

جاهای خالی را با عدد مناسب پر کن.  
۷ تا ۷ تا ۷ تا بشمار و رنگ کردن را ادامه بده.



۱	۲	۳	۴	۵	۶	۷	۸	۹	۱۰
۱۱	۱۲	۱۳	۱۴	۱۵	۱۶	۱۷	۱۸	۱۹	۲۰
۲۱	۲۲	۲۳	۲۴	۲۵	۲۶	۲۷	۲۸	۲۹	۳۰
۳۱	۳۲	۳۳	۳۴	۳۵	۳۶	۳۷	۳۸	۳۹	۴۰
۴۱	۴۲	۴۳	۴۴	۴۵	۴۶	۴۷	۴۸	۴۹	۵۰



شنبه	یکشنبه	دوشنبه	سه شنبه	چهارشنبه	پنجشنبه	جمعه
۱	۲	۳	۴	۵	۶	۷
شنبه	یکشنبه	دوشنبه	سه شنبه	چهارشنبه	پنجشنبه	جمعه
۸	۹	۱۰	۱۱	۱۲	۱۳	۱۴
شنبه	یکشنبه	دوشنبه	سه شنبه	چهارشنبه	پنجشنبه	جمعه
۱۵	۱۶	۱۷	۱۸	۱۹	۲۰	۲۱
شنبه	یکشنبه	دوشنبه	سه شنبه	چهارشنبه	پنجشنبه	جمعه
۲۲	۲۳	۲۴	۲۵	۲۶	۲۷	۲۸
شنبه	یکشنبه					
۲۹	۳۰					

هدف، شمردن و ادامه دادن الگوی ۷ تا ۷ تا بیشتر از عددهای داده شده در جدول و یا به صورت ذهنی نیست.

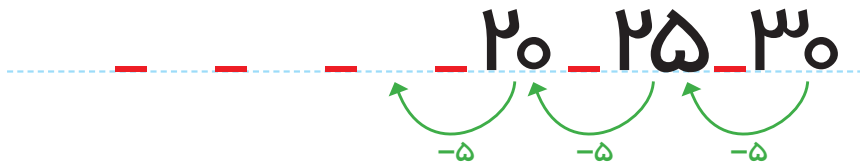
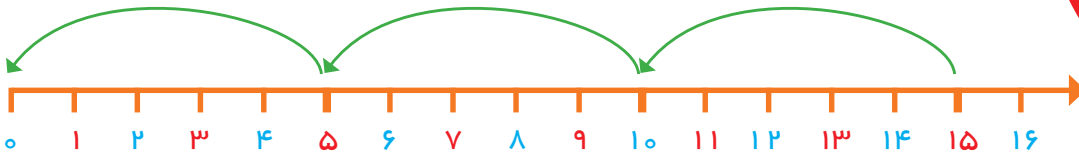
شمردن ۷ تا ۷ تا با کمک چیزها و مهره‌ها یا رسم شکل توصیه می‌شود. یکی از این نمونه‌ها تقویم ماهانه است که روزهای هفته ۷ تا

۷ تا مشخص می‌شود.



جاهای خالی را پر کن.

بشمار و بنویس



پنجاه	چهل	سی	بیست	ده

نود	هشتاد	هفتاد	شصت

هدف، تفریق عددهای بزرگتر از عددهای نوشته شده در این صفحه نیست. دانش آموزان در این محدوده‌ی عددها به کمک محور یا تفریق با انگشتان می‌توانند عددهای قبلی را پیدا کنند. فرزند شما باید بتواند عددهای مضرب ۵ را به صورت معکوس به کمک شکل، چوب خط یا محور بشمارد و بیان کند.