

A colorful illustration of five children (three boys and two girls) standing in a field of flowers, holding a large white sign. They are surrounded by several large, colorful balloons (red, blue, pink, green, yellow) and several butterflies. The background is a bright blue sky with light clouds.

به نام خداوند بخشنده ی مهربان

دوشنبه ۲۵ اسفند ۱۴۰۴

کلاس ریاضی

علوی

۲ برای جمع زیر شکل بکش و جواب جمع را پیدا کن.

$$\boxed{1} + \boxed{5} + \boxed{3} = \boxed{}$$

$$\boxed{6} + \boxed{2} + \boxed{8} = \boxed{}$$

$$\boxed{7} + \boxed{1} + \boxed{2} + \boxed{3} = \boxed{}$$

علوی

۲ برای جمع زیر شکل بکش و جواب جمع را پیدا کن.

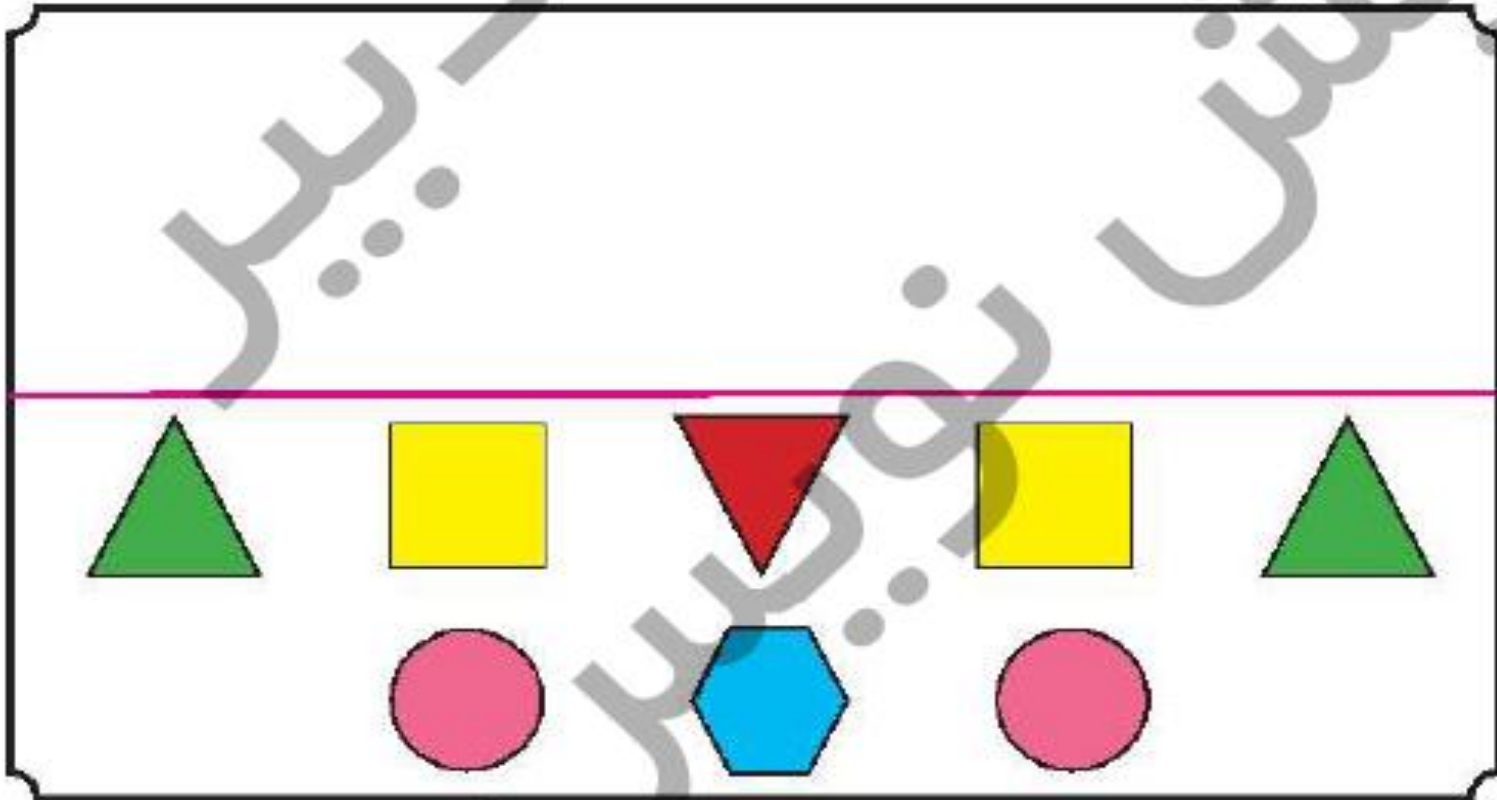
$$\boxed{1} + \boxed{5} + \boxed{3} = \boxed{9}$$

$$\boxed{6} + \boxed{2} + \boxed{8} = \boxed{16}$$

$$\boxed{7} + \boxed{1} + \boxed{2} + \boxed{3} = \boxed{13}$$

با شابلون نیمه‌ی بالای شکل را با توجه به خط تقارن کامل کن.

۴



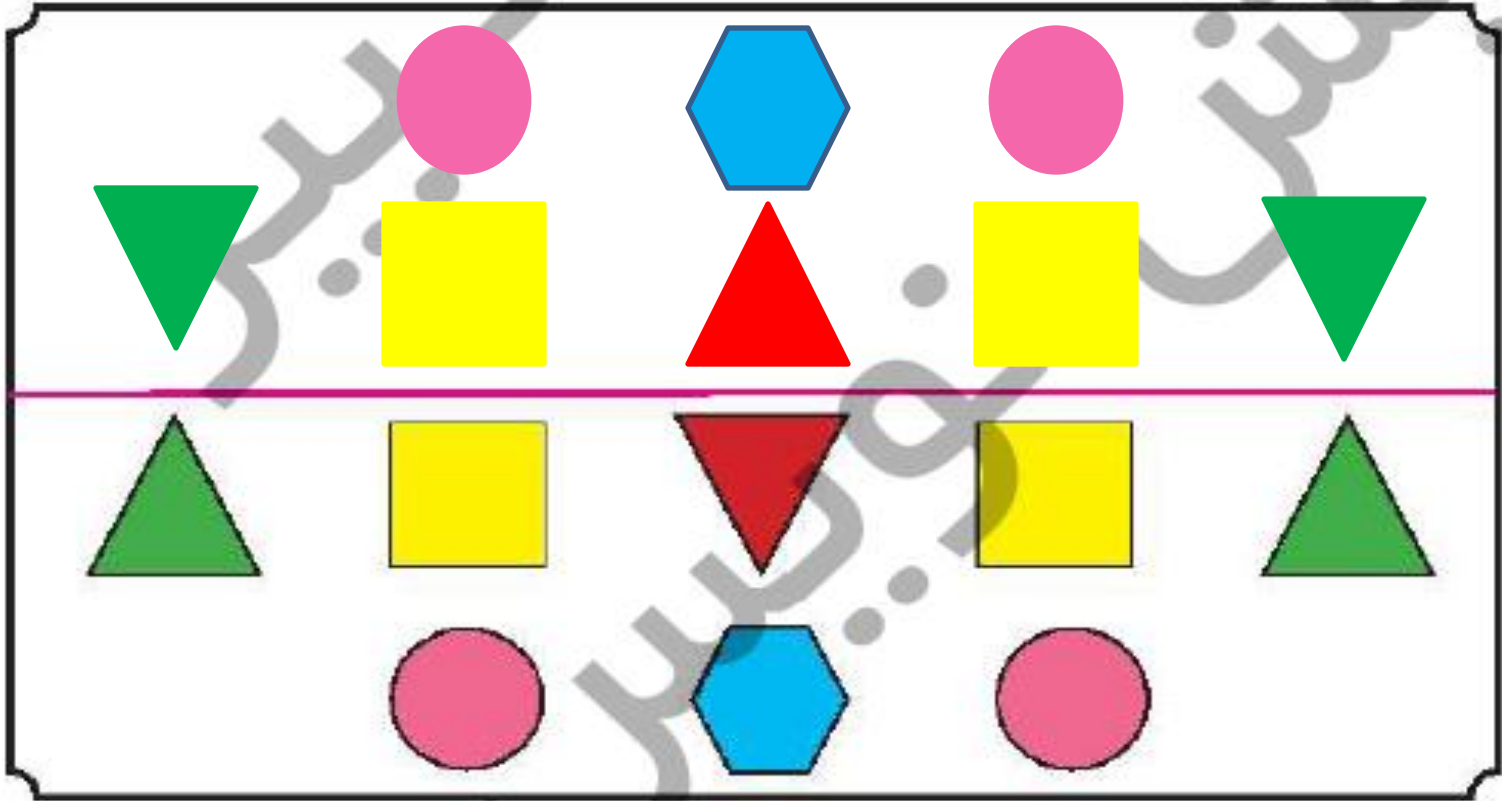
دانش آموز بتواند با کمک جوت خط جمع‌های چندتایی را حل کند.

دانش آموز بتواند علاوه بر کسب مهارت استفاده از شابلون، چگونگی رسم شکل‌های قرینه را تمرین کند.



با شابلون نیمه‌ی بالای شکل را با توجه به خط تقارن کامل کن.

۴



دانش آموز بتواند با کمک جوت خط جمع‌های چندتایی را حل کند.

دانش آموز بتواند علاوه بر کسب مهارت استفاده از شابلون، چگونگی رسم شکل‌های قرینه را تمرین کند.



برای هر شکل عبارت مناسب بنویس و سپس علامت $<$ - $>$ را انتخاب کن.


 $< = >$


برای هر شکل عبارت مناسب بنویس و سپس علامت < = > را انتخاب کن.

۵

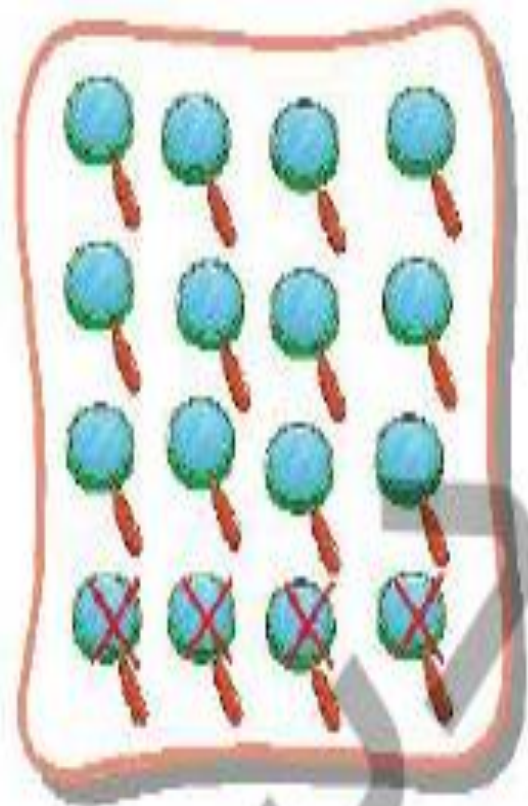


$$۱۲ - ۵ = ۷$$

< = >

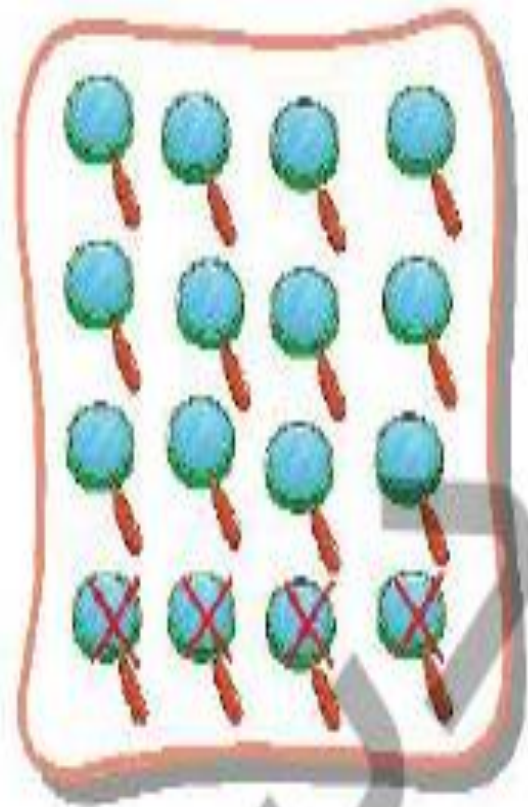


$$۴ + ۵ + ۲ = ۱۱$$



$\langle \Rightarrow \rangle$



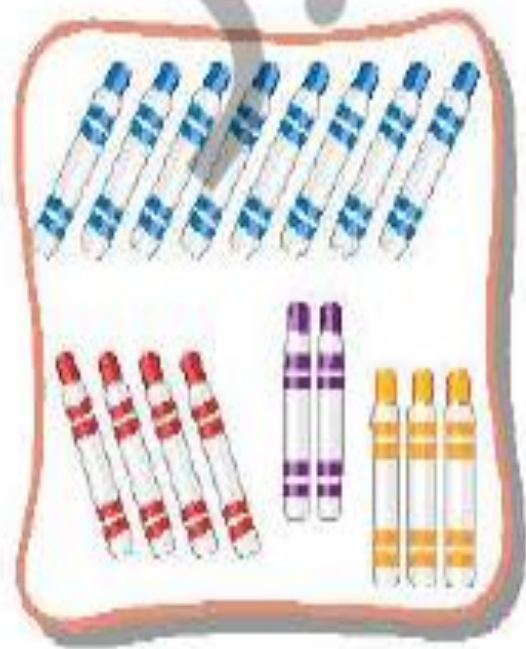


$$16 - 4 = 12$$

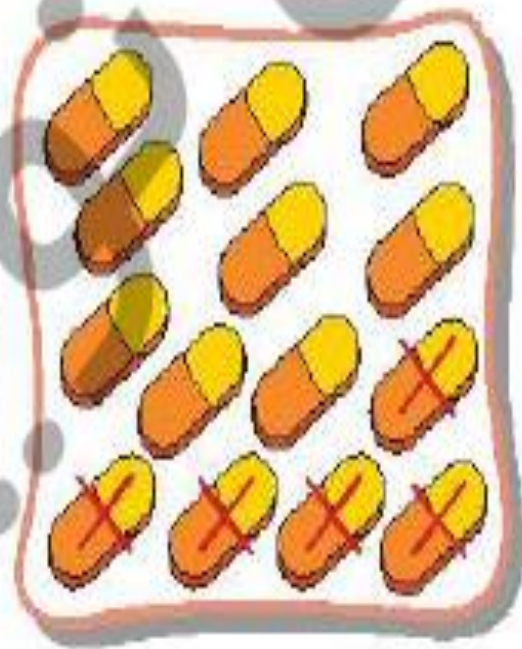


$$3 + 5 + 4 = 12$$





$< = >$



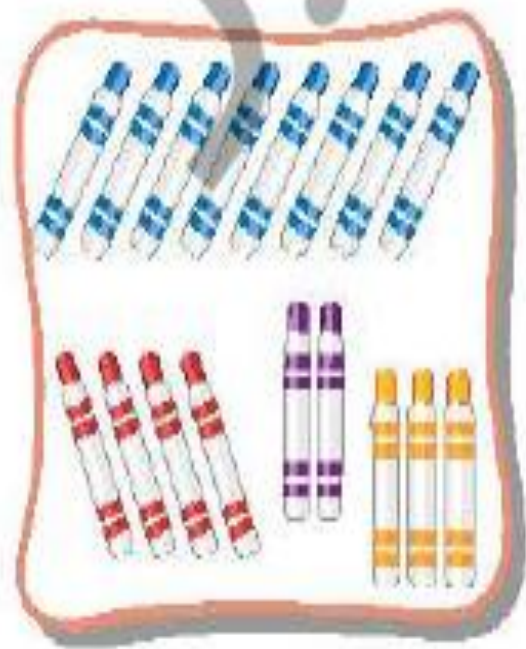
XXXXXXXXXXXXXXXXXXXXXXXXXXXX

XXXXXXXXXXXXXXXXXXXXXXXXXXXX

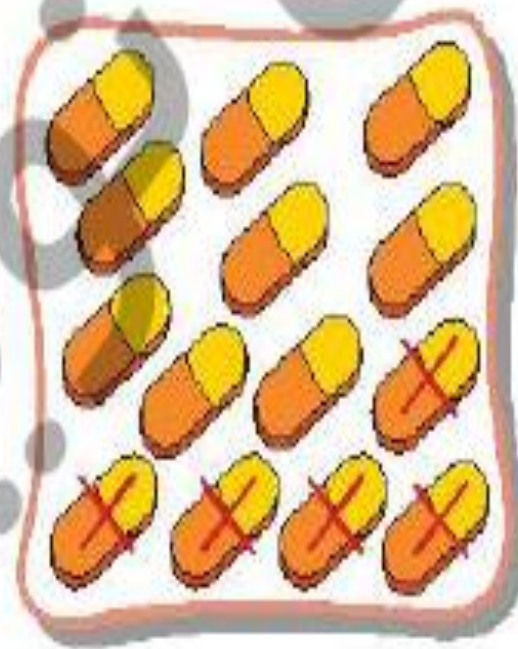


☑ دانش آموز باید بتواند برای شکل‌ها عبارت مناسب بنویسد و جوابها را با هم مقایسه کند.





< = >



$$8 + 4 + 2 + 3 = 17$$

$$14 - 5 = 9$$



دانش آموز باید بتواند برای شکل‌ها عبارت مناسب بنویسد و جوابها را با هم مقایسه کند.

ریاضی اول دبستان



جمله‌های زیر را با کلمه‌های «بلندترین»، «بلندتر» و «کوتاه‌ترین» کامل کن.

درخت سیب کمی از درخت پرتقال است.

درخت گلابی درخت است.

درخت پرتقال درخت است.



جمله‌های زیر را با کلمه‌های «بلندترین»، «بلندتر» و «کوتاه‌ترین» کامل کن.

درخت سیب کمی ... **بلندتر** ... از درخت پرتقال است.

درخت گلابی ... **بلندترین** ... درخت است.

درخت پرتقال ... **کوتاه‌ترین** ... درخت است.



جدول شگفت‌انگیز زیر را کامل کن. ۷

	۵	۷	۱	۶	۴	۹	۲	
۱	۹	۴	۳		۲	۵		۶
۲	۶			۹	۵	۸	۴	۱
	۳		۵	۲	۸	۶	۹	۴
۶		۸	۹		۱	۲	۳	۵
۵	۲		۴	۳	۶		۱	۸
۴	۷				۹		۵	۲
۹	۸	۵	۲		۳	۱	۶	۷
	۱	۲	۶	۵	۷	۴	۸	

دانش‌آموز بتواند طول‌های مختلف را با هم مقایسه کند.
 دانش‌آموز بتواند جدول شگفت‌انگیز را به درستی انجام دهد.



جدول شگفت‌انگیز زیر را کامل کن. ۷

۸	۵	۷	۱	۶	۴	۹	۲	۳
۱	۹	۴	۳	۸	۲	۵	۷	۶
۲	۶	۳	۷	۹	۵	۸	۴	۱
۷	۳	۱	۵	۲	۸	۶	۹	۴
۶	۴	۸	۹	۷	۱	۲	۳	۵
۵	۲	۹	۴	۳	۶	۷	۱	۸
۴	۷	۶	۸	۱	۹	۳	۵	۲
۹	۸	۵	۲	۴	۳	۱	۶	۷
۳	۱	۲	۶	۵	۷	۴	۸	۹

دانش‌آموز بتواند طول‌های مختلف را با هم مقایسه کند.

دانش‌آموز بتواند جدول شگفت‌انگیز را به درستی انجام دهد.



$$۶ + ۵ =$$



$$۸ + ۴ =$$



$$۲ + ۶ + ۷ =$$



$$۱۹ - ۳ =$$



$$۱۵ - ۶ =$$



☐ دانش‌آموز بتواند حاصل جمع و تفریق را با استفاده از محور به دست بیاورد.



علوی

۱ در جاهای خالی عدد مناسب بنویس.



۲ تا ۲ تا جلو برو و عددهای محور را بنویس.




۳ جدول را تا ۲ تا بشمار و رنگ کن.

۱	۲	۳	۴	۵	۶	۷
۸	۹	۱۰	۱۱	۱۲	۱۳	۱۴
۱۵	۱۶	۱۷	۱۸	۱۹	۲۰	

۴ با نوشتن عدد مناسب، جمله‌ها را کامل کن.

- اندازه‌ی پهل است.
- بلندی درخت بین تا است.
- بلندی گل بین تا است.



دانش آموز بتواند ۲ تا ۲ تا بشمارد تا برای آموزش عددهای زوج و فرد آماده شود.

دانش آموز بتواند اشکال را به صورت تقریبی اندازه‌گیری کند.

