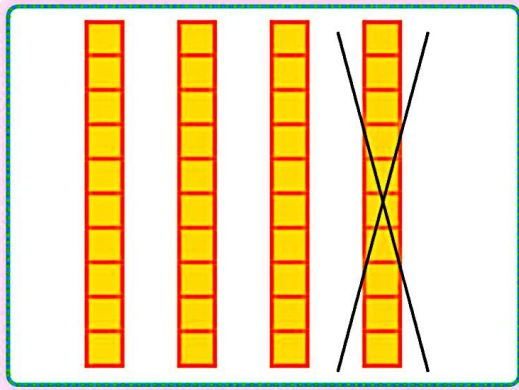


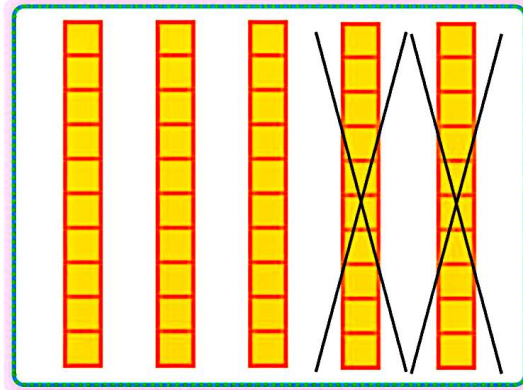


جاهای خالی را با عدد مناسب پر کن.

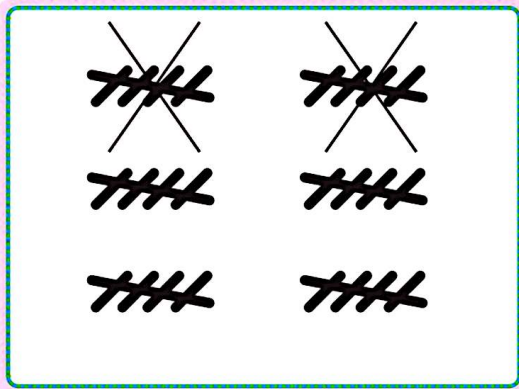
بشمار و بنویس



$$40 - 10 = \square$$



$$\square - \square = \square$$



$$\square - \square = \square$$

$$40 - 20 = \square$$

$$15 - 5 = \square$$

$$25 - 5 = \square$$

قبل از ورود به این صفحه، تفریق ۱۰ تایی یا ۵ تایی را با چیزهای ملموس انجام دهید.
فرزند شما تفریق‌های مضرب ۱۰ را به صورت ذهنی انجام دهد تا به مهارت دست یابد.

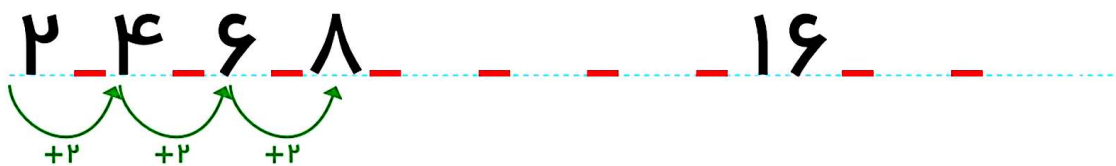
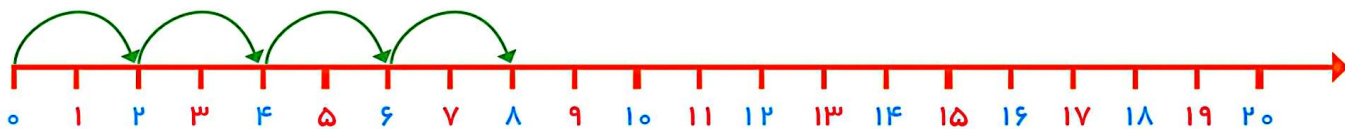


صد و پنجاه

۱۵۰

مسئله حل کن

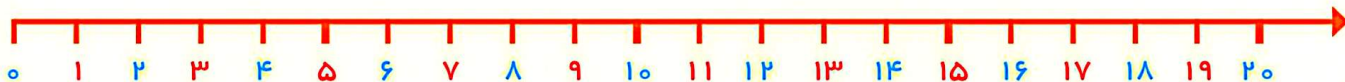
الگو را ادامه بده.
مسئله‌ها را با محور حل کن.



یک اتوبوس ۱۸ مسافر داشت. در اولین ایستگاه ۲ نفر پیاده شدند. در دومین ایستگاه ۲ نفر دیگر پیاده شدند. در ایستگاه سوم ۲ نفر دیگر پیاده شدند. حالا اتوبوس چند مسافر دارد؟ مسافر دارد.



در یک کلاس ۱۲ دانش‌آموز نشسته بودند. ۴ نفر وارد کلاس شدند. ۵ نفر از کلاس بیرون رفتند. حالا چند نفر در کلاس هستند؟ دانش‌آموز در کلاس است.



هدف این فعالیت‌ها حل مسئله‌های ۲ مرحله‌ای به کمک محور اعداد است.

لازم نیست فرزند شما برای حل این مسئله‌ها عبارت جمع یا تفریق بنویسد. پیدا کردن جواب به کمک محور کافی است.

