



نام و نام خانوادگی

تاریخ

موضوع:

هدف:

یک ده تایی

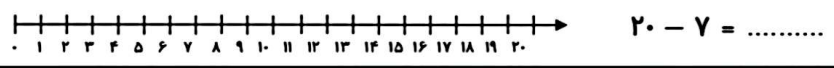
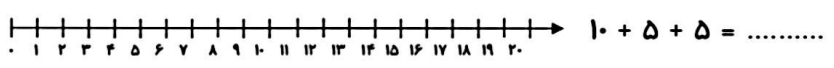
###-###	###-###
###-###	###-###
###	

با عدد:

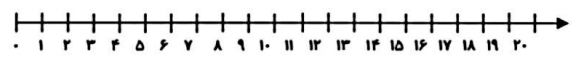
با حروف:

..... ده تایی و یکی
می شود

۵. جمع و تفریق زیر را روی محور نشان بده سپس جواب آن‌ها را بنویس.



۶. ۱۰ ماهی داخل تنگ آب بودند. آزاده ۶ ماهی دیگر داخل تنگ انداخت. حالا چند ماهی در تنگ است؟



حالا ماهی در تنگ است.

۷. ۱۴ میز در کلاس بود. آموزگار ۶ تا از میزها را به بیرون کلاس برد. حالا چند میز در کلاس مانده است؟



حالا میز در کلاس مانده است.

