



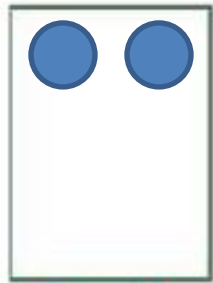
به نام خدا

به کلاس ریاضی خوش آمدید

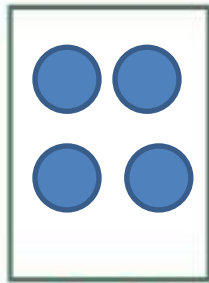
چهارشنبه ۲۷ اسفند ۱۴۰۴

۵ با توجه به عددها شکل بکش.


۵




۲




۴




۶



۸



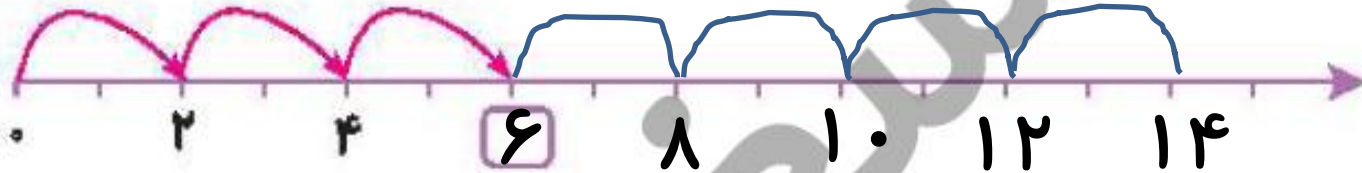
۱۰



۱۲

۶ روی محور ۲ تا ۲ تا جلو برو و نوشتن عددها را ادامه بده.

۶



۷ تعداد پاها را بنویس.

۷



۲



۴



۶



۸



۱۰



۱۲



۱۴

حاصل جمع‌ها را با چوب‌خط پیدا کن و عبارت جمع را بنویس.

۸



..... + =



..... + =



دانش‌آموز بتواند تا ۲ تا ۲ به شیوه‌های مختلف شکل محور الگوهای عددی را بشمارد.

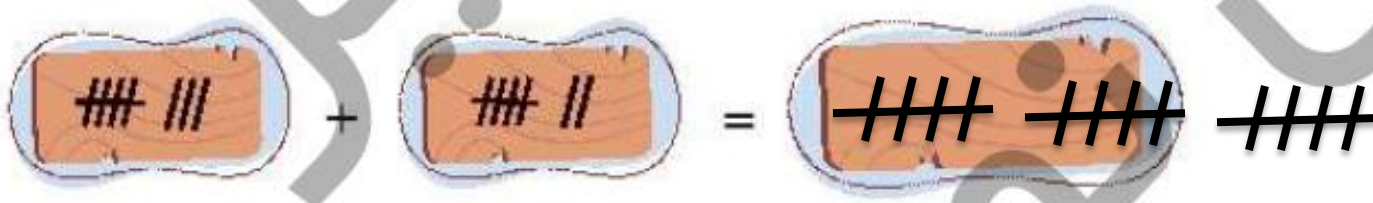
دانش‌آموز بتواند برای چوب‌خط‌ها عبارت مناسب بنویسد.

ریاضی اول دبستان

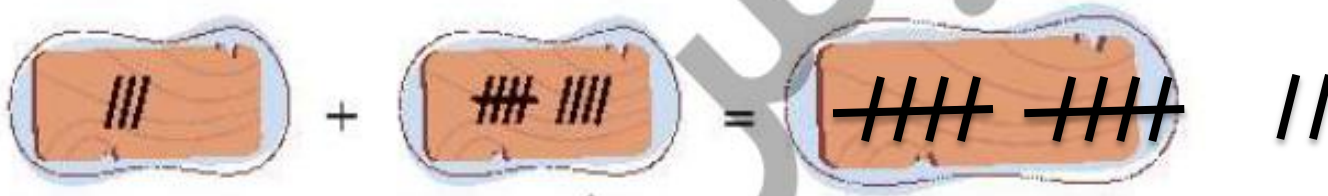


حاصل جمع‌ها را با چوب‌خط پیدا کن و عبارت جمع را بنویس.

۸



$$۸... + ۷... = ۱۵$$



$$۴... + ۹... = ۱۳$$



□ دانش‌آموز بتواند ۱۲ تا ۲۲ به شیوه‌های مختلف شکل، محور، الگوهای عددی را بشمارد.

□ دانش‌آموز بتواند برای چوب‌خط‌ها عبارت مناسب بنویسد.

ریاضی اول دبستان



علوی

تعداد لبه‌ها را بشمار و عدد مناسب بنویس.




.....

.....

.....

.....

روی محور ۴ تا ۴ جلو برو و عدد مناسب را بنویس.



علوی

تعداد لبه‌ها را بشمار و عدد مناسب بنویس. ۹



۳



۶




۹



۱۲


روی محور ۳ تا ۳ جلو برو و عدد مناسب را بنویس. ۱۰



$$۶ + ۶ = \dots\dots$$



$$۷ + ۸ = \dots\dots$$



$$۹ + ۹ = \dots\dots$$



دانش آموز بتواند تا ۱۰ تا به شیوه‌های مختلف شکل، محور و الگوهای عدد را بشمارد.


دانش آموز بتواند جمع ۵ و ۵ که یک دسته ده‌تایی می‌شود را درک کند.



$$۶ + ۶ = ۱۲ \dots$$



$$۷ + ۸ = ۱۵ \dots$$



$$۹ + ۹ = ۱۸ \dots$$



دانش آموز بتواند ۱۲ تا ۱۲ یا به شیوه‌های مختلف شکل، محور و الگوهای عدد را بشمارد.

دانش آموز بتواند جمع ۵ و ۵ که یک دسته ده‌تایی می‌شود را درک کند.

۱۲ گوشه‌ها را با چوب‌خط بشمار و عدد مناسب بنویس.

.....

.....

.....

.....

۱۳ روی محور ۴ تا ۴ جلو برو و عدد مناسب را بنویس.



۱۲ گوشه‌ها را با چوب‌خط بشمار و عدد مناسب بنویس.



۴



۸



۱۲



۱۶



۱۲ روی محور ۴ تا ۴ جلو برو و عدد مناسب را بنویس.



۱۴ در هر قسمت الگوی بین عددها را پیدا کن و ادامه بده


۰ - ۴ - ۸ - -

۳ - ۶ - ۹ - -

۵ - ۷ - ۹ - -

۶ - ۸ - ۱۰ - - -

۱۵ الگوی زیر را ادامه بده و الگویی که تکرار شده است را در سمت راست بکش.



- دانش آموز بتواند ۵۴ تا ۵۴ به شیوه‌های مختلف شکل، محور و الگوهای عددی را بشمارد
- دانش آموز بتواند رابطه‌ی بین الگوهای عددی را کشف و آن‌ها را ادامه دهد.
- دانش آموز بتواند الگو را ادامه دهد و الگوی تکرار شونده را تشخیص دهد.



۱۴ در هر قسمت الگوی بین عددها را پیدا کن و ادامه بده

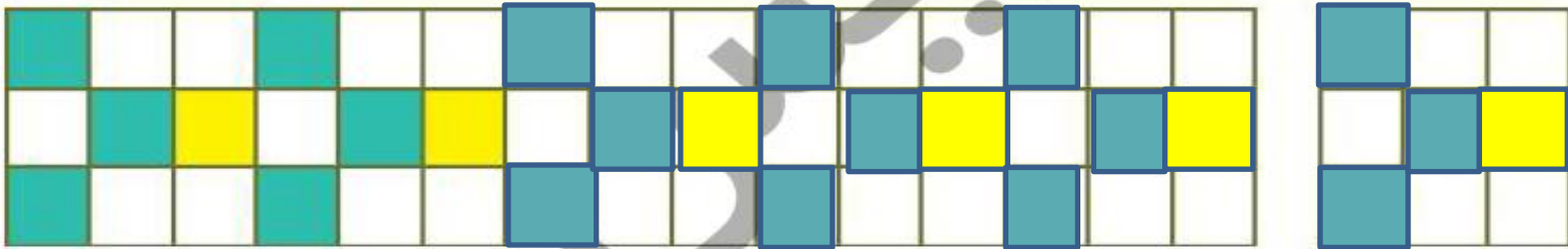
۰ - ۴ - ۸ - ۱۲... - ۱۶...

۳ - ۶ - ۹ - ۱۲... - ۱۵... - ۱۸...

۵ - ۷ - ۹ - ۱۱... - ۱۳... - ۱۵...

۶ - ۸ - ۱۰... - ۱۲... - ۱۴... - ۱۶... - ۱۸...

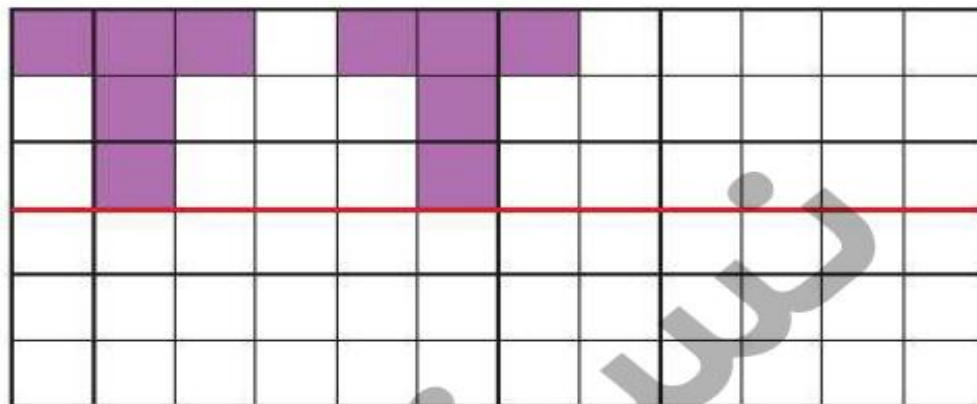
۱۵ الگوی زیر را ادامه بده و الگویی که تکرار شده است را در سمت راست بکش.



- دانش آموز بتواند ۱۴ تا ۱۴ به شیوه‌های مختلف شکل، محور و الگوهای عددی را بشمارد
- دانش آموز بتواند رابطه‌ی بین الگوهای عددی را کشف و آن‌ها را ادامه دهد.
- دانش آموز بتواند الگو را ادامه دهد و الگوی تکرار شونده را تشخیص دهد.



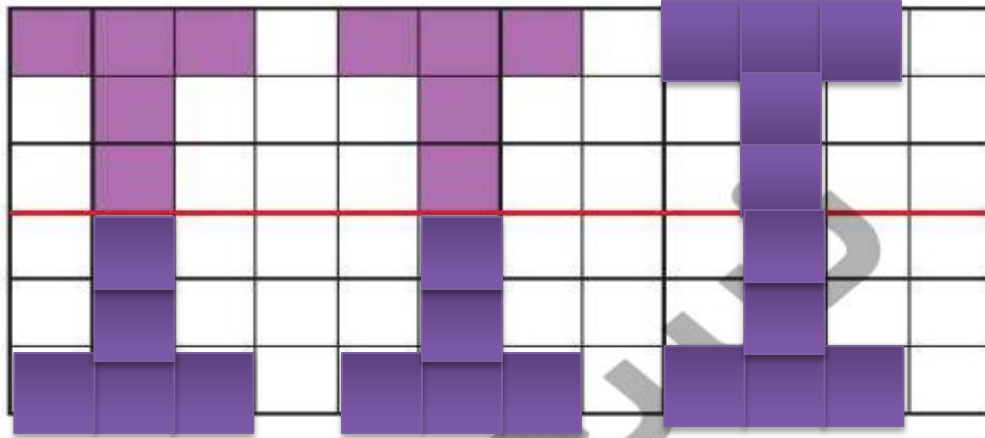
۱۶ ابتدا الگو را ادامه بده و سپس نیمه‌ی دیگر را به دقت رنگ بزن.



۱۷ جدول شگفت‌انگیز زیر را کامل کن.

۷	۱	۲	۶	۸	۹	۴	۵	۳
۹		۴	۳	۲	۵	۷		۱
۳	۶					۸		۲
۴		۶	۹				۱	۷
۲	۵	۸	۷	۱	۳		۴	۹
۱			۲		۶		۸	۵
۸	۹				۲		۳	۴
۶		۳	۵		۴		۷	۸
۵	۴	۱	۸	۳	۷	۹	۲	۶


۱۶ ابتدا الگو را ادامه بده و سپس نیمه‌ی دیگر را به دقت رنگ بزن.



۱۷ جدول شگفت‌انگیز زیر را کامل کن.

۷	۱	۲	۶	۸	۹	۴	۵	۳
۹	۸	۴	۳	۲	۵	۷	۶	۱
۳	۶	۵	۴	۷	۱	۸	۹	۲
۴	۳	۶	۹	۵	۸	۲	۱	۷
۲	۵	۸	۷	۱	۳	۶	۴	۹
۱	۷	۹	۲	۴	۶	۳	۸	۵
۸	۹	۷	۱	۶	۲	۵	۳	۴
۶	۲	۳	۵	۹	۴	۱	۷	۸
۵	۴	۱	۸	۳	۷	۹	۲	۶

برای محورهای زیر جمع و تفریق مناسب بنویس.




دانش آموز بتواند الگو را به درستی ادامه دهد و قرینه‌ی شکل‌ها را رسم کند.

دانش آموز بتواند جدول شگفت‌انگیز را به درستی کامل کند.

دانش آموز بتواند با توجه به محور، عبارت جمع یا تفریق بنویسد.



برای محورهای زیر جمع و تفریق مناسب بنویس.



دانش آموز بتواند انگور را به درستی ادامه دهد و قرینه‌ی شکل‌ها را رسم کند.

دانش آموز بتواند جدول شگفت انگیز را به درستی کامل کند.

دانش آموز بتواند با توجه به محور، عبارت جمع یا تفریق بنویسد.



۱۳۱

