



موضوع:

تاریخ

نام و نام خانوادگی

هدف:

جمع های زیر را انجام بده.

$$5+8+10-10+2=$$

$$2+3+5+5+10=$$

$$10+5+10+5+5=$$

$$10+10+5+5=$$

$$10+20+5-5=$$

$$2+2+2+2=$$

$$5+5+5+4+4=$$

$$40+5+1+4=$$

جاهای خالی را کامل کن.

۹ یکی و ۷ ده تایی می شود.....

۴۷ می شود..... ده تایی و ..... یکی

۲ ده تایی و ۶ یکی می شود.....

۳۸ یعنی ..... یکی و ..... ده تایی

۷ ده تایی و ۸ یکی می شود.....

۸۷ می شود..... ده تایی و ..... یکی

خواهرم ۳ دسته ی ده تایی و ۴ یکی مداد دارد. او به من ۱ دسته ی ده تایی ۲ یکی مداد داد. او اکنون چند مداد دارد؟

پدر سمیه نجار است. او شنبه ۸ میز، یک شنبه ۵ میز و دوشنبه ۹ میز ساخته است. او روی هم چند میز ساخته است؟

پژمان ۶ سکه ی ۱۰ تومانی دارد. دو سکه ی ۵ تومانی هم پدرش به او داد. او چند تومان دارد؟ اگر یک مداد ۲۰ تومانی بخرد چقدر برایش باقی می ماند؟



نام و نام خانوادگی


تاریخ

موضوع:

هدف:

1- جدول را کامل کن. (آزمون و خطا)

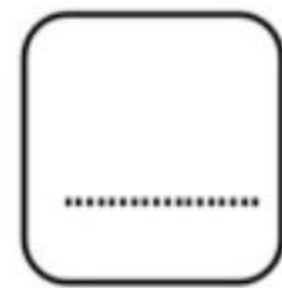
5	2	3	6	4	
6	4	1	3	5	
	3	5	2	1	6
	6	2	4	3	5
2	5			6	3
3	1			2	4



2- شکل را با چوب خط بشمار و عدد آن را در جدول و روی خط بنویس.



یکی ده تایی



3- جمع کن. (به ذهن سپردن 5)




$6 + 7 = \square$

$7 + 8 = \square$

$9 + 5 = \square$

$7 + 7 = \square$

4- با توجه به جمع داده شده، چینه ها را با رنگ های مختلف رنگ کن؛ و جواب جمع را بنویس.



$4 + 5 + 4 = \underline{\quad}$

بازخورد:

Handwriting practice area with four horizontal lines.







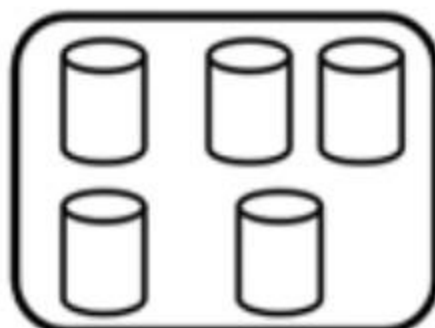
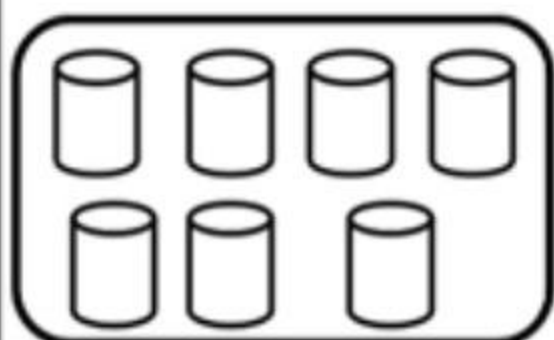
نام و نام خانوادگی

تاریخ

موضوع:

هدف:

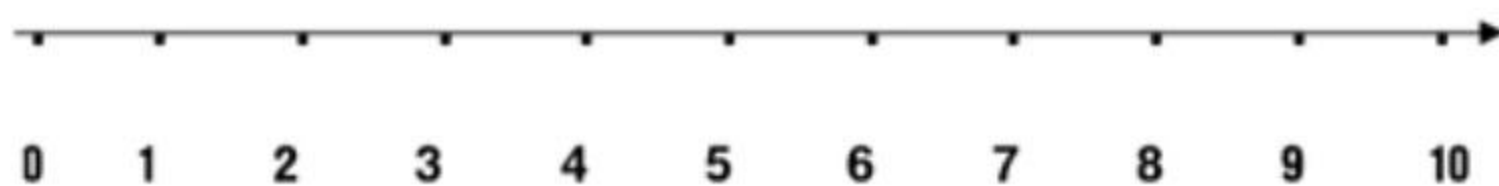
5- عدد هر دسته را بنویس و علامت  $< = >$  بگذار.



-----  -----

-----  -----

6- با کمک محور تفریق کن.



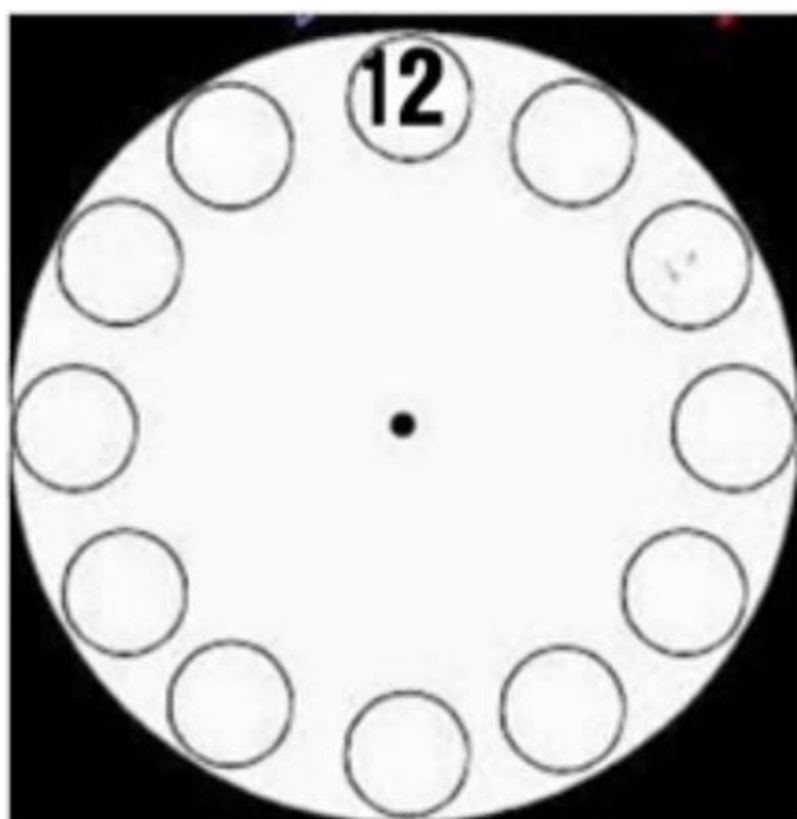
$9 - 5 = \square$

7- برای شکل تفریق بنویس.

----- - ----- = -----



8- عدد های ساعت را بنویس.




ضعیف

متوسط

خوب

عالی