



ارمغان هفته - اول دبستان

شماره‌ی

۲۴

نام و نام خانوادگی: تاریخ: نام آموزگار:

ریاضی < ۲۰ تم

علوم < درس ۱۲: از خانه تا مدرسه (۱)

فارسی < نشانه‌های «ص ص» و «ذ»

ریاضی

هر عدد را در جدول ارزش مکانی و به حروف، داخل ابرها بنویسید.



۴۹



۳۲



۲۴



۳۱



هر مسئله را با دقت بخوانید و برای آن شکل ساده بکشید و پاسخ سؤال را بنویسید.



الف) برنا برای دوستانش شکلات بسته‌ای خرید. داخل هر بسته ۵ شکلات قرار دارد. او به هر کدام از ۶ دوستش ۱ بسته شکلات داد. دوستانش روی هم چند دانه شکلات دارند؟

.....
.....

ب) پدر درنا و برنا ۳ بسته‌ی ۱۰ تایی لامپ خرید و ۴ عدد لامپ هم برنا برای خانه خرید. آنها چند عدد لامپ در خانه دارند؟

.....
.....



عددهای داده شده نمرتب هستند آن‌ها را به صورت مرتب در کادرها بنویسید.



۱۰ - ۳۰ - ۵۰ - ۴۰ - ۹۰ - ۷۰ - ۸۰ - ۲۰ - ۶۰

--	--	--	--	--	--	--	--	--

حاصل جمع و تفریق‌های زیر را به صورت ذهنی پیدا کنید.



$10 + 10 + 20 = \dots\dots\dots$

$50 - 5 = \dots\dots\dots$

$50 + 10 + 5 = \dots\dots\dots$

$10 + 5 = \dots\dots\dots$

$10 - 5 = \dots\dots\dots$

$20 + 5 = \dots\dots\dots$

علوم

از خانه که به سمت مدرسه می‌روید، چه چیزهایی را در حال حرکت می‌بینید؟ (علامت بزنید.)





به نظر شما کدام گروه از دانش‌آموزان برای رفتن به مدرسه مسیر حرکت سخت‌تری دارند؟ دور آن‌ها را خط بکشید.






هر کدام از تصاویر زیر برای حرکت از چه چیزی استفاده می‌کند؟ زیر تصویر شکل آن را بکشید.




تصویر یک وسیله که حرکت می‌کند را بکشید و آن را به زیبایی رنگ کنید.



فارسی

دوتا دوتا به هم وصل کنید و ... ربط را با رنگ قرمز بنویسید.

- | | | | | | |
|-------|---|--------|---|------|---|
| | ← | صلبون | • | لباس | • |
| | ← | دریایی | • | کف | • |
| | ← | صورتی | • | صورت | • |
| | ← | تمیز | • | صدف | • |





۲

کلمه‌ی درست را انتخاب کنید و در جای خالی بنویسید.

«صابون - گذشته - دلپذیر - لذت - اذان»

الف) ما، تابستان به مسافرت رفتیم.

ب) صدای را از مسجد شنیدم.

پ) او با دستش را می‌شوید.

ت) من از خوردن کباب می‌پریم.

ث) در فصل بهار هوا است.

۳

نام تصاویر زیر را با انتخاب شکل مناسب (ز - ذ، کامل کنید.



— مو



— یا



ا — ان



نما —



۴

برای هر یک از نشانه‌های زیر چند کلمه بنویسید و جدول را کامل کنید.

ص ص	س س

وسایل و اندام حرکت کننده

حرکت در مکان‌های مختلف

انتخاب کلمه‌ی صحیح (بِ ربط)

جمله سازی (جای خالی)

عددنویسی (یکی و ده تایی، اعداد دو رقمی)

حل مسئله

الگویابی عددی

جمع و تفریق ذهنی

شاخص‌ها

خیلی خوب

خوب

قابل قبول

نیاز به تلاش بیشتر

