



موضوع:

تاریخ:

نام و نام خانوادگی:

هدف:

به کمک محور جمع کن



$$4 + 5 = \square$$

به کمک محور تفریق کن




$$8 - 3 = \square$$

به کمک محور جمع کن

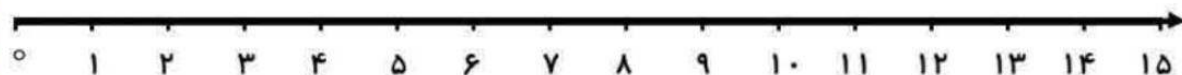


$$4 + 4 + 4 = \square$$

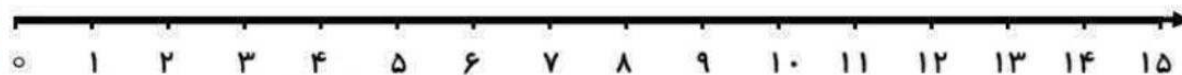
جاهای خالی را با کمک محور کامل کن



$$\square - \square - \square - \square - \square - 10 - 12 - 14$$



۵ پرند روی شاخه ی درختی نشسته بودند. ۳ پرند دیگر کنار آن ها نشستند. چند پرند روی درخت است؟ روی محور نشان بده؟



۸ اردک داخل حوض شنا می کردند. ۳ اردک از حوض خارج شدند. چند اردک داخل حوض ماندند؟ روی محور نشان بده؟