
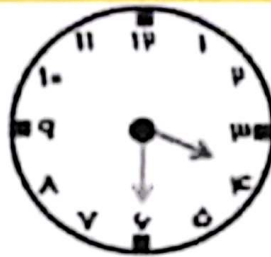





۱. جواب جمع و تفریق های زیر را به دست بیاور ، سپس علامت $< = >$ بگذار.

$60 - 20$ ○ $60 - 10$	$90 - 30$ ○ $30 + 40$	$70 - 50$ ○ $50 - 30$
$50 + 20$ ○ $30 - 20$	$20 - 5$ ○ $20 - 10$	$60 + 20$ ○ $10 + 80$

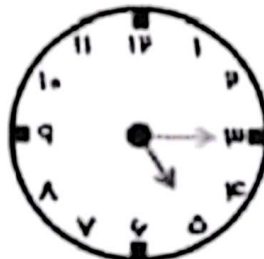
۳. با توجه به هر ساعت جاهای خالی را کامل کن. (عقربه ی پر رنگ عقربه ی ساعت شمار است)



ساعت بین و..... است.

ساعت بین و..... است.

ساعت بین و..... است.



ساعت بین و..... است.

ساعت بین و..... است.

ساعت بین و..... است.