



به نام خدا

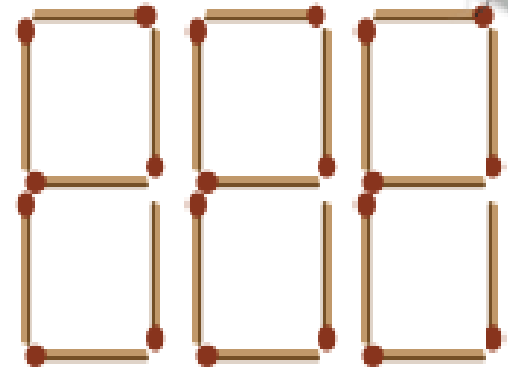
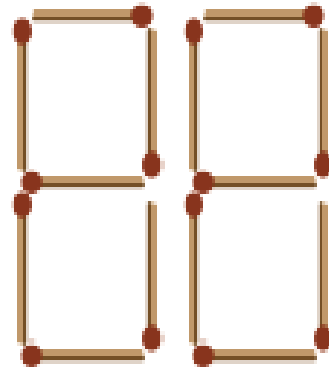
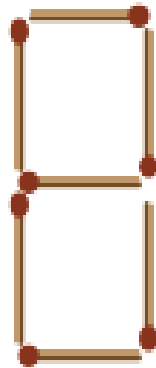
به کلاس ریاضی خوش آمدید.





بشمار و بنویس

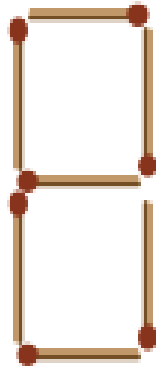
جاهای خالی را با عدد مناسب پر کن.
۷ تا ۷ تا بشمار و رنگ کردن را ادامه بده.



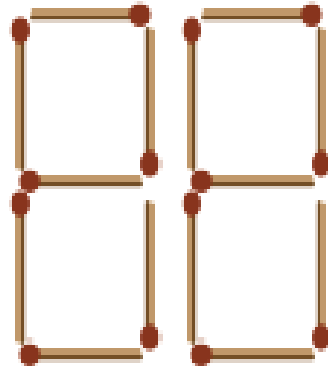


بشمار و بنویس

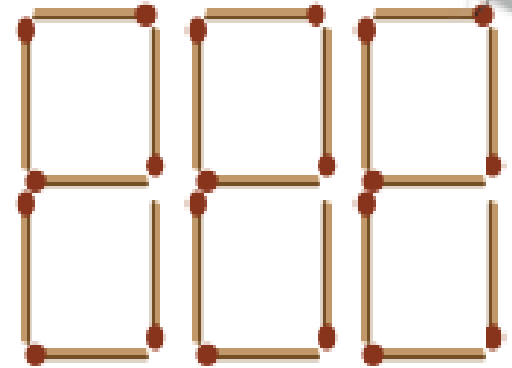
جاهای خالی را با عدد مناسب پر کن.
۷ تا ۷ تا بشمار و رنگ کردن را ادامه بده.



۷



۱۴



۲۱



۷



۱۴



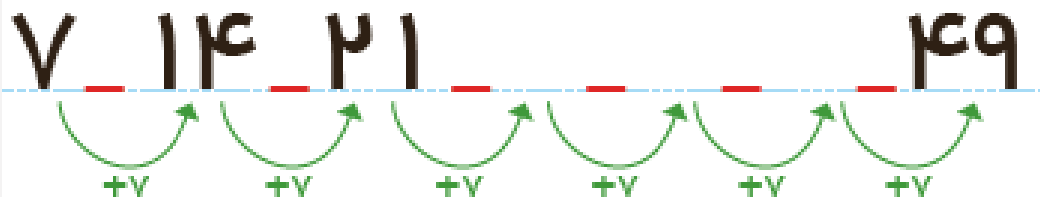

۲۱



۲۸



۱	۲	۳	۴	۵	۶	۷	۸	۹	۱۰
۱۱	۱۲	۱۳	۱۴	۱۵	۱۶	۱۷	۱۸	۱۹	۲۰
۲۱	۲۲	۲۳	۲۴	۲۵	۲۶	۲۷	۲۸	۲۹	۳۰
۳۱	۳۲	۳۳	۳۴	۳۵	۳۶	۳۷	۳۸	۳۹	۴۰
۴۱	۴۲	۴۳	۴۴	۴۵	۴۶	۴۷	۴۸	۴۹	۵۰



شنبه	یکشنبه	دو شنبه	سه شنبه	چهارشنبه	پنجشنبه	شنبه
۷	۶	۵	۴	۳	۲	۱
دو شنبه	یکشنبه	دو شنبه	سه شنبه	چهارشنبه	پنجشنبه	شنبه
۱۴	۱۳	۱۲	۱۱	۱۰	۹	۸
دو شنبه	یکشنبه	دو شنبه	سه شنبه	چهارشنبه	پنجشنبه	شنبه
۲۱	۲۰	۱۹	۱۸	۱۷	۱۶	۱۵
دو شنبه	یکشنبه	دو شنبه	سه شنبه	چهارشنبه	پنجشنبه	شنبه
۲۸	۲۷	۲۶	۲۵	۲۴	۲۳	۲۲
					پنجشنبه	شنبه
					۳۰	۲۹

هدف، شمردن و ادامه دادن الگوی ۷ تا ۷ تا بیشتر از عددهای داده شده در جدول و یا به صورت ذهنی نیست.

شمردن ۷ تا ۷ تا با کمک چیزها و مهره‌ها یا رسم شکل توصیه می‌شود. یکی از این نمونه‌ها تقویم ماهانه است که روزهای هفته ۷ تا

۷ تا مشخص می‌شود.

۱	۲	۳	۴	۵	۶	۷	۸	۹	۱۰
۱۱	۱۲	۱۳	۱۴	۱۵	۱۶	۱۷	۱۸	۱۹	۲۰
۲۱	۲۲	۲۳	۲۴	۲۵	۲۶	۲۷	۲۸	۲۹	۳۰
۳۱	۳۲	۳۳	۳۴	۳۵	۳۶	۳۷	۳۸	۳۹	۴۰
۴۱	۴۲	۴۳	۴۴	۴۵	۴۶	۴۷	۴۸	۴۹	۵۰



۷ ۱۴ ۲۱ ۲۸ ۳۵ ۴۲ ۴۹

+۷ +۷ +۷ +۷ +۷ +۷

شنبه	یکشنبه	دو شنبه	سه شنبه	چهارشنبه	پنجشنبه	شنبه
۷	۶	۵	۴	۳	۲	۱
شنبه	یکشنبه	دو شنبه	سه شنبه	چهارشنبه	پنجشنبه	شنبه
۱۴	۱۳	۱۲	۱۱	۱۰	۹	۸
شنبه	یکشنبه	دو شنبه	سه شنبه	چهارشنبه	پنجشنبه	شنبه
۲۱	۲۰	۱۹	۱۸	۱۷	۱۶	۱۵
شنبه	یکشنبه	دو شنبه	سه شنبه	چهارشنبه	پنجشنبه	شنبه
۲۸	۲۷	۲۶	۲۵	۲۴	۲۳	۲۲
					پنجشنبه	شنبه
					۳۰	۲۹

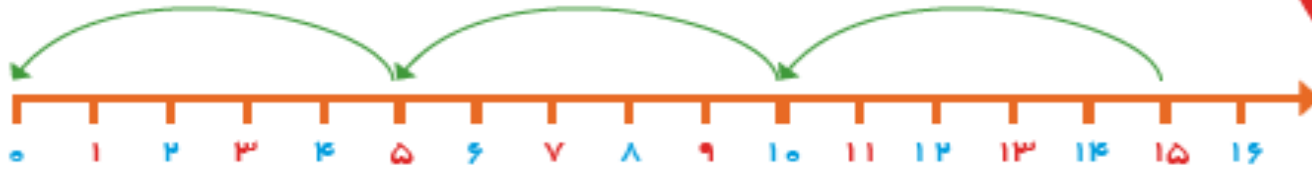
هدف، شمردن و ادامه دادن الگوی ۷ تا ۷ تا بیشتر از عددهای داده شده در جدول و یا به صورت ذهنی نیست.

شمردن ۷ تا ۷ تا با کمک چیزها و مهره‌ها یا رسم شکل توصیه می‌شود. یکی از این نمونه‌ها تقویم ماهانه است که روزهای هفته ۷ تا

۷ تا مشخص می‌شود.

جاهای خالی را پر کن.

بشمار و
بنویس



۲۰ ۲۵ ۳۰



پنجاه



چهل



سی



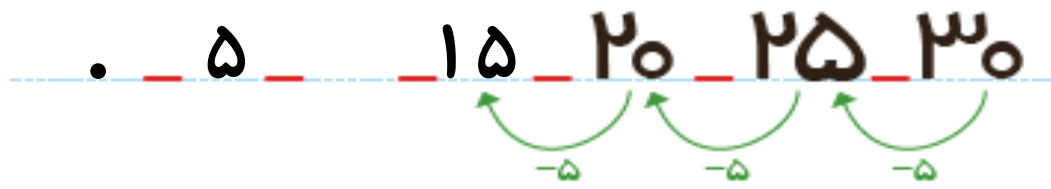
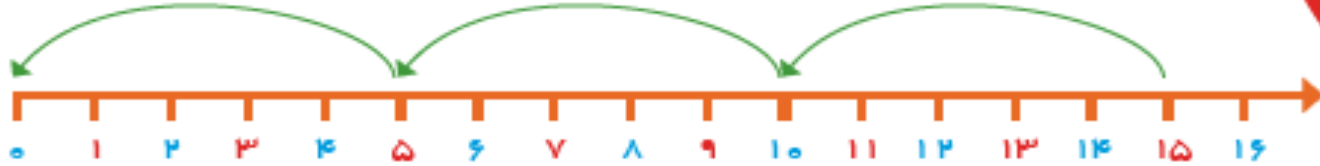
یست



ده

جاهای خالی را پر کن.

بشمار و بنویس



پنجاه
۵۰



چهل
۴۰



سی
۳۰



بیست
۲۰



ده
۱۰




شصت هفتاد هشتاد نود

هدف، تفریق عددهای بزرگتر از عددهای نوشته شده در این صفحه نیست. دانش آموزان در این محدوده‌ی عددها به کمک محور یا تفریق با انگشتان می‌توانند عددهای قبلی را پیدا کنند.

فرزند شما باید بتواند عددهای مضرب ۵ را به صورت معکوس به کمک شکل، چوب خط یا محور بشمارد و بیان کند.


صد و پنجاه و هفت

۱۵۴




نود

۹۰



هشتاد

۸۰



هفتاد

۷۰



شصت

۶۰

هدف، تفریق عددهای بزرگتر از عددهای نوشته شده در این صفحه نیست. دانش آموزان در این محدوده‌ی عددها به کمک محور یا تفریق با



انگشتان می‌توانند عددهای قبلی را پیدا کنند.

فرزند شما باید بتواند عددهای مضرب ۵ را به صورت معکوس به کمک شکل، چوب خط یا محور بشمارد و بیان کند.



صد و پنجاه و هفت

۱۵۴











۷۰



۷۱



۷۲

هفتاد و دو

۷۳

هفتاد و سه

۷۴

هفتاد و چَهار

۷۵

هفتاد و پَنج

٧٦

هفتاد و شِش

٧٧

هفتاد و هَفْت

۷۸

هفتاد و هشت

۷۹

هفتاد و نه