



به نام خداوند زیبایی ها



موضوع	شماره سؤال	هفته آموزشی
هوش ریاضی - جمع‌های چندتایی با استفاده از رسم شکل	۱	هفدهم
هوش کلامی	۲	
سرعت، دقت، تمرکز	۳	
هوش فضایی	۴	

۱. با کشیدن شکل، جواب جمع‌های داخل قوری را به فنجان مربوطه وصل کن.

تست دایره

۳ + ۴ + ۵

۱۴

۶ + ۳ + ۴

۱۲

۵ + ۴ + ۷

۱۳

۶ + ۰ + ۸

۱۶

۲. رابطه‌ی «مامان» با «بابا» مثل رابطه‌ی «مادر بزرگ» با ..... است.

(۴) پدر بزرگ

(۳) خاله

(۲) دایی




(۱) برادر

چهار هوش اول دبستان



# علوی

۳. تکه‌ی جدا شده از هر شکل را پیدا کن و دور آن خط بکش.



(۲)



(۱)



(۴)



(۳)



(۲)



(۱)



(۴)



(۳)



(۲)



(۱)

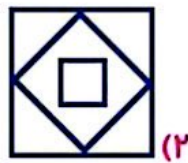

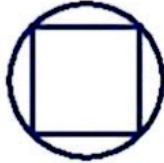



(۴)

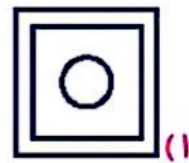


(۳)

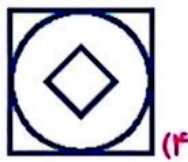
۴. به جای ؟ کدام شکل را می‌توان قبول داد؟



(۲)



(۱)



(۴)



(۳)





# عزرا، آقربین

## پسرای گلم



از همکاری شما

والدین گرامی