






بشمار و بنویس




جاهای خالی را پر کن.  
۸ تا ۸ تا بشمار و رنگ کردن را ادامه بده.



-----

-----

-----



-----


-----

-----




جاهای خالی را پر کن.  
۸ تا ۸ تا بشمار و رنگ کردن را ادامه بده.


بشمار و بنویس



۸



۱۶



۲۴



۸



۱۶



۲۴



۱	۲	۳	۴	۵	۶	۷	۸	۹	۱۰
۱۱	۱۲	۱۳	۱۴	۱۵	۱۶	۱۷	۱۸	۱۹	۲۰
۲۱	۲۲	۲۳	۲۴	۲۵	۲۶	۲۷	۲۸	۲۹	۳۰
۳۱	۳۲	۳۳	۳۴	۳۵	۳۶	۳۷	۳۸	۳۹	۴۰
۴۱	۴۲	۴۳	۴۴	۴۵	۴۶	۴۷	۴۸	۴۹	۵۰
۵۱	۵۲	۵۳	۵۴	۵۵	۵۶	۵۷	۵۸	۵۹	۶۰



۸    ۱۶    ۲۴



با توجه به اینکه جمع کردن مدها برای پیدا کردن مدهای بعدی الگو مورد نظر نیست، دانش‌آموزان باید الگو را به کمک جدول و پس از رنگ



صد و پنجاه و شش  
۱۵۶

کتابخانه

۱	۲	۳	۴	۵	۶	۷	۸	۹	۱۰
۱۱	۱۲	۱۳	۱۴	۱۵	۱۶	۱۷	۱۸	۱۹	۲۰
۲۱	۲۲	۲۳	۲۴	۲۵	۲۶	۲۷	۲۸	۲۹	۳۰
۳۱	۳۲	۳۳	۳۴	۳۵	۳۶	۳۷	۳۸	۳۹	۴۰
۴۱	۴۲	۴۳	۴۴	۴۵	۴۶	۴۷	۴۸	۴۹	۵۰
۵۱	۵۲	۵۳	۵۴	۵۵	۵۶	۵۷	۵۸	۵۹	۶۰



۸ - ۱۶ - ۲۴ - ۳۲ - ۴۰ - ۴۸ - ۵۶



با توجه به اینکه جمع کردن مدها برای پیدا کردن مدهای بعدی الگو مورد نظر نیست، دانش‌آموزان باید الگو را به کمک جدول و پس از رنگ



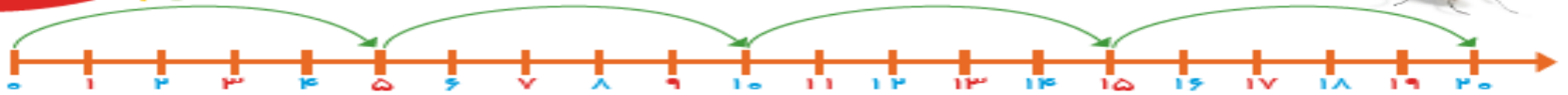
صد و پنجاه و شش  
۱۵۶

کتابخانه



### بشمار و بنویس

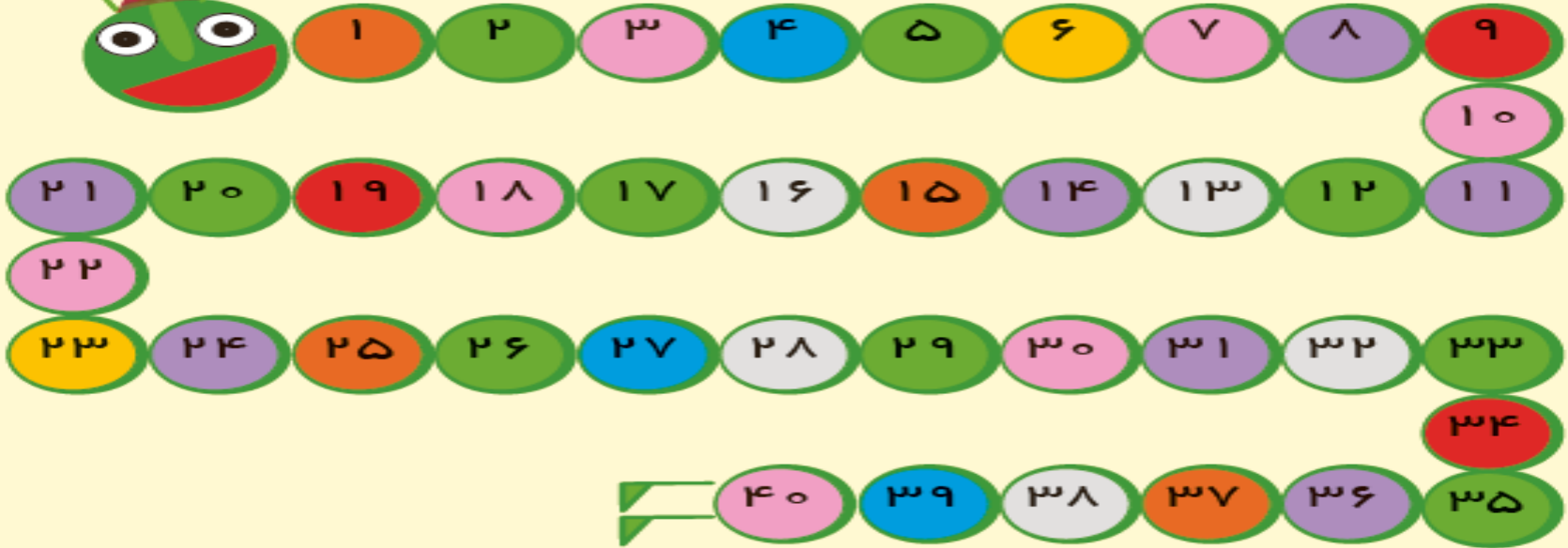
جاهای خالی را با عدد مناسب پر کن.  
بازی را با توجه به توضیحات آن انجام بده.



یک مهره روی یکی از عددهای ۱ تا ۵ بگذار. حالا دستوره‌های زیر را دنبال کن. آخر کار، مهره روی چه عددی است؟



- (۱) خانه برو جلو
- (۲) ۱۰ خانه برو جلو
- (۳) ۵ خانه برگرد عقب
- (۴) ۱۰ خانه برو جلو
- (۵) ۵ خانه برگرد عقب



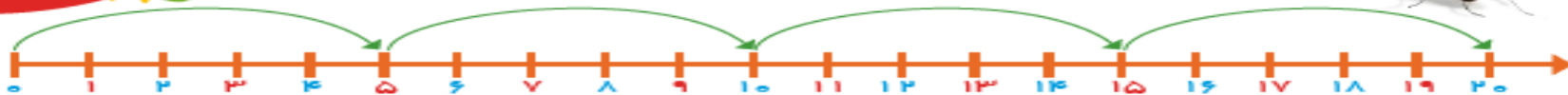
هدف اصلی این صفحه، دنبال کردن دستورات عمل و همچنین شمردن رو به جلو و عقب ۵ تایی با شروع‌های متفاوت است.  
بازی بالا را می‌توانید با شروع از عددهای مختلف با فرزند خود تمرین کنید.





### بشمار و بنویس

جاهای خالی را با عدد مناسب پر کن.  
بازی را با توجه به توضیحات آن انجام بده.



•

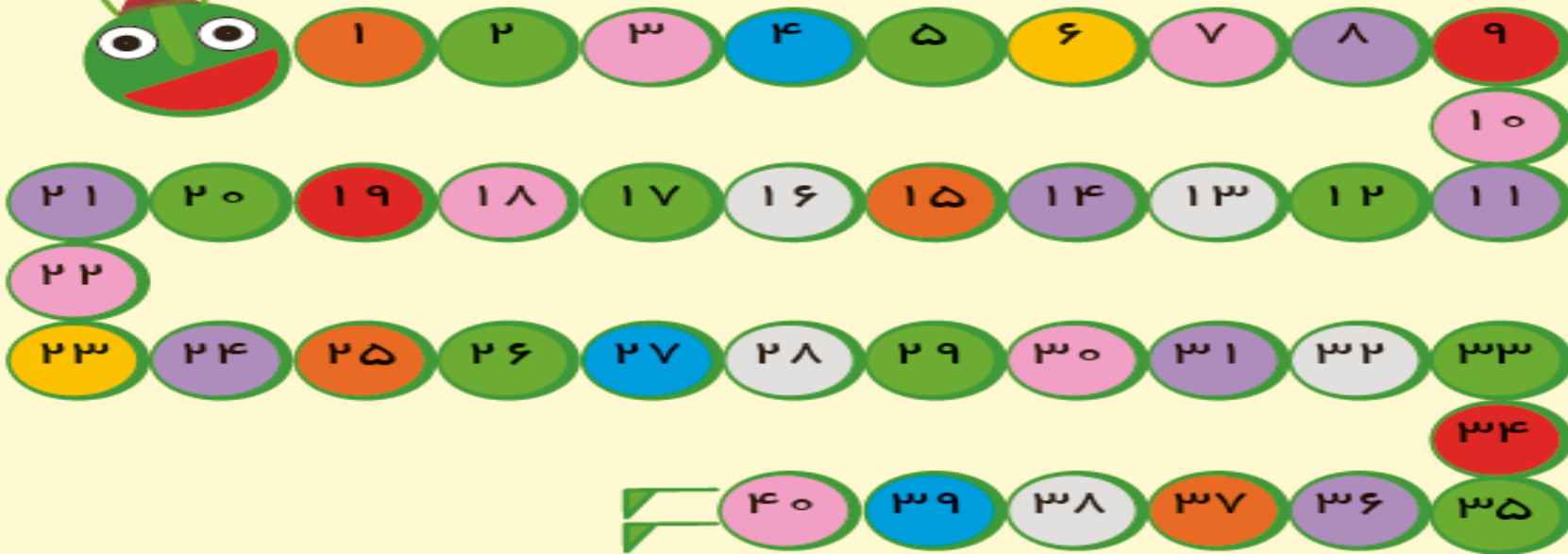
۵

۱۰

۱۵

۲۰

یک مهره روی یکی از عددهای ۱ تا ۵ بگذار. حالا دستوره‌های زیر را دنبال کن. آخر کار، مهره روی چه عددی است؟  
(۱) خانه برو جلو  
(۲) ۱۰ خانه برو جلو  
(۳) ۵ خانه برگرد عقب  
(۴) ۱۰ خانه برو جلو  
(۵) ۵ خانه برگرد عقب



هدف اصلی این صفحه، دنبال کردن دستورات عمل و همچنین شمردن رو به جلو و عقب ۵ تایی با شروع‌های متفاوت است.

بازی بالا را می‌توانید با شروع از عددهای مختلف با فرزند خود تمرین کنید.



جاهای خالی را با عدد مناسب پر کن.  
عددهایی را که به حروف نوشته شده است، به عدد بنویس.

بشمار و بنویس



$$۵ + ۵ + ۵ + ۵ = \square$$

$$۵ + ۵ + ۵ + ۴ = \square$$

$$۲۰ + ۱۰ + ۵ - ۵ = \square$$

$$۱۰ + ۱۰ + ۵ + ۵ + ۵ = \square$$

$$۲۰ + ۱۰ + ۵ + ۳ = \square$$

$$۵ + ۵ + ۲ = \square$$

$$۲۰ + ۵ + ۱۰ - ۱۰ = \square$$

$$۱۰ + ۵ + ۳ = \square$$

$$۲۰ + ۲۰ + ۱۰ + ۵ = \square$$

$$۱۰ + ۲۰ + ۵ + ۴ = \square$$

جاهای خالی را با عدد مناسب پر کن.  
عددهایی را که به حروف نوشته شده است، به عدد بنویس.

بشمار و  
بنویس



$$5 + 5 + 5 + 5 = 20$$

$$5 + 5 + 5 + 4 = 19$$

$$20 + 10 + 5 - 5 = 30$$

$$10 + 10 + 5 + 5 + 5 = 35$$

$$20 + 10 + 5 + 3 = 38$$

$$5 + 5 + 2 = 12$$

$$20 + 5 + 10 - 10 = 25$$

$$10 + 5 + 3 = 18$$

$$20 + 20 + 10 + 5 = 55$$

$$10 + 20 + 5 + 4 = 39$$