


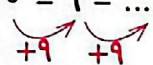
با کمک جدول به سؤال‌های زیر پاسخ بده.

۱	۲	۳	۴	۵	۶	۷	۸	۹	۱۰
۱۱	۱۲	۱۳	۱۴	۱۵	۱۶	۱۷	۱۸	۱۹	۲۰
۲۱	۲۲	۲۳	۲۴	۲۵	۲۶	۲۷	۲۸	۲۹	۳۰
۳۱	۳۲	۳۳	۳۴	۳۵	۳۶	۳۷	۳۸	۳۹	۴۰
۴۱	۴۲	۴۳	۴۴	۴۵	۴۶	۴۷	۴۸	۴۹	۵۰
۵۱	۵۲	۵۳	۵۴	۵۵	۵۶	۵۷	۵۸	۵۹	۶۰

الف) عددها را با شمردن ۸ تا ۸ تا زرد کن و سپس الگوی عددی زیر را کامل کن.

۰ - ۸ - ۱۶ - ..... - ..... - ..... - .....  


ب) عددها را با شمردن ۹ تا ۹ تا آبی کن و سپس الگوی عددی زیر را کامل کن.

۰ - ۹ - ..... - ..... - ..... - .....  


پ) از ۷ شروع کن و ۱۰ تا ۱۰ تا بشمار. آخرین کدام است؟ به عدد و حروف بنویس.

ت) از ۶۰ شروع کن و ۵ تا ۵ تا به عقب برگرد. آخرین عدد را به عدد و حروف بنویس.

ث) انگشتت را روی یکی از اعداد ۱ تا ۵ بگذار و دستوره‌های زیر را دنبال کن: آخرین عددی که به آن رسیدی را به عدد و حروف بنویس.

۳) ۹ خانه به عقب برگرد

۲) ۵ خانه به جلو برو

۱) ۸ خانه به جلو برو

آخرین عدد:

۵) ۶ خانه به جلو برو

۴) ۷ خانه به جلو برو

به عدد .....

به حروف .....

دانش‌آموز بتواند الگوهای عددی را با کمک جدول ادامه دهد.

دانش‌آموز بتواند دستورالعمل‌ها را دنبال کند.



$$10 + 5 + 5 + 5 + 5 =$$

$$10 + 20 + 5 - 5 =$$

$$10 + 20 + 10 + 5 + 4 =$$

$$20 + 10 + 5 + 5 + 10 =$$

$$10 + 5 + 5 + 20 + 10 - 10 =$$

$$20 + 20 + 10 + 6 + 10 =$$

$$10 + 20 + 5 + 5 =$$

$$20 + 10 + 5 + 10 + 5 + 5 =$$

$$10 - 10 + 7 + 20 =$$

$$5 + 5 + 5 + 5 + 9 =$$

$$10 + 20 + 10 + 5 + 2 =$$

$$10 - 10 + 30 + 5 + 1 =$$

.....  
نود و نه

۲۲  
.....

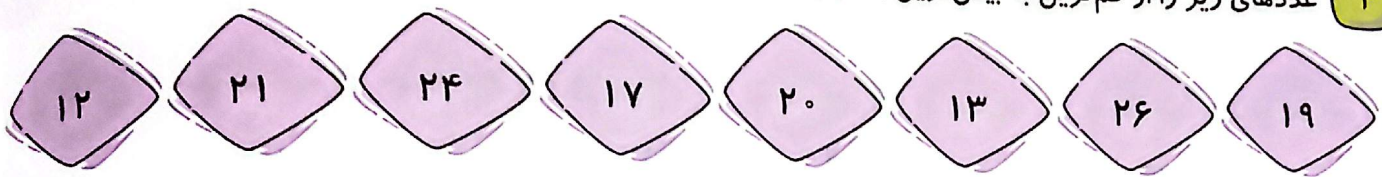
.....  
سی و هفت

۵۴  
.....

.....  
چهل

۶۸  
.....

۴ عددهای زیر را از کمترین به بیشترین به ترتیب بنویس.



۵ جواب جمع و تفریقها را بنویس؛ سپس جوابها را مقایسه کن و علامت مناسب را انتخاب کن.

$50 + 30 = \bigcirc$   $\langle = \rangle$   $80 - 10 = \bigcirc$

$35 - 5 = \bigcirc$   $\langle = \rangle$   $20 + 5 = \bigcirc$

$10 + 10 + 5 + 3 = \bigcirc$   $\langle = \rangle$   $20 + 10 + 7 = \bigcirc$

$20 + 10 - 10 = \bigcirc$   $\langle = \rangle$   $10 + 5 + 5 = \bigcirc$

$3 + 30 + 10 = \bigcirc$   $\langle = \rangle$   $20 + 2 + 20 = \bigcirc$

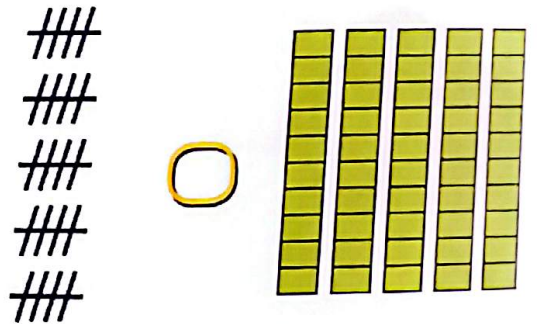


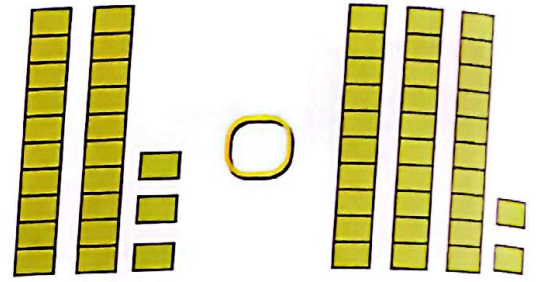
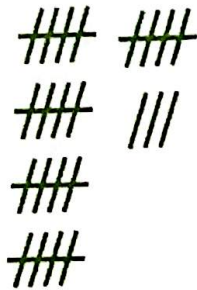
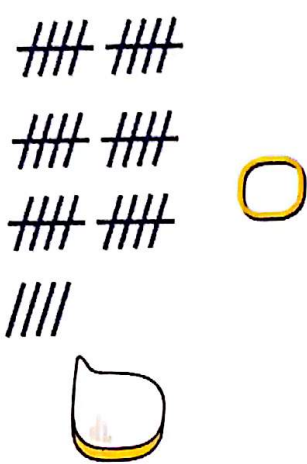
۶ عددهای مثل هم را با خط کش به هم وصل کن.

$\bigcirc$ 8	$\bigcirc$ 2	$\bigcirc$ 8
$\bigcirc$ 2	$\bigcirc$ 8	$\bigcirc$ 2
$\bigcirc$ 5	$\bigcirc$ 5	$\bigcirc$ 5

دانش آموز بتواند اعداد را به ترتیب از کمترین به بیشترین مرتب کند.  
 دانش آموز بتواند جمع و تفریقها را به صورت صحیح بنویسد.  
 دانش آموز بتواند مقایسه را به درستی انجام دهد.

# علوی

عددهای هر دسته را در  بنویس و دو دسته‌ی سمت راست و چپ را با هم مقایسه کن و سپس علامت مناسب  $<=>$  را در  بگذار.



۸ زمان‌های خواسته شده را روی هر ساعت نشان بده و عقربه‌ها را رسم کن.



ساعت ۱۲ است.



ساعت ۹ است.



ساعت ۵ است.


دانش آموز بتواند به کمک شکل، اعداد را با هم مقایسه کند  
 دانش آموز بتواند زمان را به درستی نشان دهد.

مسئله‌های زیر را از هر روشی که می‌خواهی حل کن.

الف) دیروز ۱۵ نفر در کلاس موسیقی ثبت نام کردند. امروز هم ۱۰ نفر دیگر ثبت نام کردند. در کل چند نفر در کلاس موسیقی ثبت نام کرده‌اند؟



ب) صدف از فروشگاه ۱۲ تخم مرغ خرید. ۷ تا از تخم‌مرغ‌ها در راه شکستند. چند تخم مرغ سالم باقی مانده است؟



پ) آذر ۲۴ کیک کوچک برای دوستانش خرید. آن‌ها همه‌ی کیک‌ها را خوردند. او اکنون چند کیک دارد؟



ت) ۳ دسته‌ی ۱۰ تایی سنجاب در جنگلی زندگی می‌کردند. ۷ سنجاب دیگر هم در کنار آن‌ها آمدند. حالا چند سنجاب در جنگل زندگی می‌کنند؟



ث) رضا ۱۹ سال دارد. برادرش ۹ سال از او کوچک‌تر است. برادر رضا چند ساله است؟



☐ دانش آموز بتواند با درک و فهم مسئله آن را حل کند.