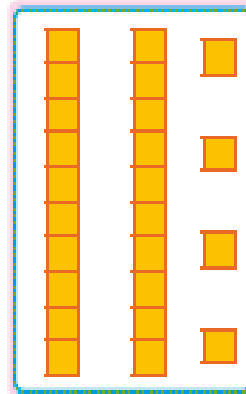
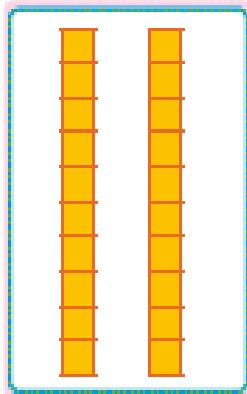


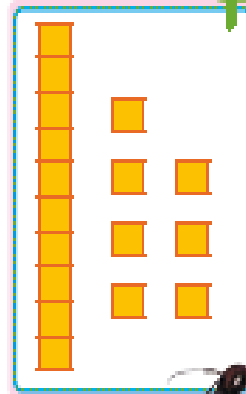

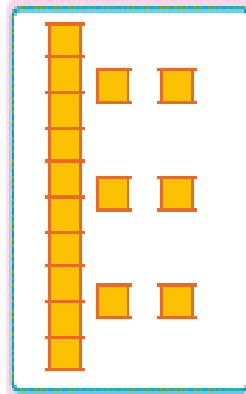







به نام خداوند مهربان

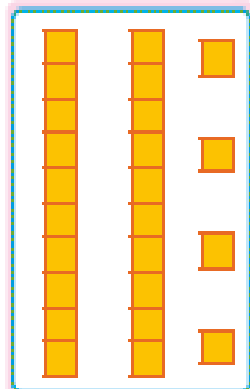


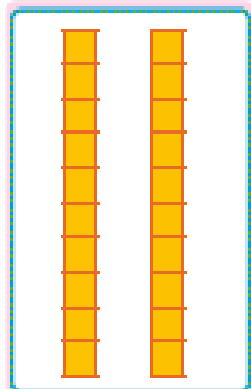
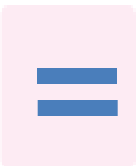

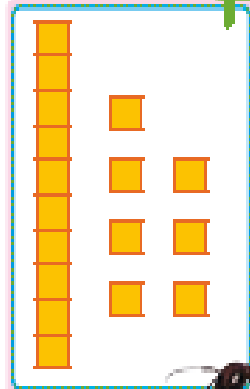

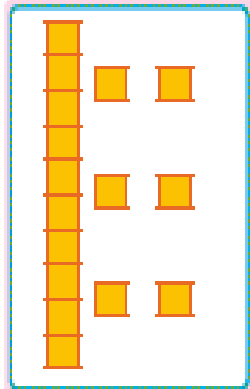

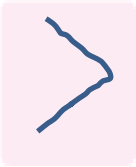


به کمک شکل، مقایسه کن و علامت مناسب (< = >) بگذار.  
عددهای مثل هم را با خط کش به هم وصل کن.


با ابزار  
کار کن



به کمک شکل، مقایسه کن و علامت مناسب (<=>) بگذار.  
عددهای مثل هم را با خط کش به هم وصل کن.

با ابزار  
کار کن



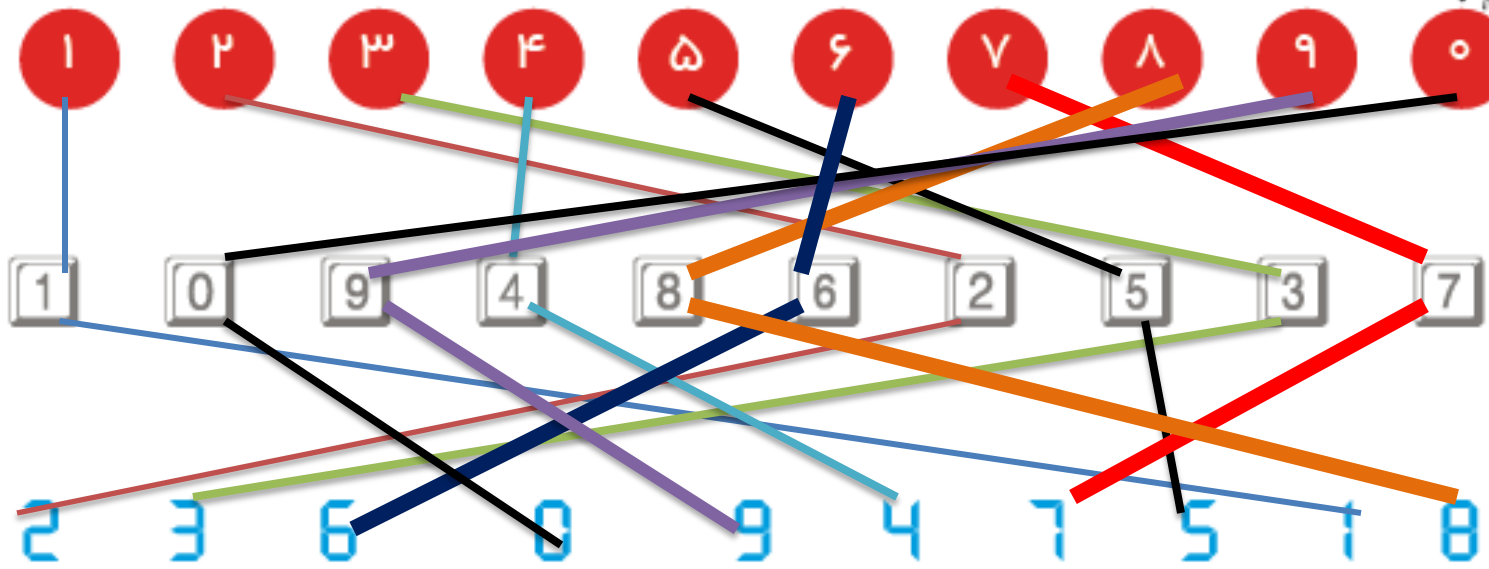


هدف این صفحه آشنایی دانش آموز با ماشین حساب و عددهای انگلیسی روی صفحه ی کلید و صفحه ی نمایش است.  
 عددهای مختلف یک رقمی را روی ماشین حساب به فرزند خود نشان دهید تا با این نمادها آشنا شود.



صد و شصت





هدف این صفحه آشنایی دانش آموز با ماشین حساب و عددهای انگلیسی روی صفحه‌ی کلید و صفحه‌ی نمایش است.  
 عددهای مختلف یک رقمی را روی ماشین حساب به فرزند خود نشان دهید تا با این نمادها آشنا شود.



صد و شصت

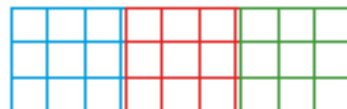
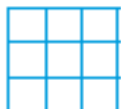
۱۶۰



# بشمار و بنویس

جاهای خالی را پر کن. 

مسئله‌ها را با هر روشی که می‌خواهی حل کن. 



-----

-----

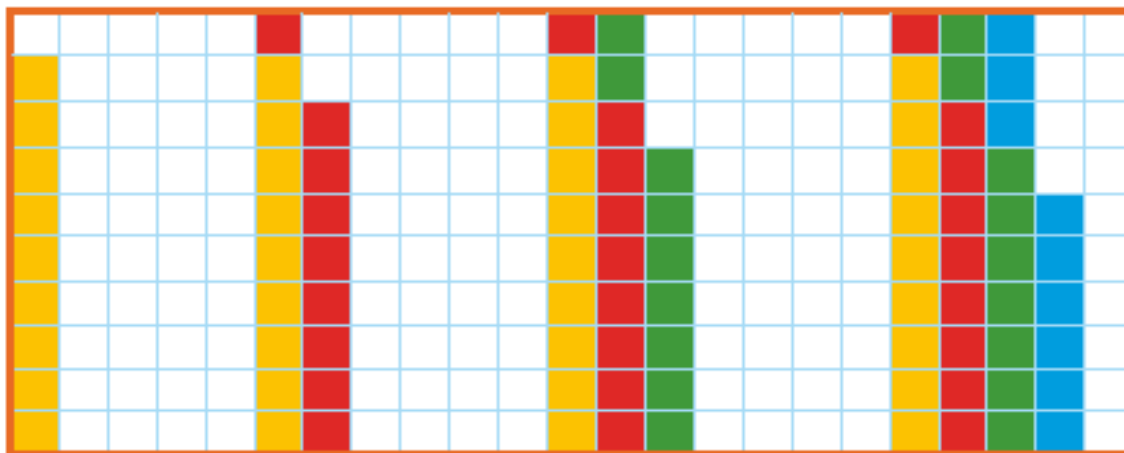
-----



-----

-----

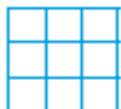
-----






بشمار و بنویس

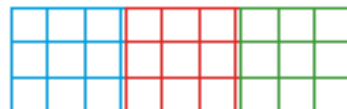
جاهای خالی را پر کن.  
مسئله‌ها را با هر روشی که می‌خواهی حل کن.



۹



۱۸



۲۷



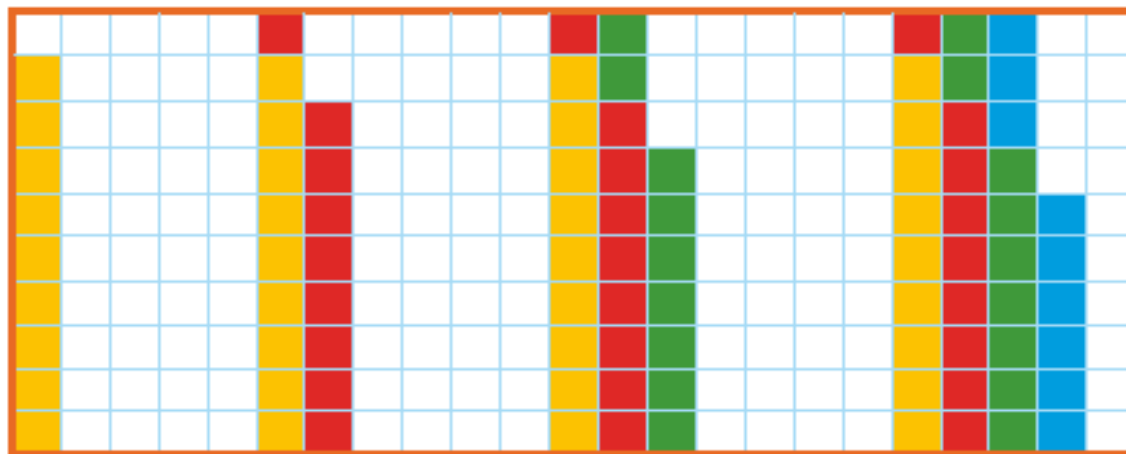
۹



۱۸



۲۷



۹

۱۸

۲۷

۳۶





حمید ۱۸ کتاب داستان دارد. امروز پدرش ۹ کتاب داستان دیگر  
به او داد. حالا حمید چند کتاب دارد؟

\_\_\_\_\_ کتاب دارد.

مریم ۹ کتاب داستان و ۲۷ کتاب علمی دارد. او روی هم چند کتاب دارد؟

\_\_\_\_\_ کتاب دارد.



 دانش‌آموزان بدون رسم شکل یا استفاده از چیزها و به کمک ماشین حساب می‌توانند عدد بعدی الگوها را بنویسند؛ لذا کار با ماشین حساب را آموزش دهید.  در صورتی که ماشین حساب در اختیار دارید، می‌توانید برای پیدا کردن عدد بعدی از ماشین حساب استفاده کنید.



حمید ۱۸ کتاب داستان دارد. امروز پدرش ۹ کتاب داستان دیگر

به او داد. حالا حمید چند کتاب دارد؟

$$۱۸ + ۹ = ۲۷$$

۲۷ کتاب دارد.

مریم ۹ کتاب داستان و ۲۷ کتاب علمی دارد. او روی هم چند کتاب دارد؟

$$۹ + ۲۷ = ۳۶$$

۳۶ کتاب دارد.



تصمیم و یک  
۱۶۱

دانش آموزان بدون رسم شکل یا استفاده از چیزها و به کمک ماشین حساب می توانند عدد بعدی الگوها را بنویسند؛ لذا کار با ماشین حساب را آموزش دهید. در صورتی که ماشین حساب در اختیار دارید، می توانید برای پیدا کردن عدد بعدی از ماشین حساب استفاده کنید.

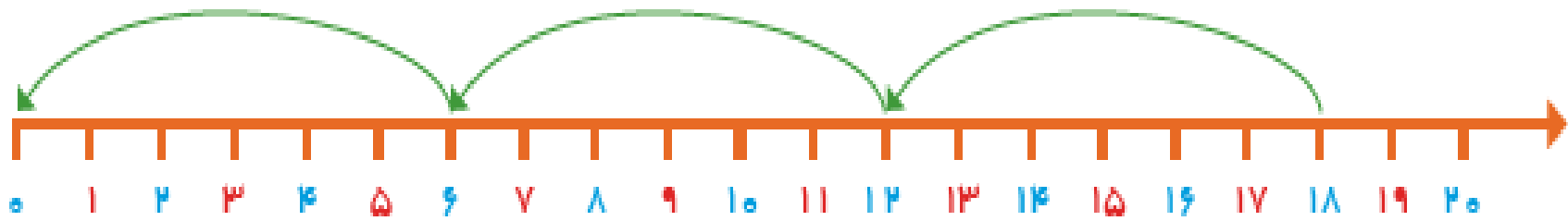


۲۴



# مسئله حل کن

جاهای خالی را با عدد مناسب پر کن.  
مسئله را با رسم شکل حل کن.





-----

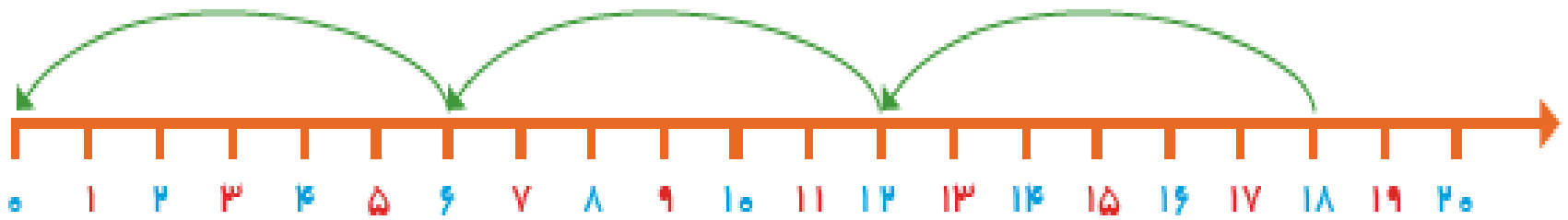
-----

-----

-----

مسئله  
حل کن

جاهای خالی را با عدد مناسب پر کن.   
مسئله را با رسم شکل حل کن. 



    .

    ۶

    ۱۲

    ۱۸