

نام و نام خانوادگی

تاریخ

موضوع:

هدف:

در جدول زیر با مداد نارنجی ۵ تا ۵ تا، با مداد سبز ۶ تا ۶ تا بشمار و رنگ بزن. اعداد خانه هایی را که سبز شده اند، بنویس.

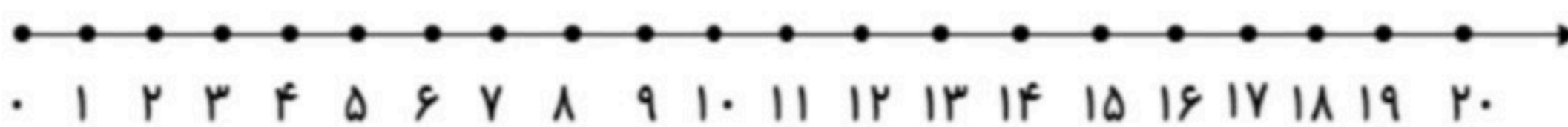


۱	۲	۳	۴	۵	۶	۷	۸	۹	۱۰
۱۱	۱۲	۱۳	۱۴	۱۵	۱۶	۱۷	۱۸	۱۹	۲۰
۲۱	۲۲	۲۳	۲۴	۲۵	۲۶	۲۷	۲۸	۲۹	۳۰
۳۱	۳۲	۳۳	۳۴	۳۵	۳۶	۳۷	۳۸	۳۹	۴۰
۴۱	۴۲	۴۳	۴۴	۴۵	۴۶	۴۷	۴۸	۴۹	۵۰

جواب هر مسئله را با کمک شکل به دست بیاور و سپس روی محور نشان بده.

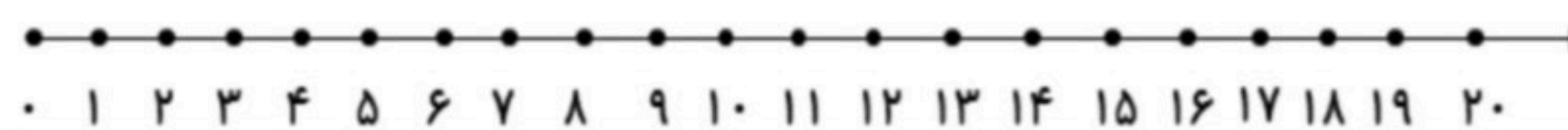
۱۵ فرشته در اتاق بودند. ۵ فرشته دیگر هم آمدند. ۷ تا از فرشته ها به آسمان رفتند.

حالا چند فرشته در اتاق هستند؟-----



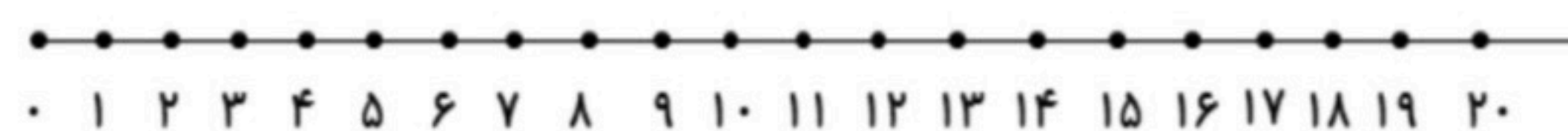
۱۶ شکلات در دکان بود. معصومه ۷ شکلات خرید. آذر هم ۵ شکلات خرید.

چند شکلات در دکان باقی ماند؟-----



۱۷ دوچرخه به مسابقه آمده بود. ۹ دوچرخه پنچرشد. حالا چند دوچرخه می تواند در مسابقه شرکت

کند؟-----



بازخورد:

