






علی یک بسته مداد رنگی ۱۲ تایی داشت. دوستش به او یک بسته

مداد رنگی ۶ تایی هدیه داد.

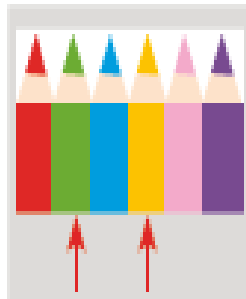
(۱) علی چند مداد رنگی دارد؟




(۲) او مدادهای مشخص شده در شکل روبه‌رو را از هر دو دسته


برداشت، چند مداد برداشته است؟

(۳) چند مداد برایش باقی مانده است؟



زهرا ۱۸ مداد رنگی داشت. ۶ تا را در خانه گذاشت و به مدرسه رفت.
در مدرسه ۶ تا از مدادها را به دوستش داد. حالا چند تا مداد رنگی
برایش باقی مانده است؟

 دانش‌آموزان برای حل مسئله می‌توانند از هر وسیله یا مدلی استفاده کنند که تاکنون آموزش دیده‌اند. در این مسئله راهبرد زیر مسئله مطرح می‌شود. مسئله‌های مرحله‌ای با عددهای ۱، ۲ و ۳ مشخص شده است.

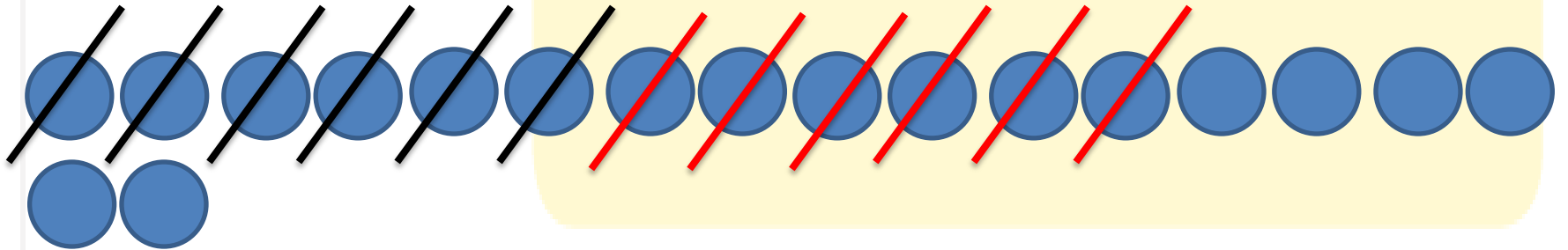
 مسئله‌های مشابه را در زندگی روزمره می‌توانید برای فرزند خود طرح کنید.

زهرا ۱۸ مداد رنگی داشت. ۶ تا را در خانه گذاشت و به مدرسه رفت.

در مدرسه ۶ تا از مدادها را به دوستش داد. حالا چند تا مداد رنگی

$$18 - 6 - 6 = 6$$

برایش باقی مانده است؟ ۶ مداد برایش باقی مانده است



دانش آموزان برای حل مسئله می توانند از هر وسیله یا مدلی استفاده کنند که تاکنون آموزش دیده اند. در این مسئله راهبرد


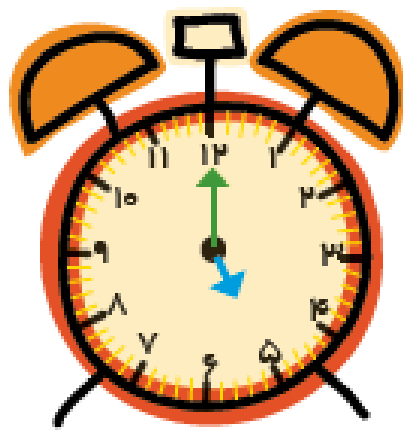
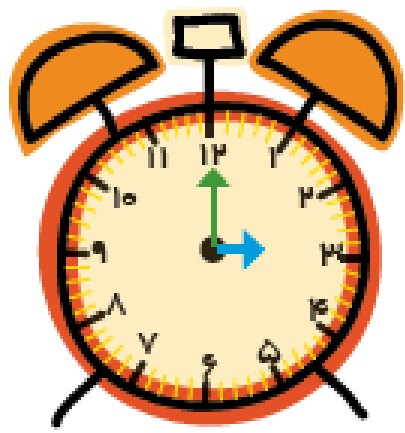
زیر مسئله مطرح می شود. مسئله های مرحله ای با عددهای ۱، ۲ و ۳ مشخص شده است.

مسئله های مشابه را در زندگی روزمره می توانید برای فرزند خود طرح کنید.




اندازه‌گیری
کن



مانند نمونه انجام بده.

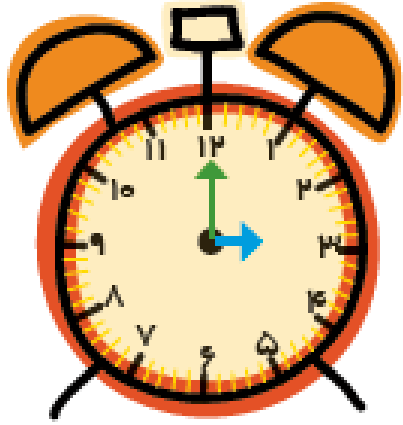


۳




مانند نمونه انجام بده.


اندازه‌گیری
کن




۳




۵




۸



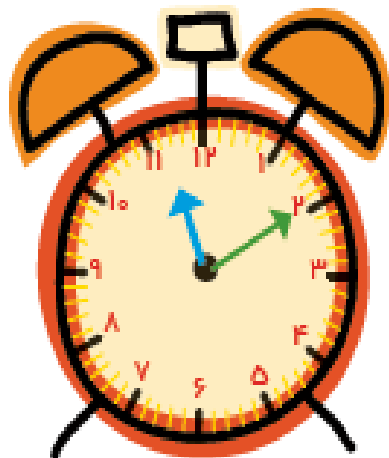
۱۲



۶




۹



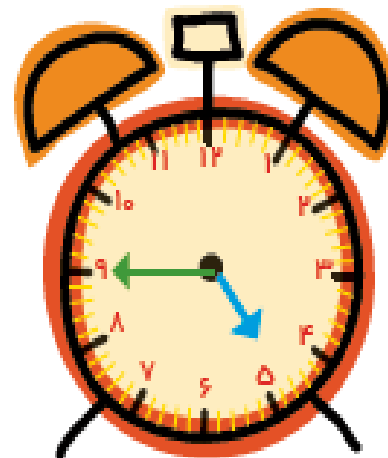
زمان بین

ساعت و
است.



زمان بین

ساعت و
است.




زمان بین

ساعت و
است.


هدف از این صفحه، آموزش خواندن ساعت با دقیقه نیست. پس از اینکه دانش‌آموزان، خواندن ساعت‌های دقیق را تمرین کردند، فعالیت پایین انجام شود تا تشخیص دهند که زمان از یک ساعت مشخص گذشته و به ساعت بعد فرسیده است. اوقات مختلف شبانه روز فرصت مناسبی است که از فرزند خود در مورد ساعت و خواندن آن سؤال کنید.

صدا و سفر

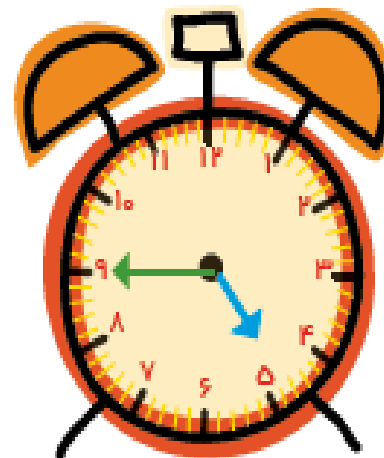
۱۶۴



زمان بین
ساعت ۱۱ و ۱۲
است.



زمان بین
ساعت ۸ و ۹
است.



زمان بین
ساعت ۴ و ۵
است.

هدف از این صفحه، آموزش خواندن ساعت با دقیقه نیست. پس از اینکه دانش‌آموزان، خواندن ساعت‌های دقیق را تمرین کردند، فعالیت پایین انجام شود تا تشخیص دهند که زمان از یک ساعت مشخص گذشته و به ساعت بعد فرسیده است. اوقات مختلف شبانه روز فرصت مناسبی است که از فرزند خود در مورد ساعت و خواندن آن سؤال کنید.

۸۰

۸۱

۸۲

هشتاد

هشتاد و یک

هشتاد و دو

۸۳

۸۴

۸۵

هشتاد و سه

هشتاد و چهار

هشتاد و پنج

۸۶

۸۷

۸۸

هشتاد و شش

هشتاد و هفت

هشتاد و هشت

۸۹

۹۰

۹۱

۹۲

هشتاد و نه

نود

نود و یک

نود و دو

۹۳

۹۴

۹۵

نود و سه

نود و چهار

نود و پنج

۹۶

۹۷

۹۸

۹۹

نود و شش

نود و هفت

نود و هشت

نود و نه