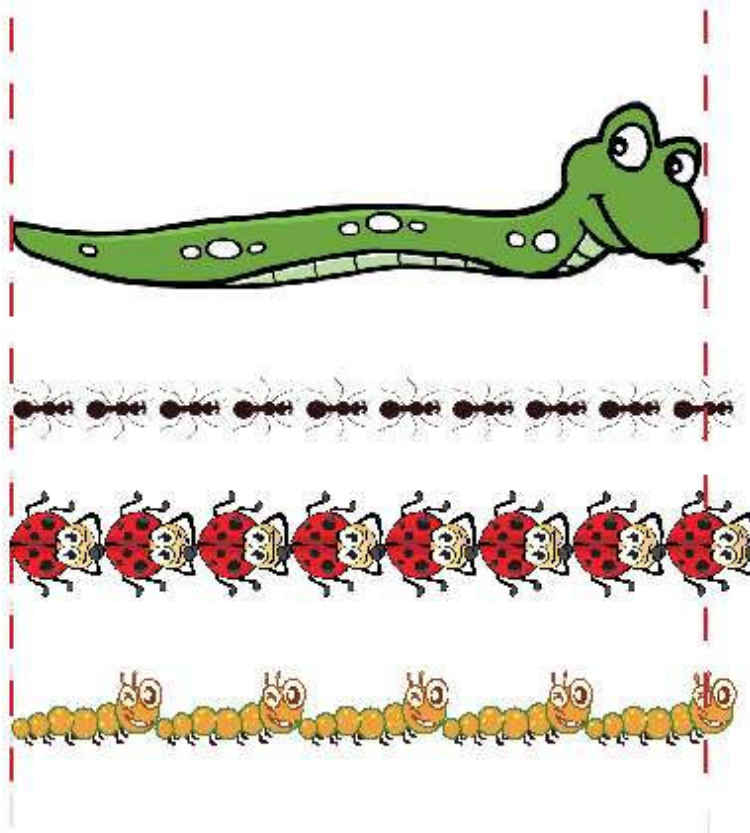


اندازه‌ی مار را با وسایل زیر اندازه بگیر.



اندازه‌ی مار بین ۹ تا ۱۰ مورچه است.

اندازه‌ی مار بین ۷ تا ۸ کفشدوزک است.

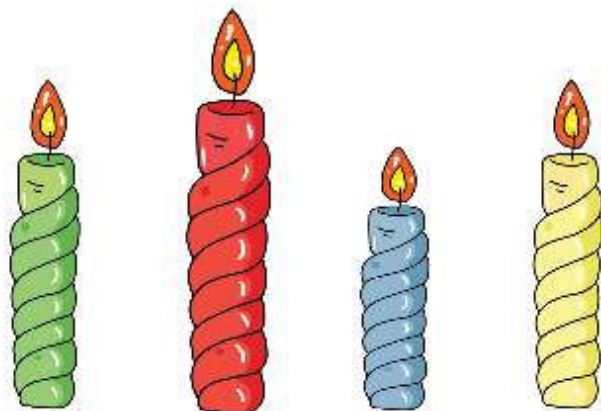
اندازه‌ی مار بین ۴ تا ۵ کرم است.

جمله‌های زیر را با کلمه‌های «هم اندازه»، «بلندترین»، یا «کوتاه‌ترین» کامل کن.

شمع آبی **کوتاه‌ترین** است.

شمع زرد با شمع سبز **هم اندازه** است.

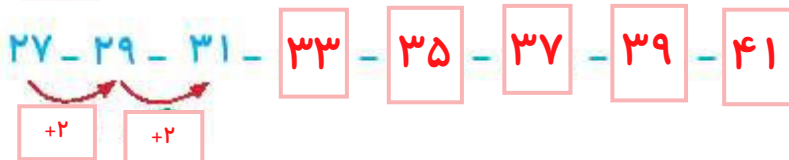
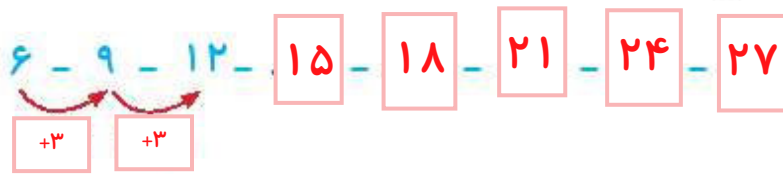
شمع قرمز **بلندترین** است.



- دانش آموز بتواند اشکال را به صورت تقریبی اندازه‌گیری کند.
- دانش آموز بتواند اندازه‌ی اشیاء را با هم مقایسه و توصیف کند.



۱۱ الگوهای زیر را ادامه بده و نشان بده که هر کدام چند تا چند زیاد شده است.



۱۲ زمانی را که هر ساعت نشان می‌دهد بنویس.



ساعت ۱۱ است.



ساعت ۲ است.



ساعت ۶ است.



زمان بین ۳ و ۴ است.



زمان بین ۱۲ و ۱ است.



زمان بین ۸ و ۹ است.



- دانش‌آموز بتواند رابطه‌ی بین الگوهای عددی را کشف و آن‌ها را ادامه دهد.
- دانش‌آموز بتواند ساعت کامل و بین دو زمان را بخواند.



علی و معصومه برای عبادت و نگهداری مادر بزرگ خود به دیدن او می‌رفتند. علی هر ۳ روز یک بار و معصومه هر ۵ روز یک بار برای این کار می‌رفتند. با توجه به تقویم زیر روزهایی که علی می‌رفت را آبی و روزهایی که معصومه می‌رفت را زرد کن آن‌ها در چه روزهایی با هم به دیدن مادر بزرگ می‌رفتند. آن عددها را از جدول خارج کن و در زیر جدول به حروف بنویس.

شنبه	یکشنبه	دوشنبه	سه‌شنبه	چهارشنبه	پنج‌شنبه	جمعه
۱	۲	۳	۴	۵	۶	۷
۸	۹	۱۰	۱۱	۱۲	۱۳	۱۴
۱۵	۱۶	۱۷	۱۸	۱۹	۲۰	۲۱
۲۲	۲۳	۲۴	۲۵	۲۶	۲۷	۲۸
۲۹	۳۰					

