

علوی

۲ جمع و تفریق‌های زیر را انجام بده.

$10 + 5 + 5 + 5 + 5 -$

$10 + 20 + 5 + 5 -$

$10 + 20 + 5 - 5 -$

$20 + 10 + 5 + 10 + 5 + 5 -$

$10 + 20 + 10 + 5 + 4 -$

$10 - 10 + 7 + 20 -$

$20 + 10 + 5 + 5 + 10 -$

$5 + 5 + 5 + 5 + 9 -$

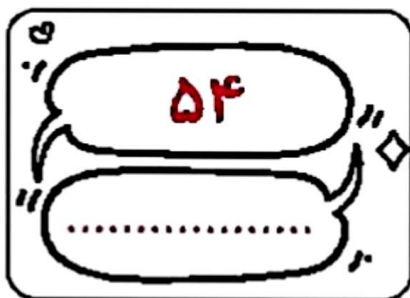

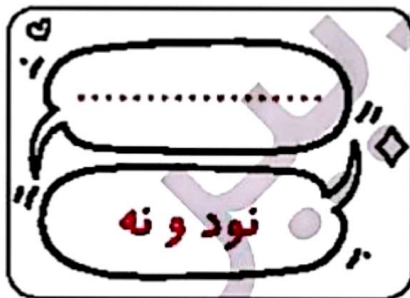
$10 + 5 + 5 + 20 + 10 - 10 -$

$10 + 20 + 10 + 5 + 2 -$

$20 + 20 + 10 + 6 + 10 -$

$10 - 10 + 30 + 5 + 1 -$

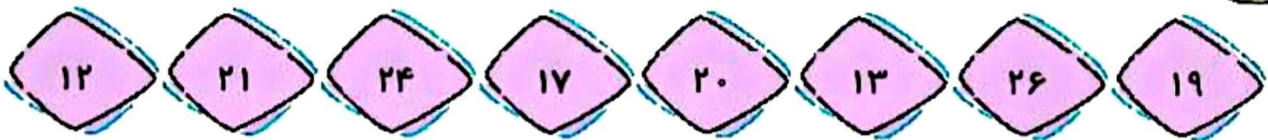
۳ جاهای خالی را کامل کن.



- دانش آموز بتواند جمع‌ها و تفریق‌ها را به صورت ذهنی انجام دهد.
- دانش آموز بتواند اعداد را به صورت نماد عددی و به حروف بنویسد.



۴ عددهای زیر را از کمترین به بیشترین به ترتیب بنویس.



۵ جواب جمع و تفریق‌ها را بنویس؛ سپس جواب‌ها را مقایسه کن و علامت مناسب را انتخاب کن.

$50 + 30 =$ $<=>$ $80 - 10 =$

$35 - 5 =$ $<=>$ $20 + 5 =$

$10 + 10 + 5 + 3 =$ $<=>$ $20 + 10 + 7 =$

$20 + 10 - 10 =$ $<=>$ $10 + 5 + 5 =$

$3 + 30 + 10 =$ $<=>$ $20 + 2 + 20 =$

۶ عددهای مثل هم را با خط کش به هم وصل کن.

8

۲

8

2

۸

2

5

۵

5



- دانش‌آموز بتواند اعداد را به ترتیب از کمترین به بیشترین مرتب کند.
- دانش‌آموز بتواند جمع و تفریق‌ها را به صورت ذهنی انجام دهد.
- دانش‌آموز بتواند اعداد را به صورت‌های مختلف بخواند.

