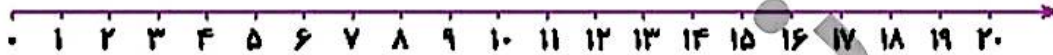


۴ مسئله‌ها را به کمک محور حل کن.



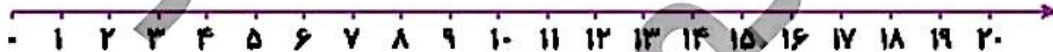
الف) کتاب تریا ۱۸ صفحه دارد. او دیروز ۴ صفحه و امروز ۵ صفحه‌ی دیگر خواند. او چند صفحه از کتابش را نخوانده است؟



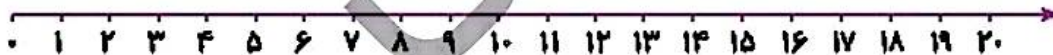
ب) در یک لانه ۱۷ پرنده بودند. ۱۲ تا از پرندوها پرواز کردند و رفتند. ۸ پرنده‌ی دیگر به لانه برگشتند. حالا چند پرنده در لانه است؟



پ) یک اتوبوس با ۱۴ مسافر از میدان آزادی حرکت کرد. در ایستگاه اول ۷ نفر پیاده شدند. در ایستگاه دوم ۵ نفر سوار شدند. حالا اتوبوس چند مسافر دارد؟



ت) ژاله در مدرسه ۳ کارت امتیاز، ۵ امتیازی از آموزگارش گرفته بود. او دیروز یک جامدادی از کمد جایزه برداشت و ۱۲ امتیاز را به ناظم داد. حالا برای ژاله چند امتیاز باقی مانده است؟



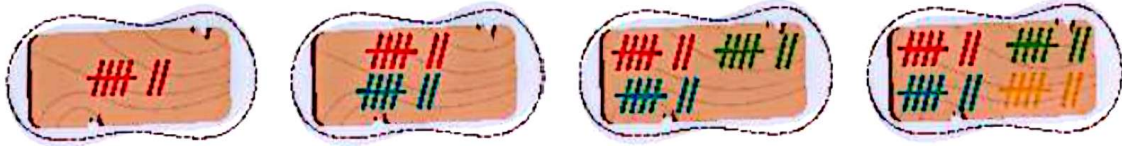
□ دانش‌موز بتواند یاد کرد و فهم مسئله آن را با استفاده از محور حل کند.

ریاضی اول دبستان



# علوی

۵ عدد هر دسته را بنویس.



۶ آیا می‌دانی یک هفته چند روز است؟ تقویم زیر را کامل کن و تاریخ روزهای جمعه را رنگ بزن.

شنبه	یکشنبه	دوشنبه	سه‌شنبه	چهارشنبه	پنجشنبه	جمعه
۱	۲	۳	۴	۵	۶	۷
۸						
۲۲						
۳۰						

۷ جاهای خالی را با اعداد و حروف مناسب کامل کن.

یکی	ده‌تایی
۰	۲
عدد: .....	حروف: .....

یکی	ده‌تایی
.....	.....
عدد: ۴۳	حروف: .....

یکی	ده‌تایی
.....	.....
عدد: .....	حروف: پنجاه و هشت

یکی	ده‌تایی
۷	۹
عدد: .....	حروف: .....

یکی	ده‌تایی
.....	.....
عدد: ۶۲	حروف: .....

یکی	ده‌تایی
.....	.....
عدد: .....	حروف: هفتاد و یک

- دانش آموز بتواند الگوی عددی را درک کند.
- دانش آموز بتواند اعداد را در جدول ارزش مکانی وارد و خارج کند.



۸ الگوهای زیر را ادامه بده.

۳۷ - ۳۸ - ۳۹ - .....

۵۵ - ۶۰ - ۶۵ - .....

۷۲ - ۷۴ - ۷۶ - .....

۱۰ - ۲۰ - ۳۰ - .....

۲۴ - ۳۴ - ۴۴ - .....

۴۲ - ۴۷ - ۵۲ - .....

..... - ۲۴ - ۲۵ - ۲۶

..... - ۷۰ - ۸۰ - ۹۰

..... - ۶۵ - ۷۰ - ۷۵

۹ تفریق‌های زیر را ذهنی حساب کن.

$۴۰ - ۱۰ =$

$۳۰ - ۳۰ =$

$۷۸ - ۸ =$

$۹۰ - ۷۰ =$

$۷۰ - ۳۰ =$

$۹۵ - ۵ =$

$۵۰ - ۴۰ =$

$۸۰ - ۲۰ =$

$۵۶ - ۶ =$



□ دانش‌آموز بتواند رابطه‌ی بین الگوهای عددی را کشف و آن‌ها را ادامه دهد.

□ دانش‌آموز بتواند تفریق‌های مغرب ۱۰ را به صورت ذهنی انجام دهد.

ریاضی اول دبستان



موضوع	شماره سوال	هفته آموزشی
هوش ریاضی - جمع‌های چندتایی با استفاده از رسم شکل	۱	هفدهم
هوش کلامی	۲	
سرعت، دقت، تمرکز	۳	
هوش فضایی	۴	

۱. با کشیدن شکل، جواب جمع‌های داخل قوری را به فنجان مربوطه وصل کن.

Teapot 1:  $3 + 4 + 5 = 12$   
 Teapot 2:  $6 + 3 + 4 = 13$   
 Teapot 3:  $5 + 4 + 7 = 16$   
 Teapot 4:  $6 + 0 + 8 = 14$

Teacup 1: ۱۴  
 Teacup 2: ۱۲  
 Teacup 3: ۱۳  
 Teacup 4: ۱۶

۲. رابطه‌ی «سامان» با «بابا» مثل رابطه‌ی «مادر بزرگ» با ..... است.

۴) پذیر بزرگ

۳) خله

۲) دایی

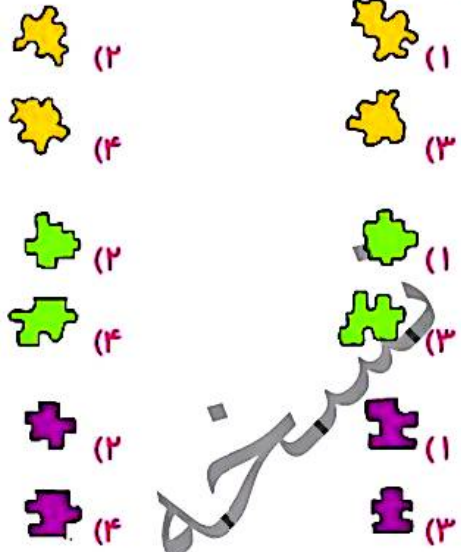



۱) برادر

چهار هوش اول دبستان



# علوی

۳. تکه‌ی جدا شده از هر شکل را پیدا کن و دور آن خط بکش.



۴. به جای ؟ کدام شکل را می‌توان قرار داد؟

