

جاهای خالی را با عدد مناسب پر کن.
 عددهایی را که به حروف نوشته شده است، به عدد بنویس.

بنویس
 بشمار و



$$۵ + ۵ + ۵ + ۵ = \underline{\quad}$$

$$۵ + ۵ + ۵ + ۴ = \underline{\quad}$$

$$۲۰ + ۱۰ + ۵ - ۵ = \underline{\quad}$$

$$۱۰ + ۱۰ + ۵ + ۵ + ۵ = \underline{\quad}$$

$$۲۰ + ۱۰ + ۵ + ۳ = \underline{\quad}$$

$$۵ + ۵ + ۲ = \underline{\quad}$$

$$۲۰ + ۵ + ۱۰ - ۱۰ = \underline{\quad}$$

$$۱۰ + ۵ + ۳ = \underline{\quad}$$

$$۲۰ + ۲۰ + ۱۰ + ۵ = \underline{\quad}$$

$$۱۰ + ۲۰ + ۵ + ۴ = \underline{\quad}$$



..... چهارده

..... شانزده

..... سیزده

..... چهل و سه

..... نوزده

..... یازده

..... پنجاه و هفت

..... سی و یک

..... هفده

..... هجده

..... پانزده

..... دوازده

هدف این صفحه، تمرین جمع و تفریق‌های ضرب‌های ۱۰ و یک عدد یک رقمی است. همچنین نوشتن عددهای دورقمی به حروف از اینجا شروع می‌شود. فرزند شما برای جمع و تفریق می‌تواند با روشی که در این کتاب یاد گرفته است از انگشتان دست خود استفاده کند تا به مهارت دست یابد. توجه او را به عددهای پایین صفحه جلب کنید که به حروف نوشته شده است.

صد و پنجاه و هشت

۱۵۸



با ابزار کار کن

دستورالعمل‌های زیر را دنبال کن تا شکل، رسم شود. جواب جمع و تفریق را بنویس؛ مقایسه کن و علامت مناسب را انتخاب کن.



(۱) از کمترین عدد شروع کن.

(۲) عددها را با خط کش به ترتیب به هم وصل کن.

(۳) دوباره به عدد ۱۹ برگرد.

۱۹ •

• ۲۲



• ۲۰

۲۱ •



• ۲۳



$۲۰ + ۳۰ = \dots$ < = > $۶۰ - ۱۰ = \dots$

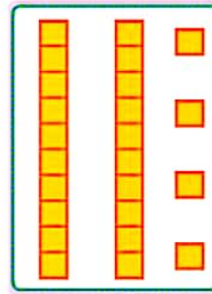

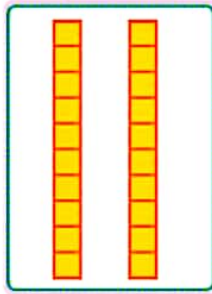

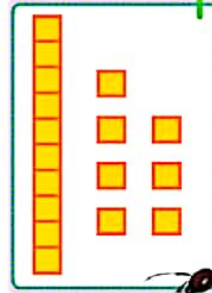
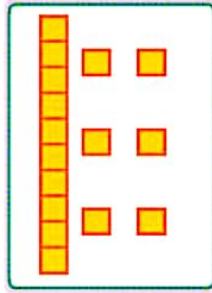
$۱۰ + ۸ = \dots$ < = > $۱۰ + ۷ = \dots$

$۲۵ - ۵ = \dots$ < = > $۱۵ + ۱۰ = \dots$



به کمک شکل، مقایسه کن و علامت مناسب (>=<) بگذار.
 عددهای مثل هم را با خط کش به هم وصل کن.

با ابزار
کار کن



- ۱
- ۲
- ۳
- ۴
- ۵
- ۶
- ۷
- ۸
- ۹
- ۰

- ۱
- ۰
- ۹
- ۴
- ۸
- ۶
- ۲
- ۵
- ۳
- ۷

- ۲
- ۳
- ۶
- ۰
- ۹
- ۴
- ۷
- ۵
- ۱
- ۸



هدف این صفحه آشنایی دانش آموز با ماشین حساب و عددهای انگلیسی روی صفحه‌ی کلید و صفحه‌ی نمایش است.
 عددهای مختلف یک رقمی را روی ماشین حساب به فرزند خود نشان دهید تا با این نمادها آشنا شود.

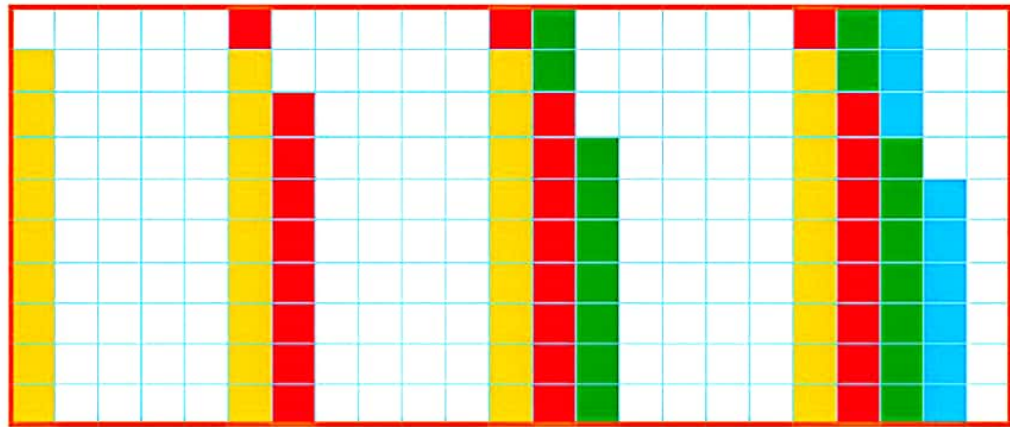


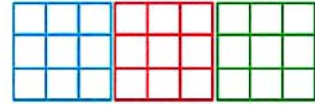
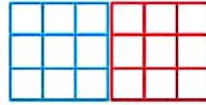



صد و شصت
۱۶۰



بشمار و بنویس

جاهای خالی را پر کن.
مسئله‌ها را با هر روشی که می‌خواهی حل کن.



حمید ۱۸ کتاب داستان دارد. امروز پدرش ۹ کتاب داستان دیگر

به او داد. حالا حمید چند کتاب دارد؟

..... کتاب دارد.

مریم ۹ کتاب داستان و ۲۷ کتاب علمی دارد. او روی هم چند کتاب دارد؟

..... کتاب دارد.



دانش‌آموزان بدون رسم شکل یا استفاده از چیزها و به کمک ماشین حساب می‌توانند عدد بعدی الگوها را بنویسند؛ لذا کار با ماشین حساب را آموزش دهید. در صورتی که ماشین حساب در اختیار دارید، می‌توانید برای پیدا کردن عدد بعدی از ماشین حساب استفاده کنید.