


ت۲۲



### آموختنی‌ها

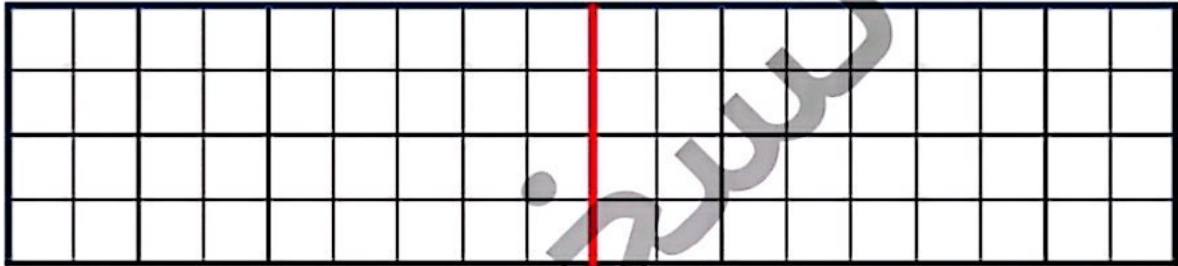
- ۱ طول و عرض حوض هر کدام با چند کاشی پوشیده شده است؟ (۲۲ تا ۲۴ بشمار)
- ۲ در سمت راست و چپ، چند پرنده در آسمان می‌بینی؟
- ۳ برای کدام قسمت‌ها می‌توانی با خط‌کش، خط تقارن رسم کنی؟
- ۴ برای تعداد خانم‌ها و آقایان یک عبارت جمع بنویس.
- ۵ تعداد کفش‌های افراد تصویر را دوتا دوتا بشمار.

# علوی

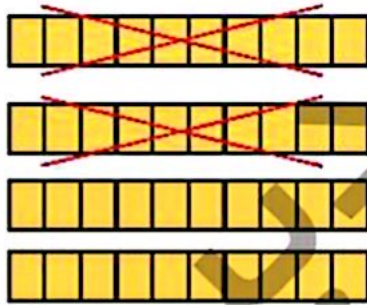
۱ الگوی زیر را ادامه بده.



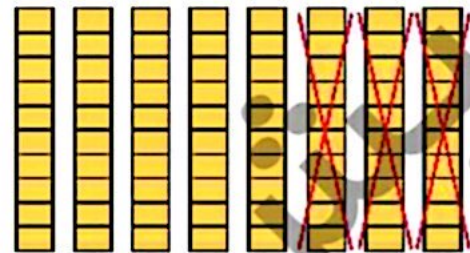
۲ در سمت راست ۶ خانه را به دلخواه رنگ بزن؛ سپس نیمه‌ی دیگر را با توجه به خط تقارن کامل کن.



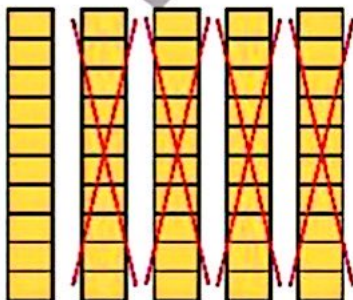
۳ برای هر شکل یک عبارت تفریق بنویس.



..... - ..... = .....



..... - ..... = .....



..... - ..... = .....



..... - ..... = .....

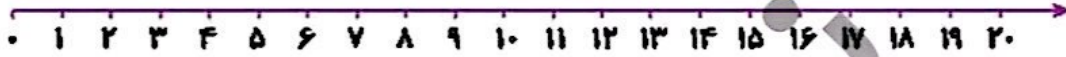
- دانش آموز نتواند الگوی عددی را ادامه دهد.
- دانش آموز نتواند یک شکل شطرنجی رسم و قرینه‌ی آن را کامل کند.
- دانش آموز نتواند تفریق‌های ضرب ۱۰ را با کمک شکل انجام دهد.



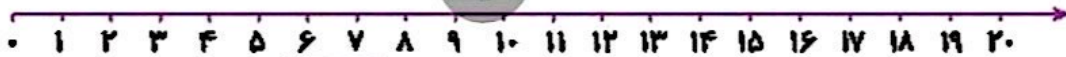
۴ مسئله‌ها را به کمک محور حل کن.



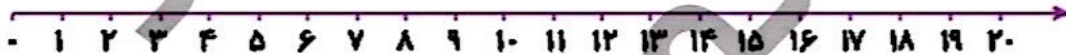
الف) کتاب ثریا ۱۸ صفحه دارد. او دیروز ۴ صفحه و امروز ۵ صفحه‌ی دیگر خواند. او چند صفحه از کتابش را نخوانده است؟



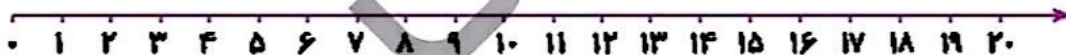
ب) در یک لانه ۱۷ پرنده بودند. ۱۳ تا از پرندها پرواز کردند و رفتند. ۸ پرنده‌ی دیگر به لانه برگشتند. حالا چند پرنده در لانه است؟



پ) یک اتوبوس با ۱۴ مسافر از میدان آزادی حرکت کرد. در ایستگاه اول ۷ نفر پیاده شدند. در ایستگاه دوم ۵ نفر سوار شدند. حالا اتوبوس چند مسافر دارد؟



ت) ژاله در مدرسه ۲ کارت امتیاز، ۵ امتیازی از آموزگارش گرفته بود. او دیروز یک جامدادی از کمد جایزه برداشت و ۱۲ امتیاز را به ناظم داد. حالا برای ژاله چند امتیاز باقی مانده است؟

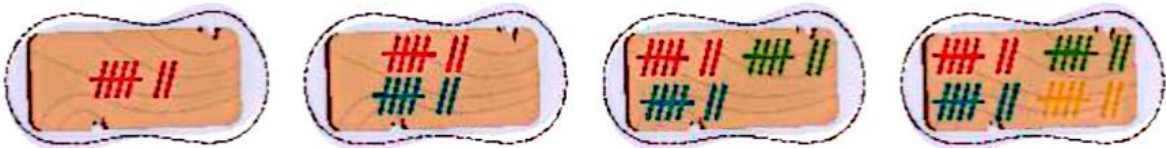


□ دانش آموز بتواند با درک و فهم مسئله آن را با استفاده از محور حل کند

ریاضی اول دبستان



۵ عدد هر دسته را بنویس.



۶ آیا می‌دانی یک هفته چند روز است؟ تقویم زیر را کامل کن و تاریخ روزهای جمعه را رنگ بزن.

شنبه	یکشنبه	دوشنبه	سه‌شنبه	چهارشنبه	پنجشنبه	جمعه
۱	۲	۳	۴	۵	۶	۷
۸						
۲۲						
۳۰						

۷ جاهای خالی را با اعداد و حروف مناسب کامل کن.

یکی	ده‌تایی
۰	۲

عدد: .....

حروف: .....

یکی	ده‌تایی
.....	.....

عدد: ۴۳

حروف: .....

یکی	ده‌تایی
.....	.....

عدد: .....

حروف: پنجاه و هشت

یکی	ده‌تایی
۷	۹

عدد: .....

حروف: .....

یکی	ده‌تایی
.....	.....

عدد: ۶۲

حروف: .....

یکی	ده‌تایی
.....	.....

عدد: .....

حروف: هفتاد و یک

- دانش آموز بتواند انگوی عددی را درک کند
- دانش آموز بتواند اعداد را در جدول ارزش مکانی وارد و خارج کند



۸ الگوهای زیر را ادامه بده.

۳۷ - ۳۸ - ۳۹ - .....

۵۵ - ۶۰ - ۶۵ - .....

۷۲ - ۷۴ - ۷۶ - .....

۱۰ - ۲۰ - ۳۰ - .....

۲۴ - ۳۴ - ۴۴ - .....

۴۲ - ۴۷ - ۵۲ - .....

..... - ۲۴ - ۲۵ - ۲۶

..... - ۷۰ - ۸۰ - ۹۰

..... - ۶۵ - ۷۰ - ۷۵

۹ تفریق‌های زیر را ذهنی حساب کن.

۴۰ - ۱۰ =

۳۰ - ۳۰ =

۷۸ - ۸ =

۹۰ - ۷۰ =

۷۰ - ۳۰ =

۹۵ - ۵ =

۵۰ - ۴۰ =

۸۰ - ۲۰ =

۵۶ - ۶ =



دانش‌آموز بتواند رابطه‌ی بین الگوهای عددی را کشف و آن‌ها را ادامه دهد.  
 دانش‌آموز بتواند تفریق‌های ضرب ۱۰ را به صورت ذهنی انجام دهد.

ریاضی اول دبستان




۱۰ با توجه به توضیحات داده شده، عددها را در جدول مشخص کن.

الف) از عدد صفر تا ۵۵ را ۵ تا ۵ تا بشمار و بنویس. سپس اعدادی که نوشته‌ای را در شطرنجی زیر پیدا کن و خانه‌ی آن را زرد کن.

ب) از عدد صفر تا ۶۰ را ۱۰ تا ۱۰ تا بشمار و بنویس. سپس اعدادی که نوشته‌ای را در شطرنجی زیر پیدا کن و دور هر کدام از آن‌ها دایره بکش.

پ) عددهایی که دورشان دایره کشیده‌ای را با خط‌کش به گل وسط صفحه‌ی شطرنجی وصل کن.

							۰	۱	۲	۳				
		۵۳	۵۴				۶۰			۴				
		۵۲		۵۵	۵۶	۵۷	۵۸	۵۹		۵	۶	۷	۸	
		۵۱												۹
		۵۰	۴۹									۱۰		
			۴۸								۱۱			
	۴۵	۴۶	۴۷							۱۲	۱۳	۱۴	۱۵	
	۴۴											۱۶	۱۷	
	۴۳	۴۲	۴۱								۱۸	۱۹		
		۴۰										۲۰		
	۳۹				۳۴	۳۳	۳۲			۲۴	۲۳	۲۲	۲۱	
	۳۸	۳۷	۳۶	۳۵			۳۱			۲۵				
							۳۰			۲۶				
							۲۹	۲۸	۲۷					

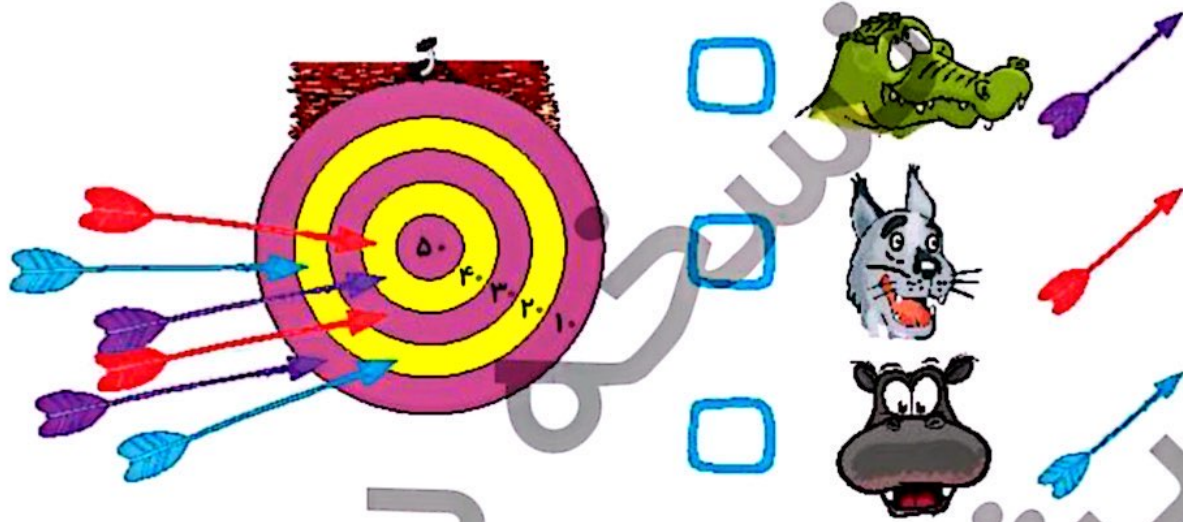
☐ دانش آموز بتواند علاوه بر استفاده از خط‌کش، چندتا چندتا بشمار و دستورالعمل‌ها را نیز دنبال کن.



## سزگرمی



در یک جنگل شیر یک مسابقه ی دارت بر گزار کرد تا قهرمان جنگل مشخص شود. تمساح با تیرهای بنفش، گرگ با تیرهای قرمز و اسب آبی با تیرهای آبی شرکت کردند. با توجه به دارت و جمع تیرهای پرتاب شده تصاویر تمساح و گرگ و اسب آبی را از صفحه ببر. به ترتیب امتیازها آنها را روی سکوی برندگان در جای مناسب بچسبان.



ریاضی اول دبستان

