




+ Tags

Book Hoo...mpressed



موضوع	شماره سوال	هفته آموزشی
انجام عمل جمع - با سرعت، دقت، تمرکز	۱	هفدهم
هوش ریاضی - درک نماد ستونی اعداد و تبدیل نمایش ستونی به عددی و بالعکس آن	۲	
هوش کلاسی	۳	
هوش فضای با کمک جسم فضای	۴	

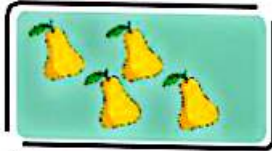
۱. عدد مربوط به هر شکل را بنویس و حاصل جمع را حساب کن.




+




: + =




+



: + =

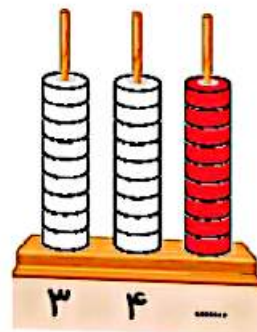
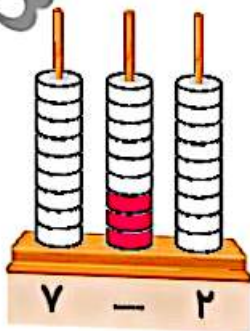
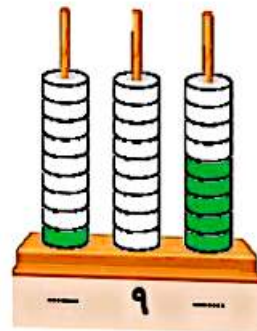


+



: + =

۲. به تعداد عددهای نوشته شده، از دایره‌ها رنگ بزن و عدد ستون رنگ شده را بنویس.





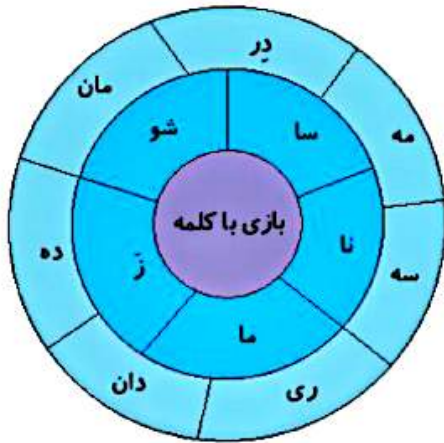
+ Tags

Book Hoo...mpressed

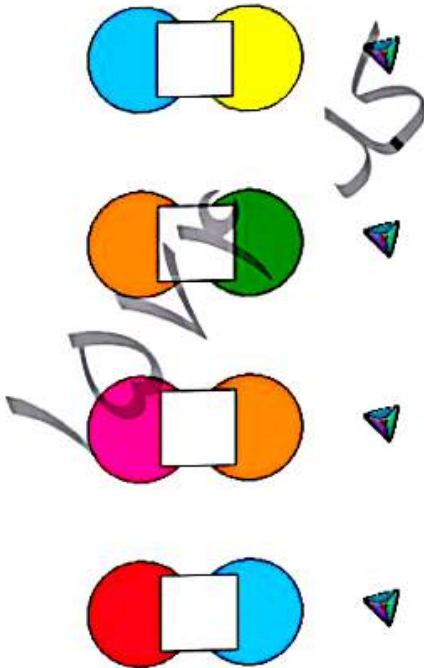


علوی

۳. به گردونه‌ی کلمه‌سازی دقت کن. چند کلمه می‌توانی بسازی؟



۴. قسمت پنهان شده‌ی هر شکل را پیدا و به آن وصل کن.





+ Tags

Book Hoo...mpressed



موضوع	شماره سؤال	هفته آموزشی
هوش ریاضی - انجام عمل تفریق	۱	چهاردهم
هوش فضایی	۲	
هوش کلاسی	۳	
سرمت، دقت، تمرکز یا تک تک جسم فضایی	۴	



۱. برای هر شکل عبارت تفریق بنویس و جواب آن را به دست بیاور.



۲. اگر شکل‌های هر ردیف را با هم جمع و ترکیب کنی، چه شکلی درست می‌شود؟




32



چهار هوش اول دبستان

علوی

۳. نام هر تصویر را زیر آن بنویس. کدام تصویر بیشترین تعداد نقطه در کلمه را دارد؟



بیشتر

Word به Word

Share

Edit PDF

Add



+ Tags

Book Hoo...mpressed




چهل هوش اول دبستان



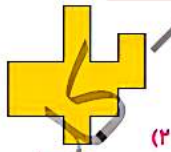



علوی

۳. نام هر تصویر را زیر آن بنویس. کدام تصویر بیشترین تعداد نقطه در کلمه را دارد؟



۴. در جای خالی کدام قطعه‌ی پازل را قرار می‌دهی؟ دور آن خط بکش.



۱۵۱۳۱



⋮
بیشتر

Word
به Word

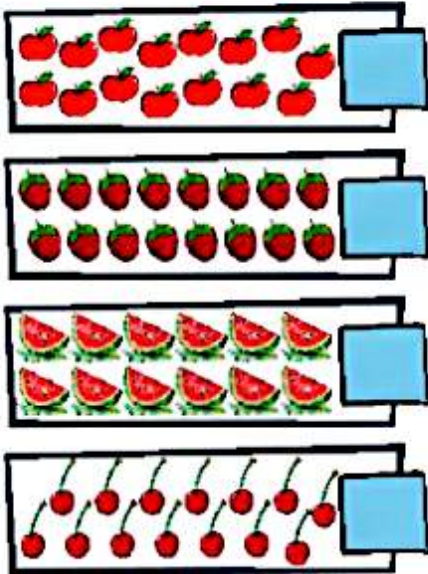
Share

PDF
Edit PDF

Add

موضوع	شماره سوال	هفته آموزشی
هوش ریاضی - دسته بندی و سرشماری، ساختن عددهای دو رقمی	۱	پانزدهم
هوش فضایی - اندازه گیری با چینه	۲	
هوش کلاسی	۳	
سرعت، دقت، تمرکز	۴	
سرعت، دقت، تمرکز - هوش ریاضی - جمع دو عدد	۵	

۱. در هر ردیف، دسته‌های ۱۰ تایی درست کن و در جاهای خالی عدد مناسب بنویس.



یکی	ده تایی
یکی	ده تایی
یکی	ده تایی
یکی	ده تایی


دسته‌ی ده تایی و یکی

دسته‌ی ده تایی و یکی

دسته‌ی ده تایی و یکی

دسته‌ی ده تایی و یکی


۲. اندازه‌ی بلندی هر شکل چند چینه است؟ مانند نمونه مشخص کن.



چهار هوش اول دبستان



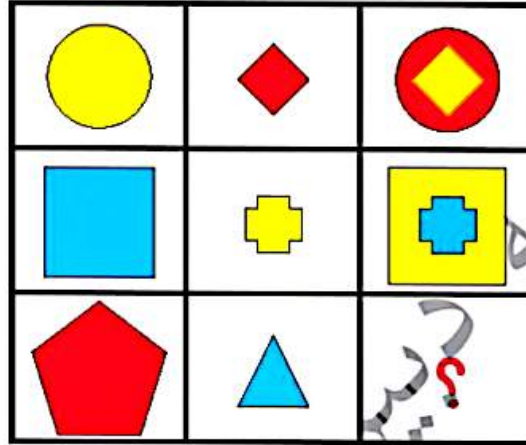


علوی

۳. صدای آخر کدام یک از کلمه‌های دو بخشی زیر، مانند صدای اول  است؟ دور آن‌ها خط بکش.

زرنگی رنگارنگی سنگی بژری رنگی گریه

۴. به جای ؟ کدام شکل را قرار می‌دهی؟



۵. کدام دو عدد کنار هم را با هم جمع کنیم تا جواب آن‌ها عدد ۱۰ شود؟

۱	۸	۸	۸	۲	۳	۶	۸	۷	۳
۴	۳	۵	۵	۶	۹	۱	۸	۲	۲
۶	۶	۳	۷	۸	۲	۸	۳	۶	۸
۳	۶	۴					۶	۸	۴
۳	۸	۷					۸	۱	۹
۷	۲	۵					۲	۶	۹
۷	۷	۴					۵	۹	۶
۵	۳	۲	۶	۹	۸	۲	۵	۱	۴
۵	۷	۷	۳	۲	۶	۹	۹	۲	۹
۱	۹	۵	۵	۹	۴	۱	۸	۷	۱



بیشتر

Word به Word

Share

Edit PDF

Add



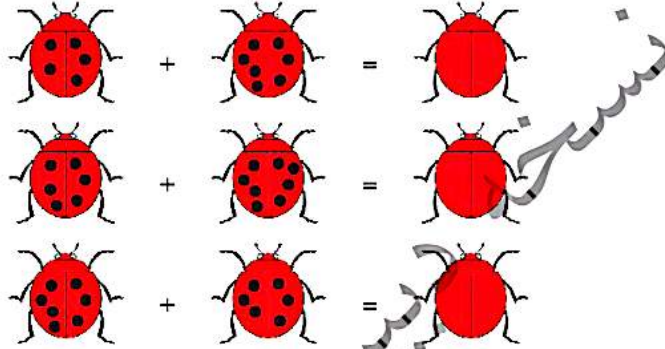
+ Tags

Book Hoo...mpressed

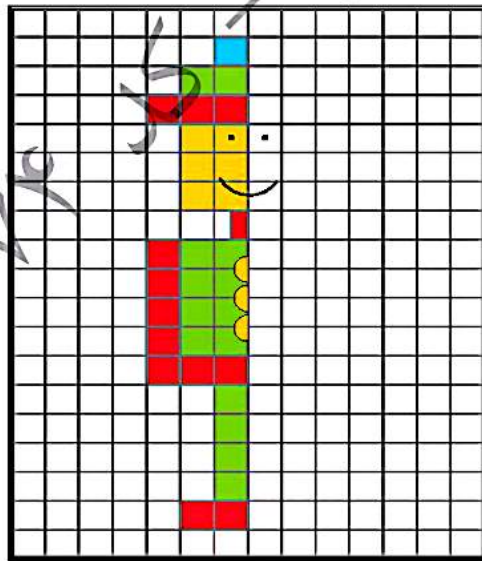


موضوع	شماره سوال	هفته آموزشی
هوش ریاضی - مفهوم جمع یا حاصل کمتر از ۱۵	۱	شانزدهم
هوش فضایی	۲	
هوش کلامی	۳	
سرعت، دقت، تمرکز	۴	

۱. با کمک انگشتان جواب جمع را پیدا کن. سپس به همان تعداد برای کفشدوزک خال بکش.



۲. نیمه‌ی راست شکل را کامل کن.



چهار هوش اول دبستان



علوی

۳. به کمک کارت نشانه‌ها، کلمه بساز. می‌توانی از هر کارت چند بار استفاده کنی.

⋮
بیشتر

Word
به Word

Share

PDF
Edit PDF

Add



+ Tags

Book Hoo...mpressed



علوی

۳. به کمک کارت نشانه‌ها، کلمه بساز. می‌توانی از هر کارت چند بار استفاده کنی.

ز	ت ت	ن ن	خ خ	و و	آ آ	س س
---	-----	-----	-----	-----	-----	-----

.....: ○ ○ ○

.....: ○ ○ ○

.....: ○ ○ ○ ○

.....: ○ ○ ○ ○

.....: ○ ○ ○ ○ ○

.....: ○ ○ ○ ○ ○

۴. به جای ؟ کدام گزینه را قرار می‌دهی؟

(۴)	(۳)	(۲)	(۱)



⋮
بیشتر

Word
به Word

Share

PDF
Edit PDF

Add



+ Tags

Book Hoo...mpressed



موضوع	شماره سوال	هفته آموزشی
هوش ریاضی - جمع‌های چندتایی با استفاده از رسم شکل	۱	هفدهم
هوش کلامی	۲	
سرعت، دقت، تمرکز	۳	
هوش فضایی	۴	

۱. با کشیدن شکل، جواب جمع‌های داخل قوری را به فنجان مربوطه وصل کن.

سریه دیزر - کلد

$3 + 4 + 5$	14
$6 + 3 + 4$	12
$5 + 4 + 7$	13
$6 + 0 + 8$	16

۲. رابطه‌ی دامان، با دایره‌ها، مثل رابطه‌ی مادر بزرگ، با است.

- (۱) برادر
- (۲) دایی
- (۳) خاله
- (۴) پذیرایی

چهار هوش اول دبستان



علوی

بیشتر

Word به

Share

Edit PDF

Add





+ Tags


Book Hoo...mpressed



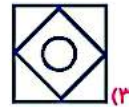
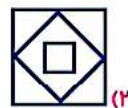

علوی



۳. تکه‌ی جدا شده از هر شکل را پیدا کن و دور آن خط بکش.



۴. به جای ؟ کدام شکل را می‌توان قرار داد؟





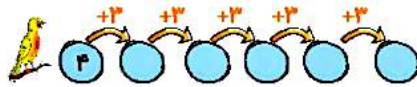
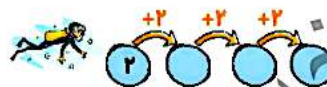
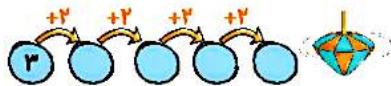
+ Tags

Book Hoo...mpressed

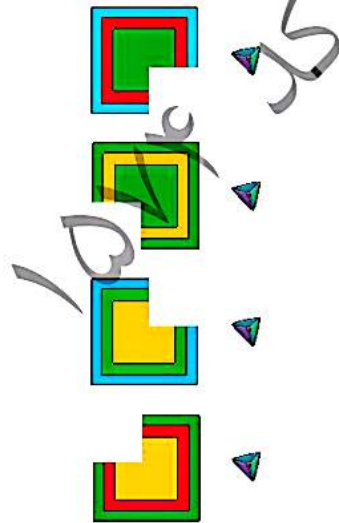


موضوع	شماره سوال	هفته آموزشی
هوش ریاضی - الگوهای عددی	۱	هفدهم
هوش فضایی	۲	
هوش کلامی	۳	
سرعت، دقت، تمرکز	۴	

۱. جاهای خالی را با عدد مناسب پر کن.



۲. گوشه‌های جدا شده از هر شکل را پیدا و به آن وصل کن.



40

چهار هوش اول دبستان



علوی

بیشتر

Word به Word

Share

Edit PDF

Add





+ Tags

Book Hoo...mpressed

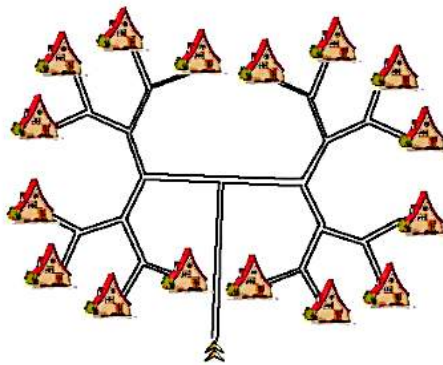


علوی

۳. اسم تصویرهای زیر را بنویس، کدام یک از آن‌ها بیش‌ترین نقطه را دارد؟ دور آن خط بکش.



۴. دو مسیر قرمز و آبی را از بین راه‌ها پیدا کن و رنگ بزن.





+ Tags

Book Hoo...mpressed



موضوع	شماره سوال	هفته آموزشی
هوش ریاضی - حل مسئله	۱	نوزدهم
هوش فضایی	۲	
هوش کلامی	۳	
سرعت، دقت، تمرکز	۴	

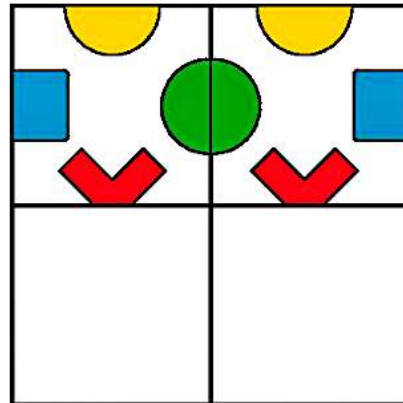


۱. پرسش‌های زیر را حل کن.
 ♦ سیما ۱۰ گل سر دلزد، مادرش ۶ گل سر دیگر برایش خرید. حالا سیما چند گل سر دلزد؟

♦ ۸ پرنده در لانه بودند. ۵ تا از پرنده‌ها پرواز کردند. چند پرنده در لانه باقی مانده است؟



۲. نیمه‌ی پایینی شکل را کامل کن.



چهار هوش اول دبستان



⋮
بیشتر

Word
به Word

Share

PDF
Edit PDF

Add



+ Tags

Book Hoo...mpressed

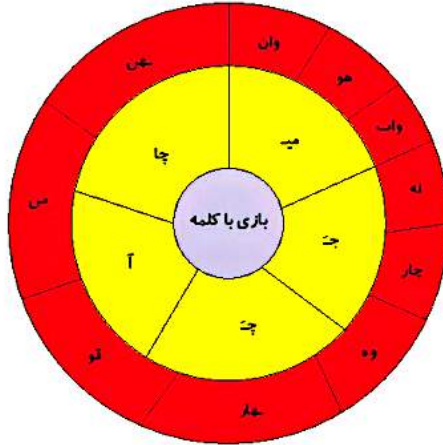


چهار هوش اول دبستان



علوی

۱. به گردونه‌ی کلمه سازی دقت کن. چند کلمه می‌توانی بسازی؟



۲. در زمان‌های قدیم برای هر نشانه یک علامت در نظر گرفته بودند.

*	*	×	⊕	+	=	≡	-	
خ	چ	ج	ش	س	ت	پ	ب	آ
⊙	⊗	⊖	⊕	⊗	⊕	⊖	⊙	⊕
ن	م	ل	گ	ک	ز	ر	د	ای ی ای

۳. ای مثال کلمه‌ی باد را به این صورت می‌نوشتند: **⊙ | ⊕**

۴. الا شما کلمه‌ی شیرینی را با کمک نشانه‌های داده شده بنویس.

۵. وین ماه فصل پاییز را با کمک نشانه‌های داده شده بنویس.

۶. نشان دهنده‌ی چه کلمه‌ی ای است؟ **⊕ | ⊖ ⊗ ⊕**



⋮
بیشتر

Word
به Word

Share

PDF
Edit PDF

Add



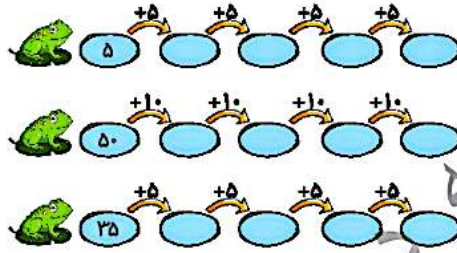
+ Tags

Book Hoo...mpressed

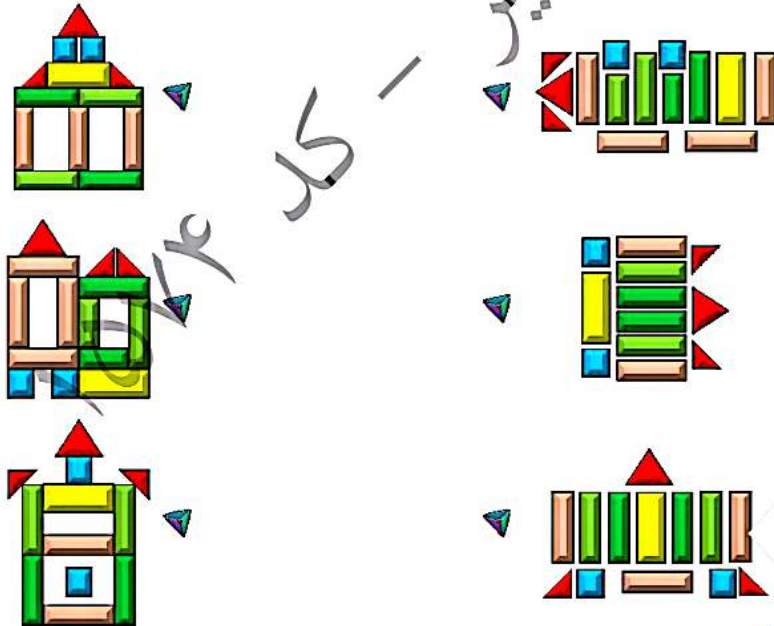


موضوع	شماره سوال	هفته آموزشی
هوش ریاضی - هکوی مددی	۱	بیستم
سرعت، دقت، تمرکز با کمک جسم فضایی	۲	
هوش کلاسی	۳	
هوش ریاضی	۴	

۱. جاهای خالی را با عدد مناسب کامل کن.



۲. هر شکل از چه قطعاتی ساخته شده است؟ وصل کن.



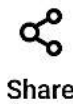
چهار هوش اول دبستان



علوی

۳. چندتا از کلمه‌های زیر تشدید دارند؟ آن‌ها را پیدا کن و با مداد قرمز برایشان تشدید بگذار.

آره کُمک بچه دکان دوم تشکُر کوچه



بیشتر

به Word

Share


Edit PDF

Add



+ Tags

Book Hoo...mpressed



چهارهوش اول دبستان

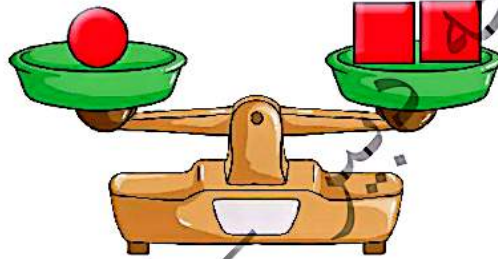


علوی

۳. چندتا از کلمه‌های زیر تشدید دارند؟ آن‌ها را پیدا کن و با مداد قرمز برایشان تشدید بگذار.

آره	کُمک	بچه	ذکان	دوم	تَشکُر	کوچه
اول	آشپز	نِجار	بنا	سکه	زندگی	خواننده

۴. دو ترازو داریم که تعدادی شکل روی آن‌ها قرار گرفته است و هر دو کفه در وضعیت تعادل هستند. چند مربع در کفه‌ی سمت راست ترازو قرار دهیم تا با ۳ دایره در تعادل باشد؟



۱۵۱



بیشتر



به Word



Share



Edit PDF



Add



+ Tags

Book Hoo...mpressed



موضوع	شماره سوال	هفته آموزشی
هوش ریاضی - جمع مدهای مضرب ۱۰	۱	بیست و یکم
هوش فضایی	۲	
هوش کلاسی	۳	
سرعت، دقت، تمرکز یا کمک جسم فضایی	۴	

۱. جدول را به صورت ذهنی کامل کن.

10 + 20 = []

[] + [] = []

[] + 10 = []

[] = []

50

60 + 20 = []

[] + [] = []

[] + [] = []

30 + [] = 90

[] + [] = []

[] + 20 = []

[] = []

10 + [] = 70

[] + [] = []

[] = []

[] = 90

نسخه

۲. اگر نشانه‌های تخم مرغ را از بالا نگاه کنیم، هر شکل به کدام تصویر سمت چپ مربوط است؟

چهل هوش اول دبستان



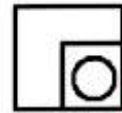
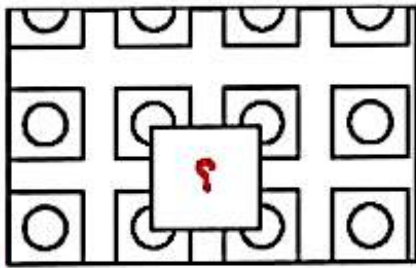
علوی

- بیشتر
- Word به Word
- Share
- Edit PDF
- Add

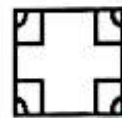
۳. با مداد قرمز برای کلمه‌های زیر نقطه بگذر و جمله را بخوان.

هَر سَب قَبْل آر حَوَاب آر بَدْرَم حَوَاهِس مِی گُم نا تَرَاتِم کِنَابِ
داسانِ جِسْمه و خَراگاهِ بَحَوَاتِد.

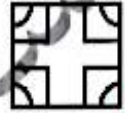
۴. به جای ؟ کدام گزینه را قرار می‌دهی؟



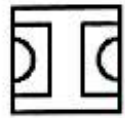
(۲)



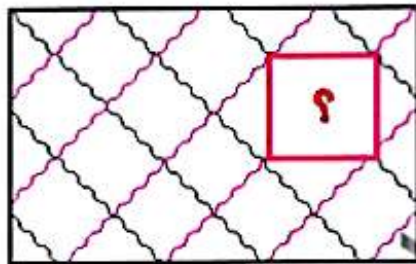
(۳)



(۱)



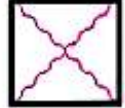
(۴)



(۲)




(۳)



(۱)



(۴)



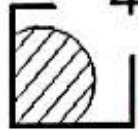
(۲)



(۳)



47



(۴)

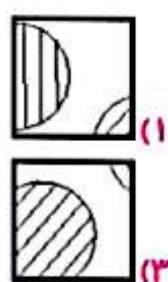
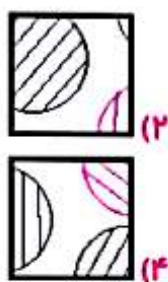
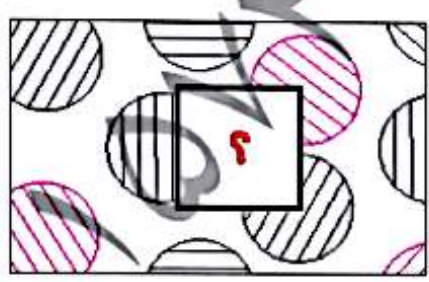
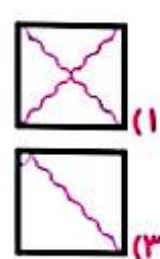
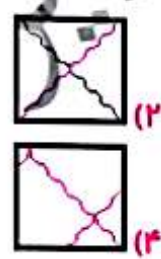
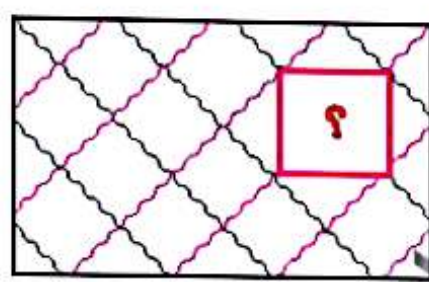
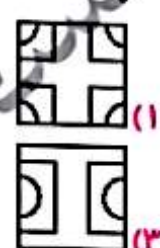
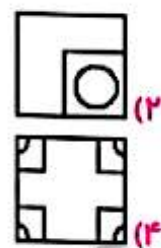
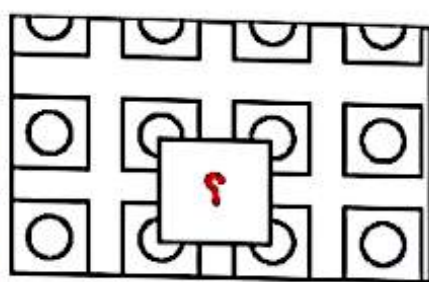


علوی

۳. با مداد قرمز برای کلمه‌های زیر نقطه بگذارد و جمله را بخوان.

هر سب قبل آر حواب آر بذرَم حوايس می گم با ترا تم كِتابِ
 داسايِ جِسْمه و خِراگاهِ بَحواند.

۴. به جای ؟ کدام گزینه را قرار می‌دهی؟



موضوع	شماره سوال	هفته آموزشی
هوش ریاضی - حل مسأله	۱	بیست و دوم
هوش فضایی - جمع اشکال	۲	
هوش کلامی	۳	
سرعت، دقت، تمرکز	۴	

۱. در پارک، ۱۵ پسر مشغول بازی بودند. ۲ نفر به خانه برگشتند. ۲ تای دیگر با مادرشان به خرید و ۲ پسر دیگر هم به کتابخانه رفتند. چند پسر در پارک باقی مانده است؟



۲. با توجه به عددهای هر شکل، حاصل جمعها را به دست بیاور.

۱	۳	۴	۵	۶	۷	۸

$$\begin{array}{l}
 \text{Red triangle} + \text{Pink diamond} + \text{Green circle} = \\
 \text{Grey pentagon} + \text{Orange square} + \text{Yellow triangle} = \\
 \text{Yellow triangle} + \text{Yellow triangle} + \text{Red triangle} = \\
 \text{Red triangle} + \text{Pink diamond} + \text{Purple trapezoid} =
 \end{array}$$

چهار هوش اول دبستان



علوی

۳. با کارت نشانه‌ها کلمه بساز. می‌توانی از هر کارت چند بار استفاده کنی.

ه	ل	و	او	چ	چ	ل	ل	ک	ک
---	---	---	----	---	---	---	---	---	---



بیشتر

Word به Word

Share

Edit PDF

Add



+ Tags

Book Hoo...mpressed



علوی

۳. با کارت نشانه‌ها کلمه بساز. می‌توانی از هر کارت چند بار استفاده کنی.

ه	او	چ	ل	ک
---	----	---	---	---

.....: ○ ○ ○

.....: ○ ○ ○

.....: ○ ○ ○

.....: ○ ○ ○

.....: ○ ○ ○

.....: ○ ○ ○

۴. به جای ؟ کدام گزینه را انتخاب می‌کنی؟

			؟

			؟



موضوع	شماره سوال	هفته آموزشی
هوش ریاضی - جمع اعداد	۱	
هوش فکری	۲	
هوش کلامی	۳	

بیشتر

Word به Word

Share

Edit PDF

Add



موضوع	شماره سؤال	هفته آموزشی
هوش ریاضی - جمع اعداد	۱	بیست و سوم
هوش فضایی	۲	
هوش کلامی	۳	
سرعت، دقت، تمرکز	۴	
هوش فضایی	۵	

۱. هر دسته کارت را از اعداد بزرگ به کوچک مرتب کن و حاصل جمع آن‌ها را به دست بیاور.

3 5
10 20

5 20 10
5 5 30

نسخه دبیر

۲. رابطه‌ی با مثل رابطه‌ی با است.

(۳) (۲) (۱)

۳. جمله‌ها را به ترتیب کارهایی که انجام می‌دهی شماره گذاری کن.

۵۰ بیش از خواب به پدز و مادرم، شب به خیر می‌گویم.

خواهرم صدف، قبل از خواب برایم کتاب می‌خواند.

اسم من سما است.

من هر شب قبل از رفتن به اتاق خواب، مسواک می‌زنم.

چهار هوش اول دبستان



بیشتر

Word به Word

Share

Edit PDF

Add



+ Tags

Book Hoo...mpressed


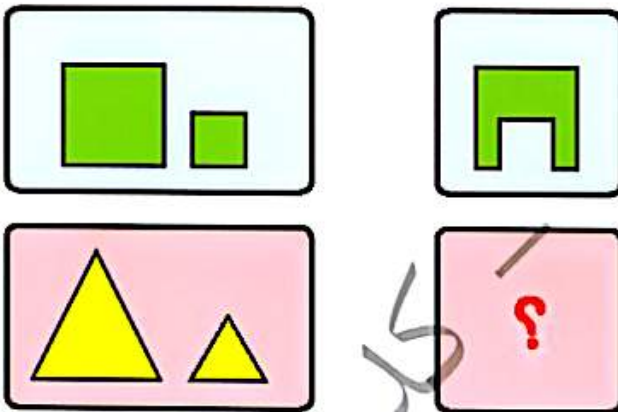


موضوع	شماره سوال	هفته آموزشی
هوش ریاضی - الگو و نمایش آن در ساعت	۱	بیست و چهارم
هوش فضایی	۲	
سرعت، دقت، تمرکز	۳	
هوش کلامی	۴	

۱. با توجه به الگو، عقربه‌های ساعت را بکش.



۲. به جای ؟ کدام شکل را می‌توان قرار داد؟



علوی

۳. برای هر علامت، یک عدد در نظر گرفته‌ایم. حالا با توجه به آن، به سؤال‌های زیر جواب بده.

۱	۲	۳	۴	۵	۶	۷	۸	۹

عدد علامت

+ =

- =

+ =

۴. پدر رضا نجار است. رضا در تابستان روزهای شنبه، دوشنبه و چهارشنبه به دکان پدرش می‌رود و به او کمک می‌کند تا با چوب، آزه و میخ، میز و کمد بسازد.

♦ رضا چند روز در ۲ هفته به دکان پدرش می‌رود؟

♦ رضا برای چه به دکان پدرش می‌رود؟



+ Tags

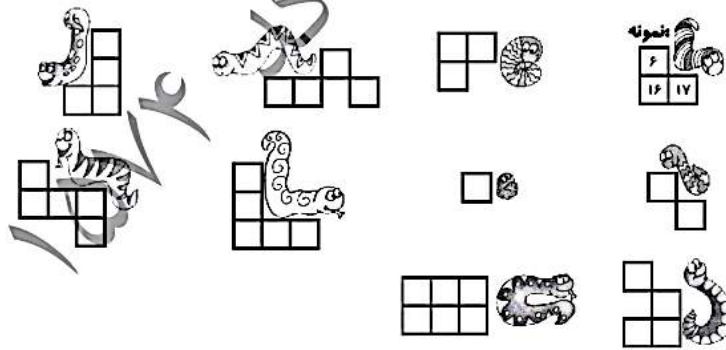
Book Hoo...mpressed



موضوع	شماره سوال	هفته آموزشی
هوش ریاضی - اعداد ۱ تا ۹۹	۱	بیست و پنجم
سرعت، دقت، تمرکز	۲	
هوش کلامی	۳	
هوش فضایی	۴	

۱. مارها روی بعضی از خانه‌های جدول خولیده‌اند. اعدادی را که پنهان شده است، پیدا کن و بنویس.

۱	۲	۳	۴	۵	۶	۷	۸	۹
۱۱	۱۲	۱۳	۱۴	۱۵	۱۶	۱۷	۱۸	۱۹
۲۱	۲۲	۲۳	۲۴	۲۵	۲۶	۲۷	۲۸	۲۹
۳۱	۳۲	۳۳	۳۴	۳۵	۳۶	۳۷	۳۸	۳۹
۴۱	۴۲	۴۳	۴۴	۴۵	۴۶	۴۷	۴۸	۴۹
۵۱	۵۲	۵۳	۵۴	۵۵	۵۶	۵۷	۵۸	۵۹
۶۱	۶۲	۶۳	۶۴	۶۵	۶۶	۶۷	۶۸	۶۹
۷۱	۷۲	۷۳	۷۴	۷۵	۷۶	۷۷	۷۸	۷۹
۸۱	۸۲	۸۳	۸۴	۸۵	۸۶	۸۷	۸۸	۸۹
۹۱	۹۲	۹۳	۹۴	۹۵	۹۶	۹۷	۹۸	۹۹



۲. اگر اعداد ۷۰-۸۲-۱۳-۴۰-۵۱-۱۲-۳۱ را به ترتیب از کوچک به بزرگ و از چپ به راست بنویسیم، دومین عدد از سمت چپ کدام است؟ دور آن خط بکش.

54

چهار هوش اول دبستان



علوی

بیشتر

Word به Word

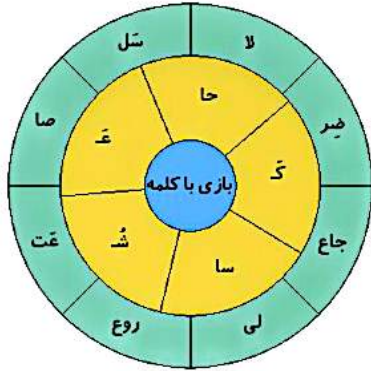
Share

Edit PDF

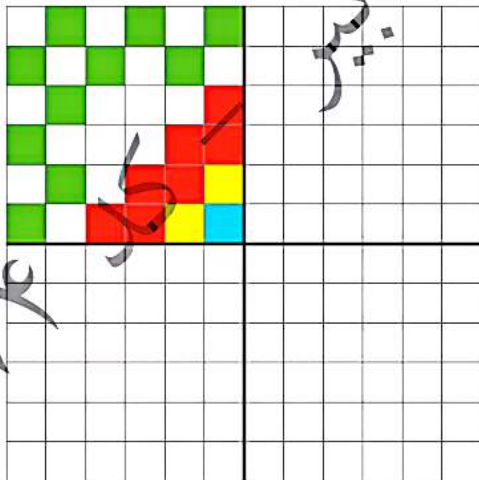
Add

علوی

۳. به گردونه‌ی کلمه سازی دقت کن. چند کلمه می‌توانی بسازی؟ آن‌ها را بنویس.



۴. فرش زیر به چهار قسمت تقسیم شده است. سه قسمت دیگر فرش را مانند قسمت رنگ شده کامل کن.





+ Tags

Book Hoo...mpressed



موضوع	شماره سوال	هفته آموزشی
هوش ریاضی - جمع اعداد به کمک هوش فضایی	۱	بیست و ششم
هوش فضایی	۲	
هوش کلامی	۳	
سرعت، دقت، تمرکز	۴	

۱. هر شکل یک عدد را نشان می‌دهد. حاصل عبارت‌های زیر را به دست بیاور.

☆ = ۲

🌸 = ۵

🍄 = ۸

🍄 + 🌸 + ☆ =

☆ + 🍄 - 🌸 =

🍄 - ☆ - 🌸 =

۲. دایره‌ها را مطابق با حلقه‌های رنگی رنگ بزن.

چهار هوش اول دبستان

علوی

بیشتر

Word به Word

Share

Edit PDF

Add



علوی

۳. ارتباط با مثل ارتباط با کتاب داستان است.

- (۱) نویسنده (۲) قصه (۳) کتاب فروشی (۴) کتاب خانه

۴. هر شکل نشان دهنده‌ی یک عدد است. با توجه به شکل‌ها و اعداد به سوالات زیر پاسخ بده.

۱	۲	۳	۴	۵	۶

♦ حاصل + کدام است؟
 (۱) ۳ (۲) ۶ (۳) ۹ (۴) ۵

♦ اگر عدد ۲۶ را به صورت نشان دهیم، عدد ۴۵ را با شکل نشان بده.

♦ کدام عدد بزرگ تر است؟

(۲)

(۱)

(۴)

(۳)



۱. جدول زیر را کامل کن.

تست هوش

۶ + = ۷

۱ + = ۲

۲ + = ۴

۴ + =

+ = ۷

+ = ۲

+ = ۹

۵ + =

+ =

۳ + =

۲ + =

+ = ۷

+ =

+ = ۸



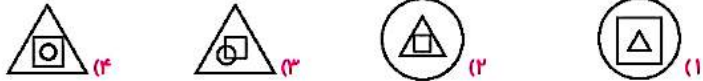
	+		=	۸
--	---	--	---	---

چهار هوش اول دبستان



علوی

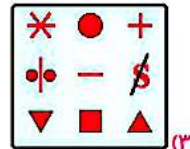
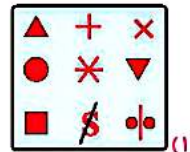
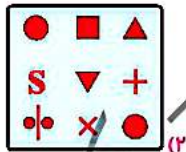
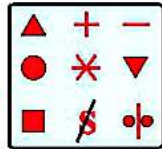
۲. در کدام شکل، مربع داخل مثلث هست، اما داخل دایره نیست؟



۳. کدام کلمه با بقیه فرق دارد؟

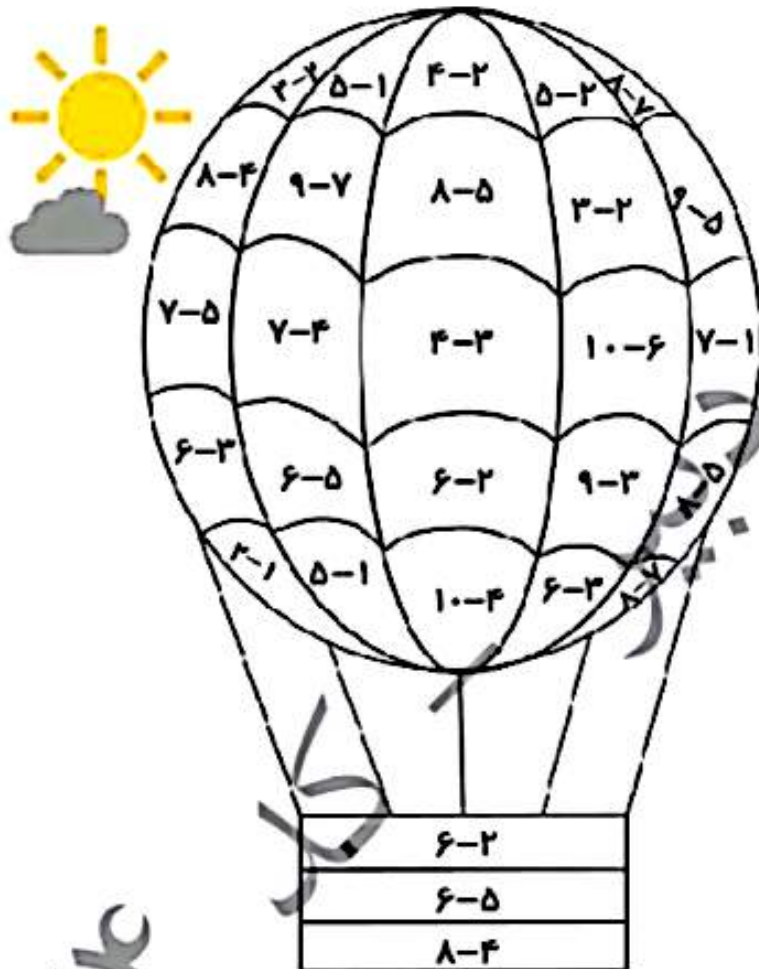
- (۱) شایقت
- (۲) غروب
- (۳) قطار
- (۴) سطل

۴. همه‌ی علامت‌های سمت چپ در کدام دسته به طور کامل تکرار شده است؟



موضوع	شماره سوال	هفته آموزشی
هوش ریاضی - تفریق اعداد	۱	بیست و هشتم
هوش فضایی	۲	
هوش کلاسی	۳	
سرعت، دقت، تمرکز	۴	

۱. جواب تفریق‌های زیر را به دست بیاور و متناسب با اعداد رنگ بزن.



۱ =  ۲ =  ۳ =  ۴ =  ۵ =  ۶ = 

۲. تعداد حنه‌ها، هر ساختمان را مشخص کن.

علوی

۳. در یک روز گرم تابستان، ستایش و مادرش در کنار حوض وسط حیاط نشسته بودند. مادر کتاب داستانی را برای دخترش می‌خواند که ناگهان صدای زنگ در آمد. ستایش به‌سوی در رفت و پرسید چه کسی پشت در است؟ پدر گفت: «من و سینا». ستایش در را باز کرد و به پدر و برادرش خوش آمد گفت.

- ♦ نام دختر و پسر خانواده چه بود؟
- ♦ مادر به چه کاری مشغول بود؟
- ♦ چه کسی در را باز کرد؟
- ♦ چه کسانی پشت در بودند؟

۴. هر شکل یک عدد از تاس را نشان می‌دهد. با توجه به عدد هر شکل، جدول را مانند نمونه کامل کن.

$2+2+3+3+6=17$					

