





فاطمه ۱۱ مهره‌ی رنگی داشت. ۴ تا مهره‌ی قرمز هم خرید. حالا فاطمه چند مهره دارد؟

$$11 + 4 = \underline{\quad}$$

مهره دارد.

در خانه ۱۲ قاشق غذاخوری بود. مادر یک بسته‌ی ۶ تایی دیگر خرید.  
حالا چند قاشق غذاخوری در خانه است؟




از این صفحه دانش‌آموزان یاد می‌گیرند که برای حل کردن مسئله یک عبارت جمع یا تفریق بنویسند.

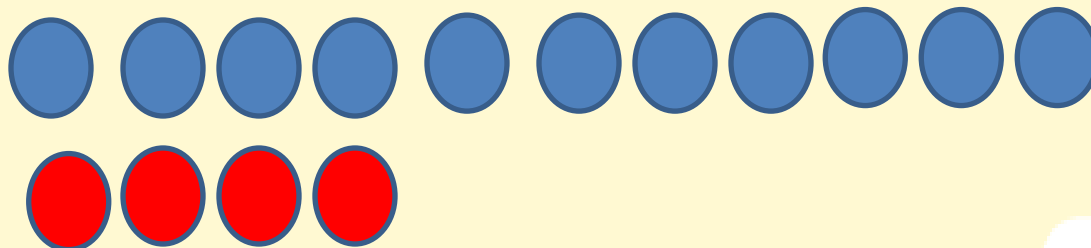
کشیدن شکل با استفاده از چیزهای ملموس یا انگشتان دست و چوب خط کمک می‌کند تا فرزند شما مسئله را بهتر درک



کند.




فاطمه ۱۱ مهره‌ی رنگی داشت. ۴ تا مهره‌ی قرمز هم خرید. حالا فاطمه چند مهره دارد؟

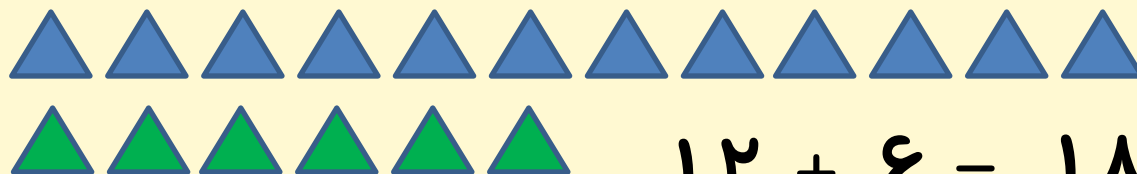


$$11 + 4 = 15$$

مهره دارد.



در خانه ۱۲ قاشق غذاخوری بود. مادر یک بسته‌ی ۶ تایی دیگر خرید.  
حالا چند قاشق غذاخوری در خانه است؟ ۱۸ قاشق در خانه است.



$$12 + 6 = 18$$

از این صفحه دانش‌آموزان یاد می‌گیرند که برای حل کردن مسئله یک عبارت جمع یا تفریق بنویسند.

کشیدن شکل با استفاده از چیزهای ملموس یا انگشتان دست و چوب خط کمک می‌کند تا فرزند شما مسئله را بهتر درک



کند.

مسئله‌ها را با استفاده از چوب خط، مهره و چیزهای دیگر حل کن؛ سپس جمله‌ها را کامل کن.  
در هر ردیف کدام سنگین‌تر است؟ با × مشخص کن.

مسئله  
حل کن



در گلدان ۶ گل سفید و ۸ گل صورتی بود. ۱۰ تا از گل‌ها پژمرده شد. چند گل شاداب در گلدان است؟


$$\square + \square = \square \quad \text{گل در گلدان است.}$$

$$\square - \square = \square \quad \text{گل شاداب است.}$$

مهرداد ۹ کاغذ رنگی زرد و ۷ کاغذ رنگی قرمز برداشت. ۱۲ تا از کاغذ رنگی‌ها را به دوستانش داد و با بقیه‌ی کاغذها یک بادبادک زیبا درست کرد. مهرداد با چند کاغذ رنگی بادبادک درست کرد؟


$$\square + \square = \square \quad \text{مهرداد کاغذ رنگی دارد.}$$

$$\square - \square = \square \quad \text{با کاغذ بادبادک درست کرد.}$$



مسئله‌ها را با استفاده از چوب خط، مهره و چیزهای دیگر حل کن؛ سپس جمله‌ها را کامل کن.  
 در هر ردیف کدام سنگین‌تر است؟ با × مشخص کن.

مسئله حل کن



در گلدان ۶ گل سفید و ۸ گل صورتی بود. ۱۰ تا از گل‌ها پژمرده شد. چند گل شاداب در گلدان است؟


۱۴ گل در گلدان است.  $6 + 8 = 14$


۴ گل شاداب است.  $14 - 10 = 4$

مهرداد ۹ کاغذ رنگی زرد و ۷ کاغذ رنگی قرمز برداشت. ۱۲ تا از کاغذ رنگی‌ها را به دوستانش داد و با بقیه‌ی کاغذها یک بادبادک زیبا درست کرد. مهرداد با چند کاغذ رنگی بادبادک درست کرد؟

مهرداد ۱۶ کاغذ رنگی دارد.  $9 + 7 = 16$


با ۴ کاغذ بادبادک درست کرد.  $16 - 12 = 4$





هدف این صفحه، تمرین راهبرد زیر مسئله است. دانش‌آموزان باید خودشان مسئله‌ی دو مرحله‌ای را تشخیص دهند و حل کنند. از فرزند خود بخواهید دو مرحله از حل مسئله را به صورت کلامی برای شما توضیح دهد.





هدف این صفحه، تمرین راهبرد زیر مسئله است. دانش‌آموزان باید خودشان مسئله‌ی دو مرحله‌ای را تشخیص دهند و حل کنند. از فرزند خود بخواهید دو مرحله از حل مسئله را به صورت کلامی برای شما توضیح دهد.

