

به نام خدا

امروز شنبه ۲۹ فروردین ۱۴۰۵ است.

۱	۲	۳	۴	۵	۶	۷	۸	۹	۱۰
۱۱	۱۲	۱۳	۱۴	۱۵	۱۶	۱۷	۱۸	۱۹	۲۰
۲۱	۲۲	۲۳	۲۴	۲۵	۲۶	۲۷	۲۸	۲۹	۳۰
۳۱	۳۲	۳۳	۳۴	۳۵	۳۶	۳۷	۳۸	۳۹	۴۰
۴۱	۴۲	۴۳	۴۴	۴۵	۴۶	۴۷	۴۸	۴۹	۵۰
۵۱	۵۲	۵۳	۵۴	۵۵	۵۶	۵۷	۵۸	۵۹	۶۰
۶۱	۶۲	۶۳	۶۴	۶۵	۶۶	۶۷	۶۸	۶۹	۷۰
۷۱	۷۲	۷۳	۷۴	۷۵	۷۶	۷۷	۷۸	۷۹	۸۰
۸۱	۸۲	۸۳	۸۴	۸۵	۸۶	۸۷	۸۸	۸۹	۹۰
۹۱	۹۲	۹۳	۹۴	۹۵	۹۶	۹۷	۹۸	۹۹	😊



با کمک شکل، جاهای خالی را پر کن؛ سپس مسئله‌ها را با استفاده از شکل حل کن.


مسئله
حل کن




۸




۱۲



۱۵



۱۷



۲۳

با کمک شکل، جاهای خالی را پر کن؛ سپس مسئله‌ها را با استفاده از شکل حل کن.


مسئله
حل کن




۸




۱۶



۲۴



۳۲



۴۰


مهری ۲۴ عکس از کودکی خود دارد. مادر بزرگ ۸ تا از عکس هایش را گرفت. حالا چند عکس دارد؟

اگر خاله هم ۸ عکس دیگرش را بگیرد، چند عکس برایش باقی می ماند؟

$$24 - 8 = 16$$

$$16 - 8 = 8$$

۸ عکس برایش می ماند.



علی ۲۷ تپله داشت. ۷ تارابه دوستش رضا داد. ۵ تا تپله ی دیگر را هم به محمد داد. حالا چند تا تپله
برایش باقی مانده است؟

_____ تپله باقی می ماند.



هدف این صفحه، حل مسئله با استفاده از رسم شکل است.

توجه کنید که فرزندان با کمک شکل، شمردن ۸ تا ۸ تا را انجام دهند.




صد و هفتاد

۱۷۰

علی ۲۷ تپله داشت. ۷ تارابه دوستش رضا داد. ۵ تاپله ی دیگر را هم به محمد داد. حالا چند تاپله
برایش باقی مانده است؟

$$27 - 7 - 5 = 15$$

۱۵ تپله باقی می ماند.





هدف این صفحه، حل مسئله با استفاده از رسم شکل است.
توجه کنید که فرزندان با کمک شکل، شمردن ۸ تا ۸ تا را انجام دهند.



صد و هفتاد

۱۷۰

مسئله حل کن

مسئله‌های زیر را با هر روشی که می‌خواهی، حل کن. 
کدام کار در مدت کمتری انجام می‌شود؟ \times بزن. 



یک کلاس دبستان، ۳۳ دانش‌آموز دارد. آموزگار در ابتدای سال، به هر کدام از دانش‌آموزان یک مداد هدیه داد. او در ابتدای آبان ماه نیز به مناسبت روز دانش‌آموز، به هر کدام از دانش‌آموزان یک مداد دیگر هدیه داد. آموزگار چند مداد هدیه داده است؟

..... مداد هدیه داده است.





مسئله حل کن

مسئله‌های زیر را با هر روشی که می‌خواهی، حل کن.
کدام کار در مدت کمتری انجام می‌شود؟ X بزن.



یک کلاس دبستان، ۳۳ دانش‌آموز دارد. آموزگار در ابتدای سال، به هر کدام از دانش‌آموزان یک مداد هدیه داد. او در ابتدای آبان ماه نیز به مناسبت روز دانش‌آموز، به هر کدام از دانش‌آموزان یک مداد دیگر هدیه داد. آموزگار چند مداد هدیه داده است؟

$$۳۳ + ۳۳ = ۶۶$$




۶۶ مداد هدیه داده است.

حسین ۷۴ عدد شکلات دارد و می خواهد آن را در بسته های ده تایی دسته بندی کند. او چند بسته ی ده تایی می تواند درست کند و چند عدد شکلات باقی می ماند؟

..... بسته ی ده تایی درست می شود و باقی می ماند.

حسین ۷۴ عدد شکلات دارد و می خواهد آن را در بسته های ده تایی دسته بندی کند. او چند بسته ی ده تایی می تواند درست کند و چند عدد شکلات باقی می ماند؟

.....۷..... بسته ی ده تایی درست می شود و۴..... باقی می ماند.






در این صفحه دانش آموز از هر روشی که دوست دارد می تواند مسئله را حل کند.



فرزند شما باید از زمان انجام کارها درک و تصویری داشته باشد. این موضوع را در موقعیت های مختلف تمرین کنید.





در این صفحه دانش آموز از هر روشی که دوست دارد می تواند مسئله را حل کند.



فرزند شما باید از زمان انجام کارها درک و تصویری داشته باشد. این موضوع را در موقعیت های مختلف تمرین کنید.



