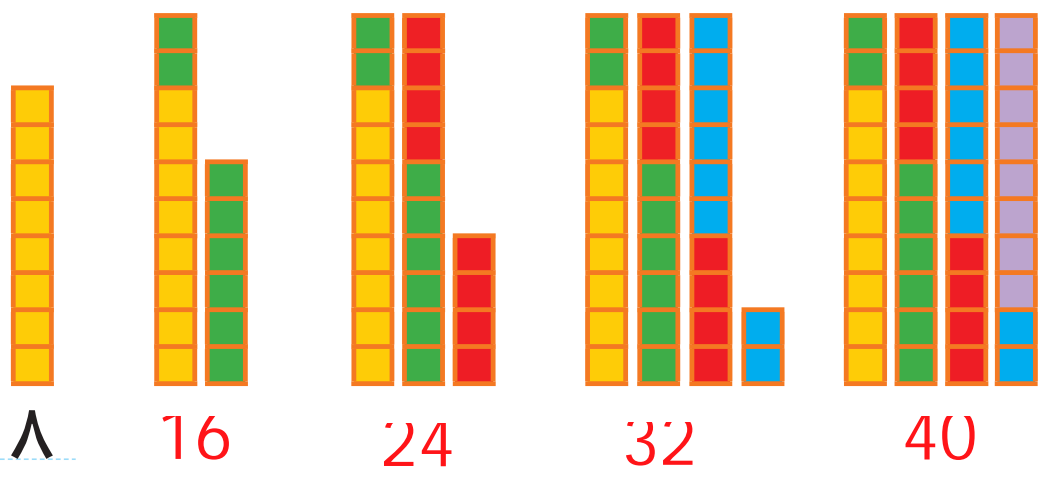


1	۲	۳	4	5	6	7	8	9	10
11	۱۲	13	14	15	16	17	18	19	20
21	22	23	24	25	26	27	28	29	30
31	32	33	34	35	36	37	38	39	40
41	42	43	44	45	46	47	48	49	50
51	52	53	54	55	56	57	58	59	60
61	62	63	64	65	66	67	68	69	70
71	72	73	74	75	76	77	78	79	80
81	82	83	84	85	86	87	88	89	90
91	92	93	94	95	96	97	98	99	😊



با کمک شکل، جاهای خالی را پر کن؛ سپس مسئله‌ها را با استفاده از شکل حل کن.

مسئله
حل کن

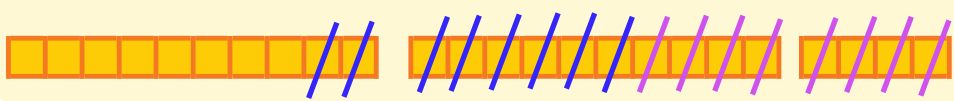


مهری ۲۴ عکس از کودکی خود دارد. مادر بزرگ ۸ تا از عکس‌هایش را گرفت. حالا چند عکس دارد؟ اگر خاله هم ۸ عکس دیگرش را بگیرد، چند عکس برایش باقی می‌ماند؟

$$24 - 8 = 16$$

$$16 - 8 = 8$$

۸ عکس برایش می‌ماند.




علی ۲۷ تیله داشت. ۷ تا را به دوستش رضا داد. ۵ تا تیله‌ی دیگر را هم به محمد داد. حالا چند تا تیله برایش باقی مانده است؟

$$27 - 7 = 20 \quad \text{راه دوم:}$$

$$27 - 7 - 5 = 15 \quad \text{راه اول:}$$

$$20 - 5 = 15$$

۱۵ تیله باقی می‌ماند.



هدف این صفحه، حل مسئله با استفاده از رسم شکل است. توجه کنید که فرزندان با کمک شکل، شمردن ۸ تا ۸ را انجام دهد.



صد و هفتاد

در هر قسمت عددهای مناسب بنویس.

بشمار و
بنویس



از عدد ۲۰ تا ۳۰ را یکی یکی بنویس.

۲۰ _ ۲۱ _ ۲۲ _ ۲۳ _ ۲۴ _ ۲۵ _ ۲۶ _ ۲۷ _ ۲۸ _ ۲۹ _ ۳۰

از عدد ۱۰ تا ۱۰۰ را یکی یکی بنویس.

۱۰ _ ۲۰ _ ۳۰ _ ۴۰ _ ۵۰ _ ۶۰ _ ۷۰ _ ۸۰ _ ۹۰

از عدد ۹۰ تا ۹۹ را یکی یکی بنویس.

۹۰ _ ۹۱ _ ۹۲ _ ۹۳ _ ۹۴ _ ۹۵ _ ۹۶ _ ۹۷ _ ۹۸ _ ۹۹

از عدد ۱۰ تا ۵۰ را ۵ تا ۵ بنویس.

۱۰ _ ۱۵ _ ۲۰ _ ۲۵ _ ۳۰ _ ۳۵ _ ۴۰ _ ۴۵ _ ۵۰

از عدد ۷۰ تا ۹۵ را ۵ تا ۵ بنویس.

۷۰ _ ۷۵ _ ۸۰ _ ۸۵ _ ۹۰ _ ۹۵

هدف این صفحه، تمرین شمردن چند تا چند تا بدون استفاده از شکل و به صورت ذهنی است. فرزند شما در این فعالیت، نوشتن نماد عددهای مختلف را تمرین می کند. دقت در چگونگی نوشتن نمادها اهمیت دارد.



صد و هفتاد و دو

۱۷۲