
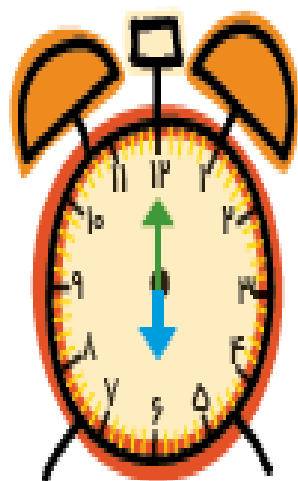

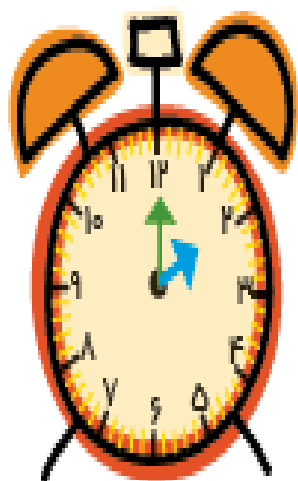




به نام خدا

به کلاس ریاضی خوش آمدید



هدف این صفحه، تشخیص اطلاعات اضافی یا اطلاعات کم هر مسئله است.

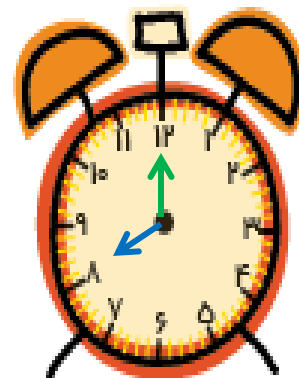





فرزند شما در فعالیت پایین صفحه علاوه بر نوشتن ساعت‌ها، الگورا تشخیص می‌دهد و مغزیه‌های ساعت را می‌کشد.



صد و هفتاد و یک

۱۷۴




هدف این صفحه، تشخیص اطلاعات اضافی یا اطلاعات کم هر مسئله است.


فرزند شما در فعالیت پایین صفحه علاوه بر نوشتن ساعت‌ها، الگو را تشخیص می‌دهد و عقربه‌های ساعت را می‌کشد.



صد و هفتاد و چهار

۱۷۴





۶ مسئله‌ها را با دقت بخوان، یک شکل ساده بکش و جواب را پیدا کن و روی محور نشان بده.

الف) هُما ۶ شکلات داشت. مادرش ۴ شکلات دیگر به او داد. حالا هُما روی هم چند شکلات دارد؟



مسئله‌ها را با دقت بخوان، یک شکل ساده بکش و جواب را پیدا کن و روی محور نشان بده.

۶

الف) هُما ۶ شکلات داشت. مادرش ۳ شکلات دیگر به او داد. حالا هُما روی هم چند شکلات دارد؟

$$۶ + ۳ = ۹$$



هما ۹ شکلات دارد.



ب) جواد ۴ مداد رنگی دارد. دوستش به او ۲ مداد سبز داد. حالا جواد روی هم چند مداد رنگی دارد؟



ب) جواد ۴ مداد رنگی دارد. دوستش به او ۲ مداد سبز داد. حالا جواد روی هم چند مداد رنگی دارد؟

$$۴ + ۲ = ۶$$



جواد ۶ مداد رنگی دارد



پ) لیلا ۵ کتاب داستان و برنا ۳ کتاب داستان دارند. آنها روی هم چند کتاب داستان دارند؟





□ دانش آموز بتواند مادرک و فهم مسئله با استفاده از شکل و محور آن را حل کند.

ریاضی اول دبستان



پ) لیلا ۵ کتاب داستان و برنا ۳ کتاب داستان دارند. آنها روی هم چند کتاب داستان دارند؟

آنها ۸ کتاب داستان دارند.  $5 + 3 = 8$



□ دانش آموز بتواند مادرک و فهم مسئله با استفاده از شکل و محور آن را حل کند.

ریاضی اول دبستان



# علوی

مسئله‌ها را با دقت بخوان، یک شکل ساده بکش و جواب را پیدا کن و روی محور نشان بده. ۷


الف) سهیما ۸ شاخه گل در گلدان دارد. مادرش ۲ شاخه گل از گلدان برداشت. چند شاخه‌ی گل در گلدان باقی مانده است؟




# علوی

مسئله‌ها را با دقت بخوان، یک شکل ساده بکش و جواب را پیدا کن و روی محور نشان بده. ۷

الف) سهیما ۸ شاخه گل در گلدان دارد. مادرش ۲ شاخه گل از گلدان برداشت. چند شاخه‌ی گل در گلدان باقی مانده است؟



۶ شاخه گل در گلدان باقی مانده است.  $۸ - ۲ = ۶$



ب) ۹ شیرینی در بشقاب بود. ستاره ۵ تا از آن ها را خورد. چند شیرینی در بشقاب باقی مانده است؟

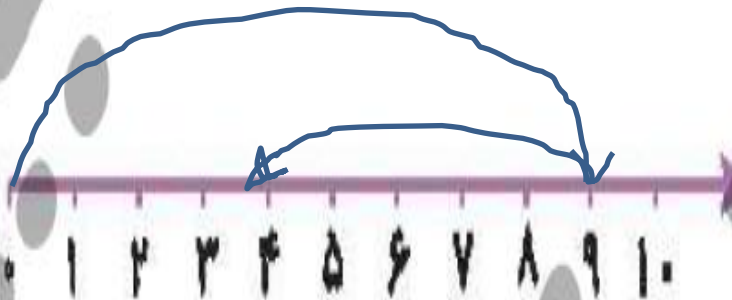
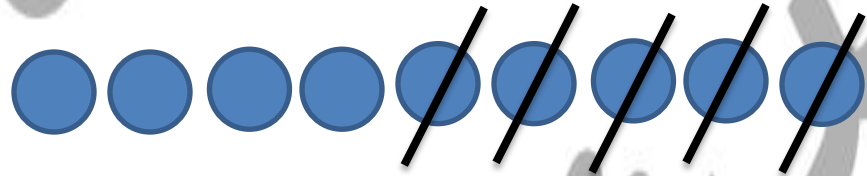


ب) ۹ شیرینی در بشقاب بود. ستاره ۵ تا از آن ها را خورد. چند شیرینی در بشقاب باقی مانده است؟




$$9 - 5 = 4$$

۴ شیرینی باقی مانده است.




پ) ۷ گنجشک روی شاخه‌ی درخت نشسته بود. ۴ تا از آن‌ها پرواز کردند و رفتند. حالا چند گنجشک روی شاخه‌ی درخت نشسته است؟



□ دانش آموز بتواند با درک و فهم مسئله با استفاده از شکل و محور آن را حل کند.



پ) ۷ گنجشک روی شاخه‌ی درخت نشسته بود. ۴ تا از آن‌ها پرواز کردند و رفتند. حالا چند گنجشک روی شاخه‌ی درخت نشسته است؟



$$7 - 4 = 3$$

۳ گنجشک روی شاخه درخت است.



□ دانش آموز بتواند با درک و فهم مسئله با استفاده از شکل و محور آن را حل کند.

